



個別指導塾フォルテ

×



算数

2年生

だい18せつ

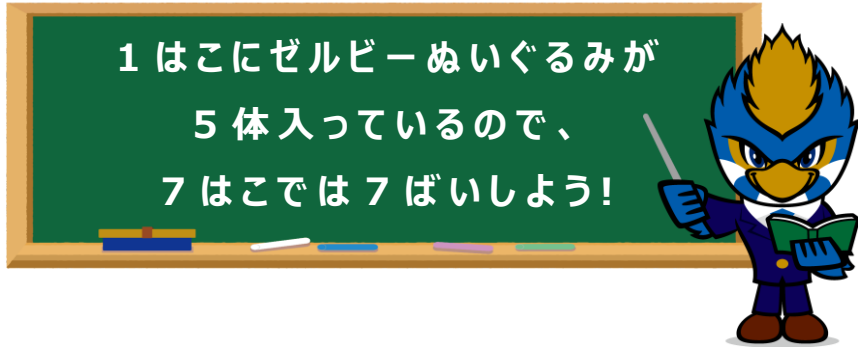
かけ算①



2、3、4、5のだんの九九をマスターしよう!

① 5のだんの九九

ゼルビーぬいぐるみが5体ずつ入ったはこが7はこあります。ゼルビーぬいぐるみはぜんぶで何体ありますか。



(しき)

答え
体

② 4のだんの九九

ゼルビアクッキー4こ入りのふくろが6ふくろあります。ゼルビアクッキーはぜんぶで何こありますか。



1ふくろにゼルビアクッキーが4こ入っているので、6ふくろでは6ばいしよう!

(しき)

答え
こ



Fight!!

1. かけ算をしましょう。

- | | |
|---------------------------------------|---------------------------------------|
| ① $2 \times 2 =$ <input type="text"/> | ② $2 \times 8 =$ <input type="text"/> |
| ③ $2 \times 4 =$ <input type="text"/> | ④ $2 \times 7 =$ <input type="text"/> |
| ⑤ $2 \times 6 =$ <input type="text"/> | ⑥ $2 \times 9 =$ <input type="text"/> |
| ⑦ $3 \times 1 =$ <input type="text"/> | ⑧ $3 \times 5 =$ <input type="text"/> |
| ⑨ $3 \times 3 =$ <input type="text"/> | ⑩ $3 \times 8 =$ <input type="text"/> |
| ⑪ $3 \times 4 =$ <input type="text"/> | ⑫ $3 \times 7 =$ <input type="text"/> |

2. かけ算をしましょう。

- | | |
|---------------------------------------|---------------------------------------|
| ① $4 \times 6 =$ <input type="text"/> | ② $4 \times 4 =$ <input type="text"/> |
| ③ $4 \times 9 =$ <input type="text"/> | ④ $4 \times 2 =$ <input type="text"/> |
| ⑤ $4 \times 7 =$ <input type="text"/> | ⑥ $4 \times 8 =$ <input type="text"/> |
| ⑦ $5 \times 3 =$ <input type="text"/> | ⑧ $5 \times 6 =$ <input type="text"/> |
| ⑨ $5 \times 5 =$ <input type="text"/> | ⑩ $5 \times 9 =$ <input type="text"/> |
| ⑪ $5 \times 4 =$ <input type="text"/> | ⑫ $5 \times 7 =$ <input type="text"/> |

3. かけ算のしきを書きましょう。

① 1 ふくろ 2 この 8 ふくろ分

$$\square \times \square = \square$$

1 ふくろ分の数

ふくろの数

ぜんぶの数

② 1 ペン 4 cmのさいころを 5 こつなげたときの長さ


$$\square \times \square = \square$$

さいころの長さ


さいころの数

ぜんぶの長さ

がんばれ!!!



あと、ちょっと



1

おく山まさゆきせん手のサイン入り色紙の当たるキャンペーンをじっしします。
キャンペーン期間は1週間で、1日5人当たります。



① おく山せん手は何まいサインすればいいですか。

しき

答え

まい

② 人気があったため、期間が3日えん長されました。
おく山せん手は、ついかで何まいサインすればいいですか。
また、ぜん体では何まいサインすればいいですか。



しき

答え

答え

ついかで まい

ぜん体で まい