



個別指導塾フォルテ

×



さんすう

1ねんせい

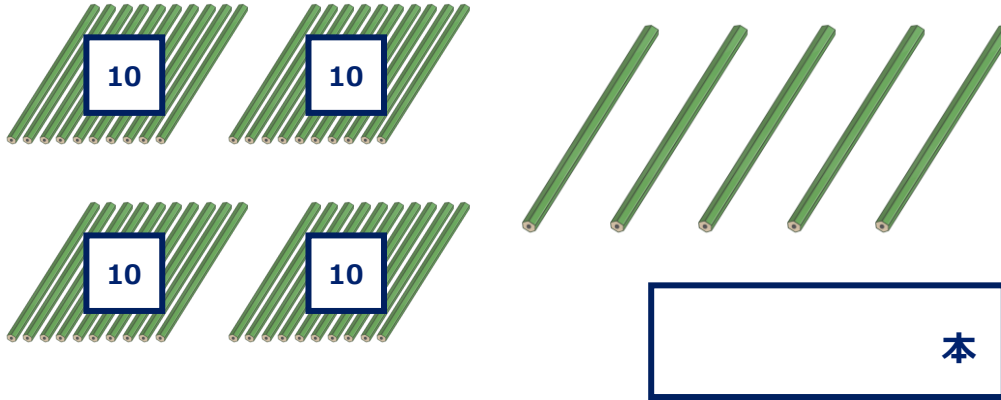
だい19せつ

おおきいかず



おおきいかずのかぞえかたをみにつけよう!

えんぴつの かずを すうじで かきましょう。

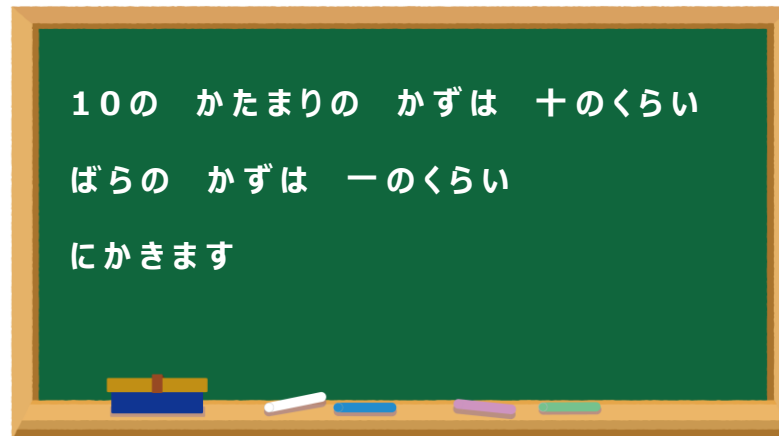


ひやく
 10が 10こで 100というよ!
 例えば、108は、
 10が 10こ、1が 8こ
 あつまったかずだね。

10が 4こあつまると 40に なります。

40と 5が あわさって 45 (よんじゅうご) に なります。

十のくらい	一のくらい
4	5



① 10が 6こと、 1が8こ あつまったかず。

十のくらい

一のくらい

こたえ

② 10が 10こと、 1が5こ あつまったかず。

ひやく
百の
くらい

十の
くらい

一の
くらい

こたえ

③ 10が 18こと、 1が7こ あつまったかず。

百の
くらい

十の
くらい

一の
くらい

こたえ

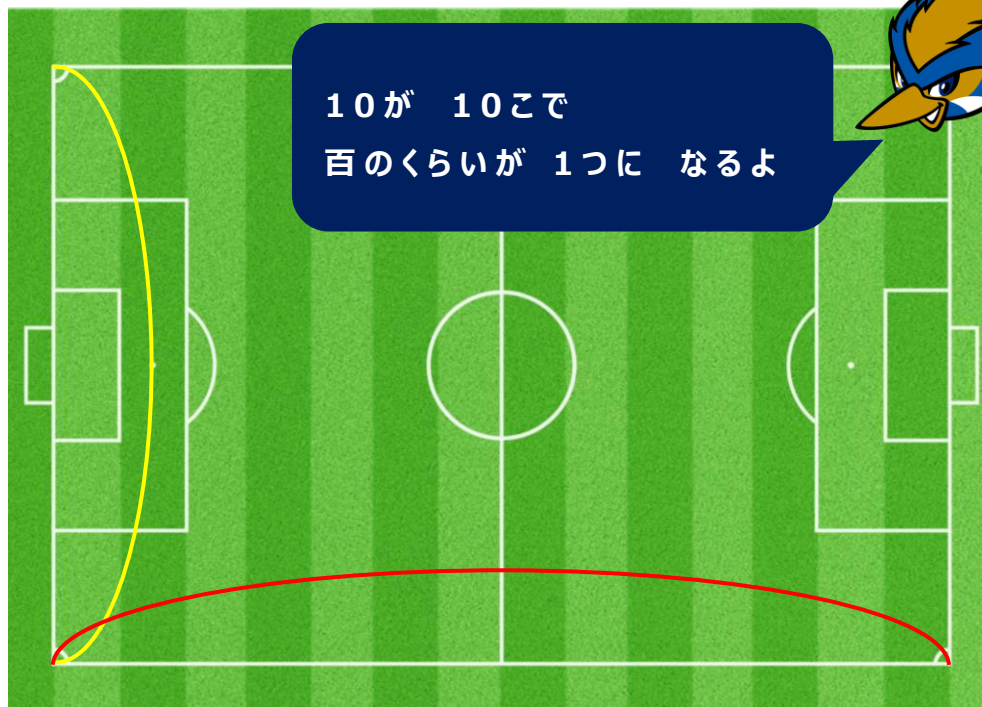
ヒント



①と②は フィールドの どころかの
ながさに なっています!

③は ぼくの しんちょう です!

10が 10こで
百のくらいが 1つに なるよ




40

布施谷 翔
ふせや しょう

[コラム] おおきなかずのけいさん「 $40 + 20$ をかんがえてみよう！」

40は 10が 4つあつまったかず



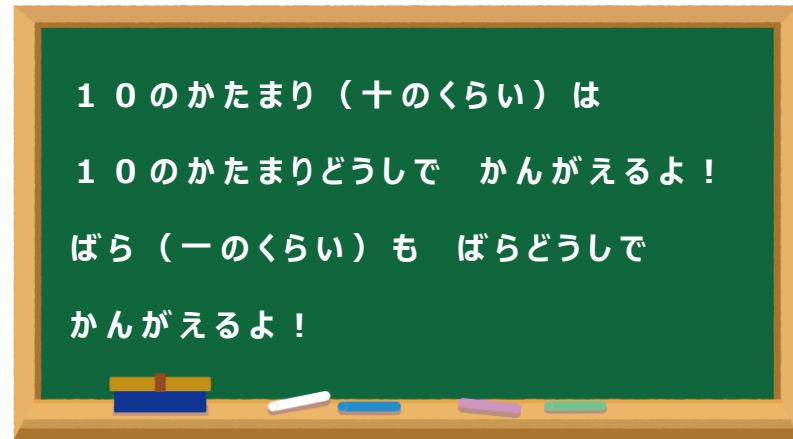
20は 10が 2つあつまったかず

なので 10の かたまりの かずを かぞえると



$4 + 2 = 6$ で 10の かたまりが 6こあることが わかるね。

つまり $40 + 20 = 60$ と もとめることが できるよ！



つぎの かずは なにか もとめましょう。

1 21より4おおきいかず

こたえ

3 35より5おおきいかず

こたえ

2 27より3ちいさいかず

こたえ

4 41より6ちいさいかず

こたえ

#25
 ふじお しょうた
 藤尾 翔太 選手



#33
 まつい れんじ
 松井 蓮之 選手



#43
 すずき じゅんや
 鈴木 準弥 選手



21 22 23 24 25 26 27 28 29 30 31 32 33 34 35 36 37 38 39 40 41 42 43