



個別指導塾フォルテ

×



算数

1ねんせい

だい17せつ

たしざん



1けたのたしざんをマスターしよう！

【れい】 $9 + 5$

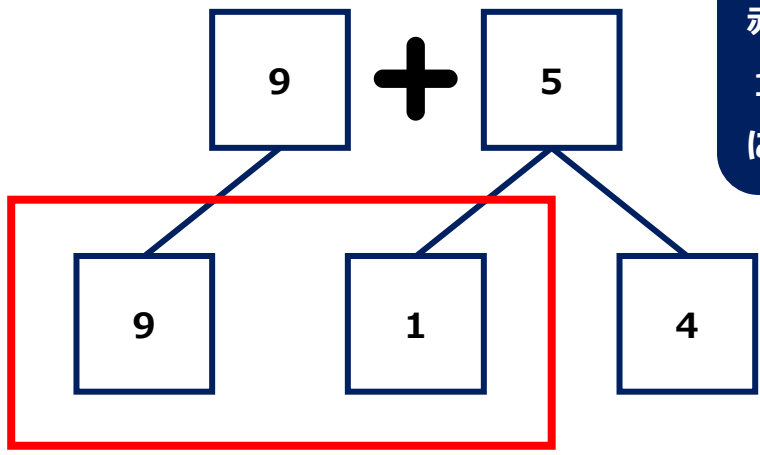
けいさんの しかたを かんがえましょう。

- ① 9は あと 1で 10。
- ② 5を 1と4に わける。
- ③ 9に 1をたして 10。
- ④ 10と 4で 14。

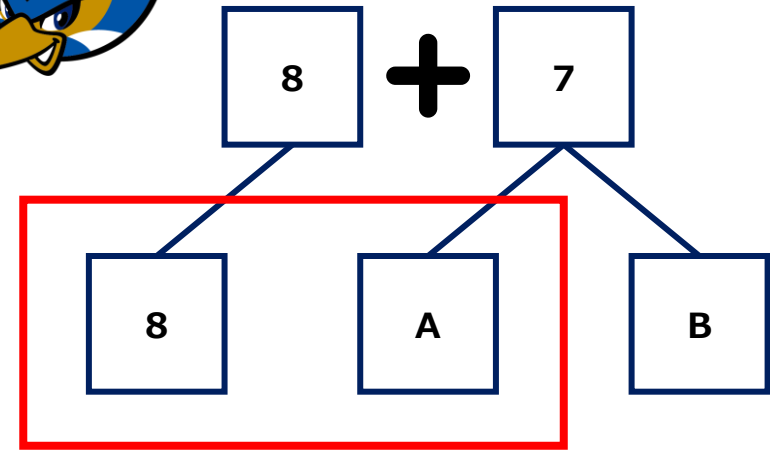
【れんしゅう】 $8 + 7$

けいさんの しかたを かんがえましょう。

- ① 8は あと Aで 10。
- ② 7を AとBに わける。
- ③ 8に Aをたして 10。
- ④ 10と Bで C。



赤いわくが
 10になるよう
 にかんがえてみよう!



せんしゅの せばんごうを あわせたら 1 1 になるように せんでむすびましょう。



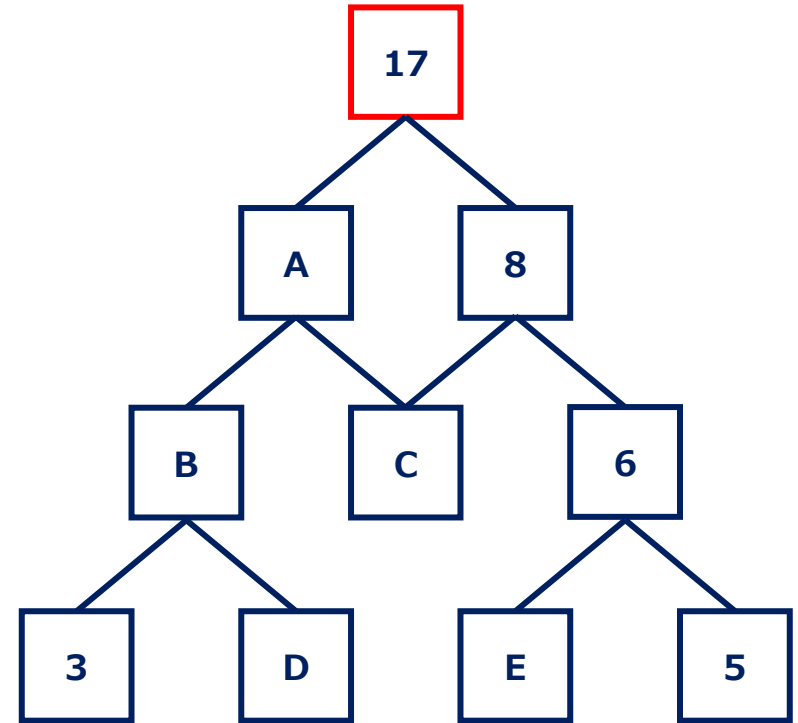
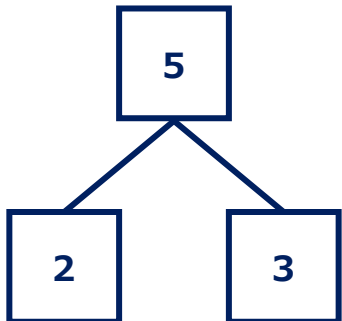
【コラム】たしざんツリー

ルールをまもって みぎの たしざんツリーを かんせいさせよう!

【ルール】

- ① 9つの □には、
1～9の すうじが それぞれ 1つずつ入ります。
- ② せんで つながっている 下の2つの □の かずを たすと、
上の □の かずに なります。

(れい)



むずかしいときは
E からかんがえるといいよ!





しょうがくせいの サッカーの 大会では 8人せいが 広がっています。
8人せいの サッカーでは、8人のせんしゅが どうじに しあいしゅつじょうし、
6人の せんしゅが ベンチにいます。
つぎのもんだいは、 8にんせいサッカー としてかんがえます。しきをかいて こたえを もとめましょう。

だい1
しあい

ゼルビーが かんとくの『FCゼルビー』が しあいをします。
こうたいせんしゅ6人のうち、 4人が とちゅうから しあいしゅつじょうしました。
『FCゼルビー』の せんしゅは あわせてなん人 しあいしゅつじょうしましたか。

しき

こたえ

だい2
しあい

ゼルビーが かんとくの『FCゼルビー』が 2しあいを たたかいました。
『FCゼルビー』は こうたいせんしゅ ぜんいんが とちゅうから しあいしゅつじょうしました。
『FCゼルビー』の せんしゅは あわせてなん人 しあいしゅつじょうしましたか。

しき

こたえ