



個別指導塾フォルテ

×



さんすう

こたえあわせ

1ねんせい

だい17せつ

たしざん



1けたのたしざんをマスターしよう!

【れい】9+5

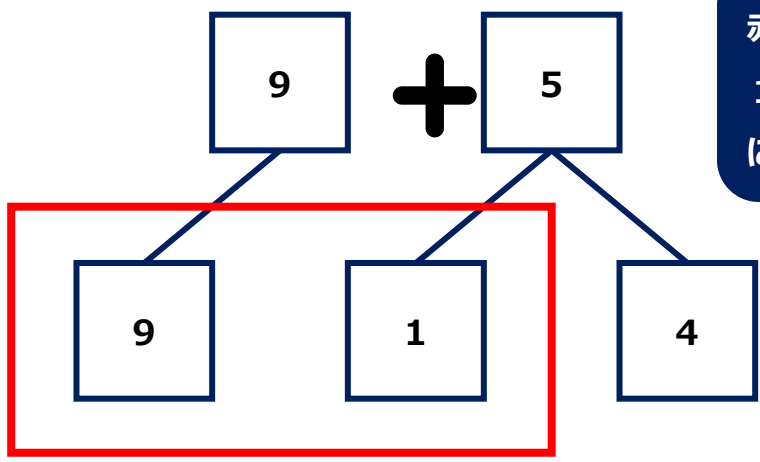
けいさんの しかたを かんがえましょう。

- ① 9は あと 1で 10。
- ② 5を 1と4に わける。
- ③ 9に 1をたして 10。
- ④ 10と 4で 14。

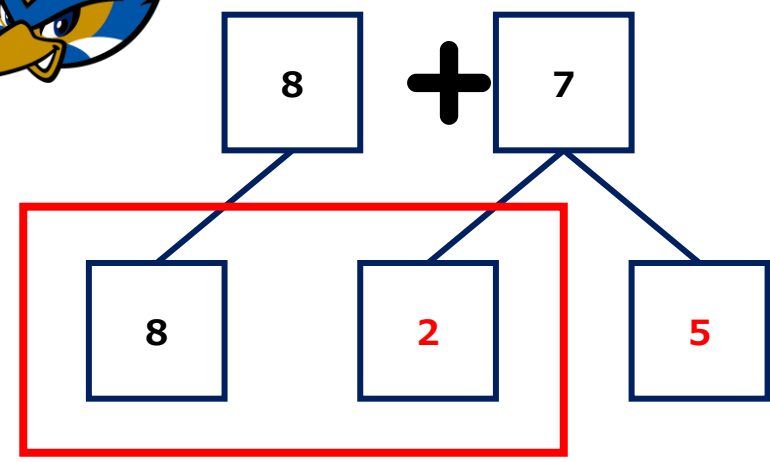
【れんしゅう】8+7

けいさんの しかたを かんがえましょう。

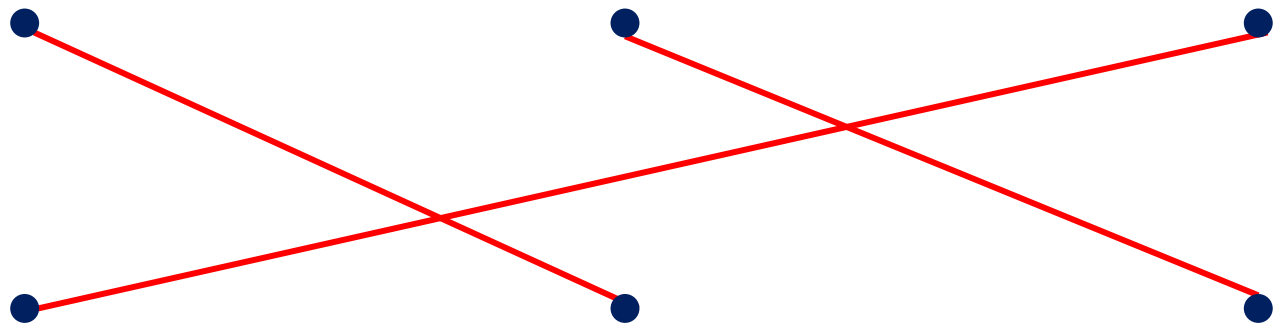
- ① 8は あと 2で 10。
- ② 7を 2と5に わける。
- ③ 8に 2をたして 10。
- ④ 10と 5で 15。



赤いわくが
 10になるよう
 にかんがえてみよう!



せんしゅの せばんごうを あわせたら 11になるように せんでむすびましょう。



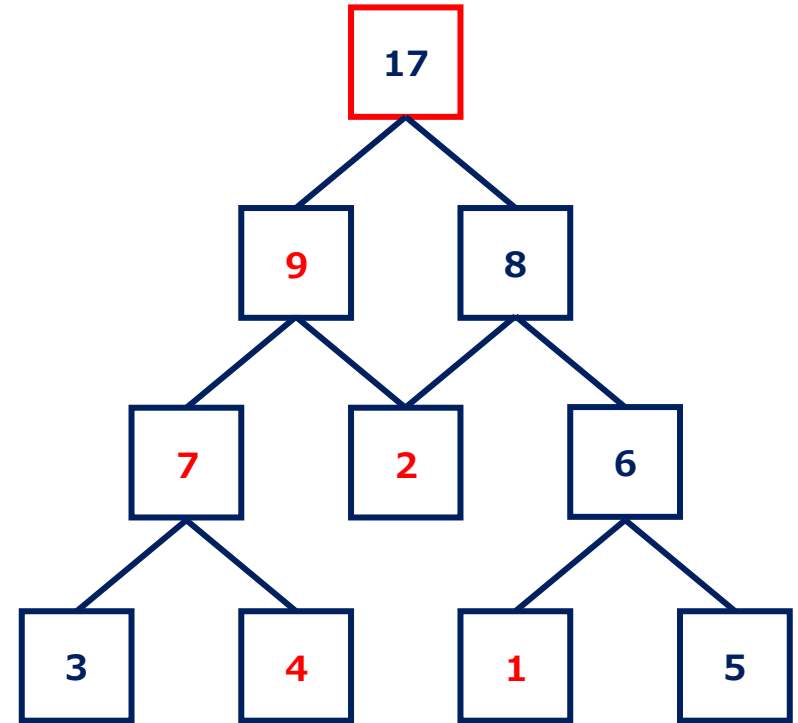
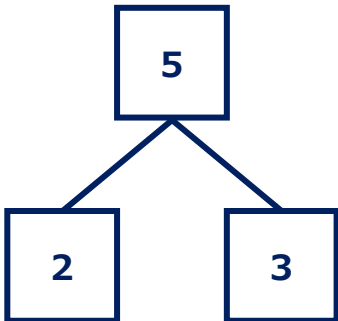
【コラム】たしざんツリー

ルールをまもって みぎの たしざんツリーを かんせいさせよう!

【ルール】

- ①黒いわくの 9つの □には、
1～9が それぞれ 1つずつ入ります。
- ②せんで つながっている 下の2つの □の かずを たすと、
上の □の かずに なります。

(例)



むずかしいときは
 E からかんがえるといいよ!





しょうがくせいの サッカーの 大会では 8人せいが 広がっています。
8人せいの サッカーでは、8人のせんしゅが どうじに しいに しゅつじょうし、
6人の せんしゅが ベンチにいます。
つぎのもんだいは、 8にんせいサッカー としてかんがえます。しきをかいて こたえを もとめましょう。

だい1
しい

ゼルビーが かんとくの『FCゼルビー』が しいをします。
こうたいせんしゅ6人のうち、 4人が とちゅうから しいに しゅつじょうしました。
『FCゼルビー』の せんしゅは あわせて何人 しいに しゅつじょうしましたか。

しき

$$8 + 4 = 12$$

こたえ

12人

だい2
しい

ゼルビーが かんとくの『FCゼルビー』が 2しいめを たたかいました。
『FCゼルビー』は こうたいせんしゅ ぜんいんが とちゅうから しいに しゅつじょうしました。
『FCゼルビー』の せんしゅは あわせて何人 しいに しゅつじょうしましたか。

しき

$$8 + 6 = 14$$

こたえ

14人