



個別指導塾フォルテ

×



さんすう

こたえあわせ

1ねんせい

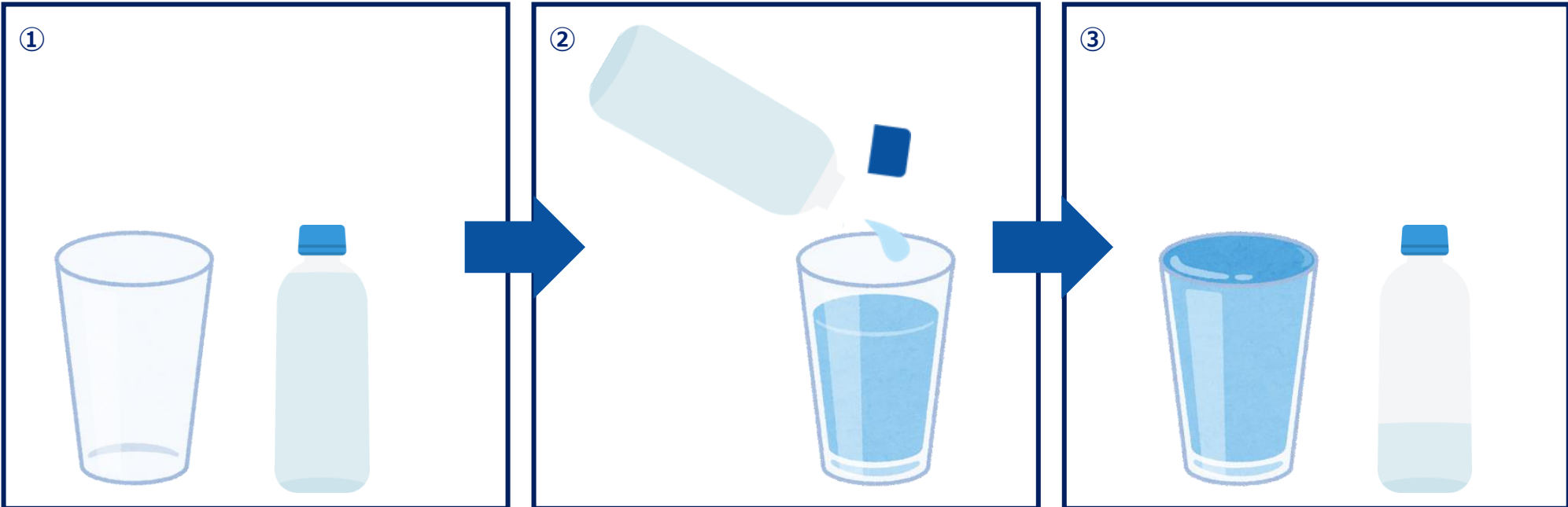
だい16せつ

どちらがおおいか



水のおおさをくらべよう！

ペットボトルに入っている水を、コップにうつしてみたら、下の ずの ように なりました。



コップと ペットボトルとでは、どちらが おおくの 水が 入るでしょうか。

こたえ

ペットボトル

コップはいっぱいになり、  
ペットボトルの水をうつしきれてないね!





みきせん手と ゼルビーは それぞれ ちがう 水とうを もっていました。  
どちらの 水とうが おおく 入るか はなしています。  
おなじ おおきさの コップに うつしかえたら、下の ずの ように なりました。  
どちらの 水とうが おおく 入っていたでしょうか。

みきせん手




スポーツドリンクが  
入っていました!



ゼルビー



オレンジジュースが  
入っていました!



こたえ

ゼルビーの水とう

水とう、やかん、ポットに 入っている 水をおなじ おおきさの コップに 入れました。

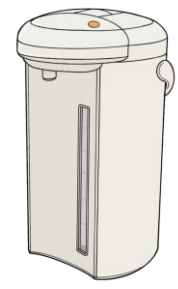
水とう



やかん



ポット



① 入っている水が おおいじゆんに かきましょう。

1 **ポット**

2 **やかん**

3 **水とう**

② ポットは 水とうより コップ なんはいぶん おおく水が 入っていますか。

しき  
ポットには 7 はい、水とうには 2 はいの 水が入っているから  
 $7 - 2 = 5$

こたえ  
5 はいぶん