



個別指導塾フォルテ

×



# 算数

## 答え合わせ

### 2年生

だい14せつ

計算のくふう



よりかんたんに計算する方ほうを考えよう！

10, 20, 50 など、きりのよい数字を作って計算しよう!

くふうして計算しましょう。

[もんだい]  $5 + 7 + 3$   
 $7 + 3$  を先に計算することで  
かんたんに計算できるよ!



1

$$\begin{aligned} &4 + 9 + 1 \\ &= 4 + 10 \\ &= 14 \end{aligned}$$

答え

14

2

$$\begin{aligned} &12 + 9 + 1 \\ &= 12 + 10 \\ &= 22 \end{aligned}$$

答え

22

作って計算しよう！

くふうして計算しましょう。

$$\begin{aligned} &45 + 8 \\ &= 45 + 5 + 3 \\ &= 50 + 3 \\ &= 53 \end{aligned}$$

と、くふうしてみよう！



1

$$\begin{aligned} &25 + 7 \\ &= 25 + 5 + 2 \\ &= 30 + 2 \\ &= 32 \end{aligned}$$

答え

32

2

$$\begin{aligned} &54 + 8 \\ &= 54 + 6 + 2 \\ &= 60 + 2 \\ &= 62 \end{aligned}$$

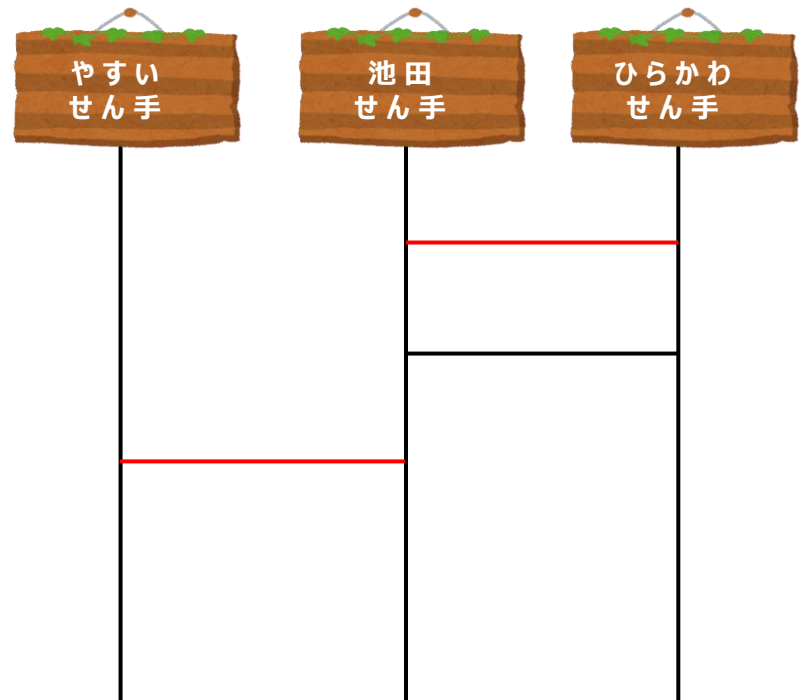
答え

62

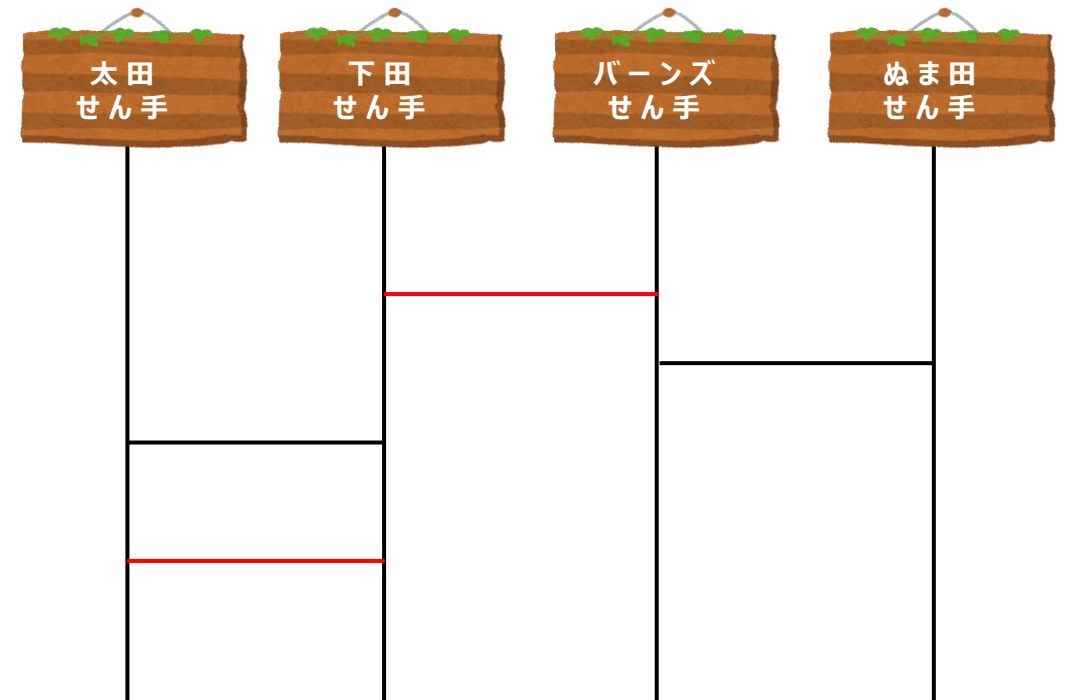
[コラム] ぼうをくわえて、あみだくじを作ってみよう!

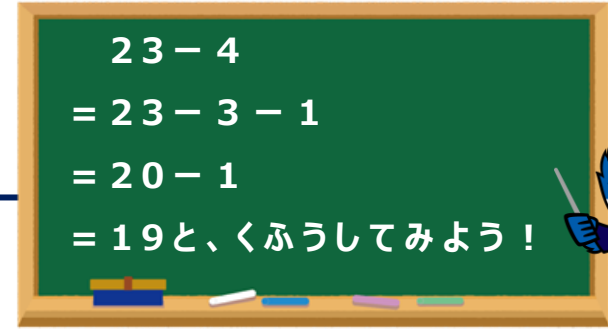
よこ線を書きたして、せん手のしゃしんと、せん手の名前がつながるようにしてください。

①



②





1

ゼルビーがのづたサッカーチームと、遠せいにいくことになりました。

32人のチームで、5人がお休みしました。

遠せいにさんかしたのは何人ですか。しきを書いて、くふうして計算しましょう。

しき

$$\begin{aligned} & 32 - 5 \\ & = 32 - 2 - 3 \\ & = 30 - 3 \\ & = 27 \end{aligned}$$

答え

27人

2

ゼルビーがおやつを買います。ちょうど100円になるようにおかしをえらびましょう。



クッキー  
35円



チョコレート  
78円



キャンディー  
41円



ラムネ  
24円



ドーナツ  
69円



しき

$$35 + 41 + 24 = 100$$

答え

クッキー、キャンディー、ラムネ