



個別指導塾フォルテ

×



算数

答え合わせ

2年生

だい13せつ

時こくと時間




時こくと時間のちがいを知ろう!

ゼルビーのとある一日です。


1

家を出た時こく



8時00分

学校に着いた時こく



8時35分

「時こく」は、時のながれの中の
「ある1点」を あらわしたものだよ!

「時間」は、時のながれの中の
「ある1点からべつの1点までの長さ」
をあらわしたものだよ!




とう校にかかった時間

35 分


2

じゅぎょうが始まった時こく



10時10分

じゅぎょうが終わった時こく



11時00分

じゅぎょうをうけた時間

50 分

ゼルビーのとある一日の記ろくです。
それぞれ何分間かかったか答えましょう。



1時間は60分だよ!

1 5時10分から6時20分までべん強しました。

しき $60 + 10 = 70$
【かいせつ】 5時10分から6時まで50分、
6時から6時20分まで20分だから $50 + 20 = 70$

答え
70分

2 8時5分から10時までじゅぎょうをうけました。

しき $60 + 55 = 115$
【かいせつ】 8時5分から9時まで55分、
9時から10時まで60分だから $55 + 60 = 115$

答え
115分

3 1時52分から4時までサッカーをしました。

しき $60 + 60 + 8 = 128$
【かいせつ】 1時52分から2時まで8分、
2時から4時まで60 + 60分だから $60 + 60 + 8 = 128$

答え
128分

今の時こくは、9時30分。おく山せん手のとある一日の記ろくです。

1 1時間後にサッカーをします。サッカーをはじめるのは何時何分ですか。

しき

$$9 + 1 = 10$$

答え

10時30分

2 2時間30分前におきました。おきたのは何時何分ですか。

しき

$$9 - 2 = 7$$

$$30 - 30 = 0$$

答え

7時

