



個別指導塾フォルテ

×



算数

2年生

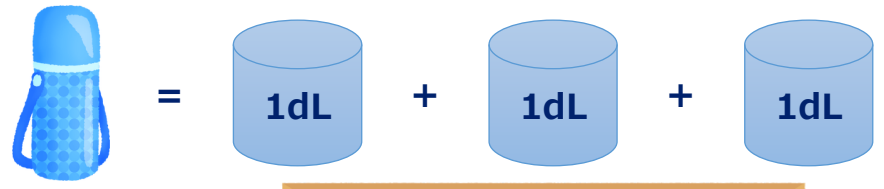
だい12せつ

水のかさ



かさのたんいL, dL, mLについて知ろう!

1 デュークせん手が水とうをもっています。
水のかさは何dLですか。



1 dLは水のかさ1つ分の
たんいだよ!

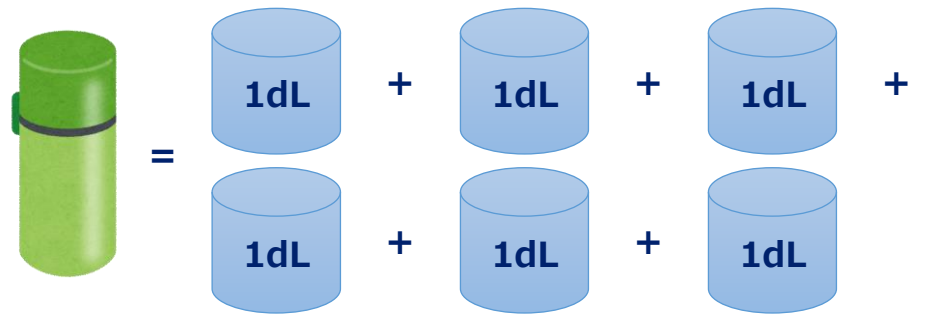
しき



答え

dL

2 つぎの日、べつの水とうをもってきました。
この時、水のかさは何dLですか。



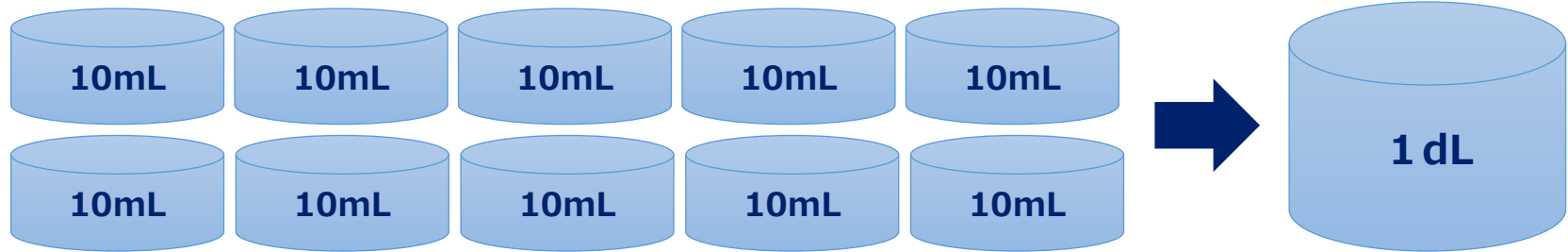
しき

答え

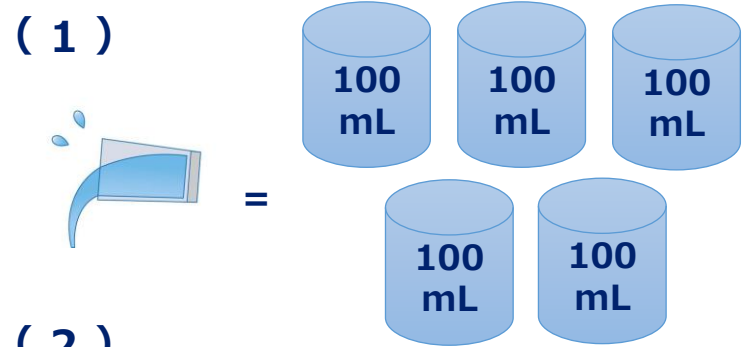
dL



1 dL = 100 mL だよ!

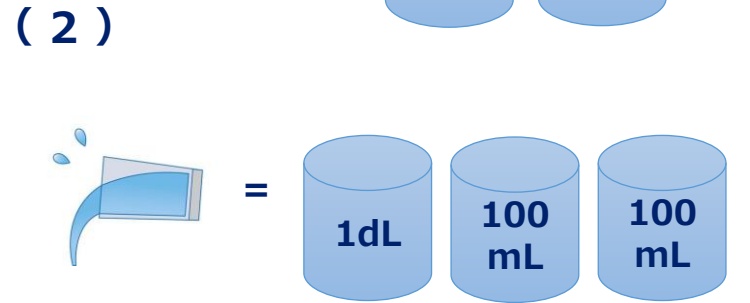


ゼルビーくんが水をこぼしてしまいました。こぼした水のかさは何dLですか？



しき

答え
dL

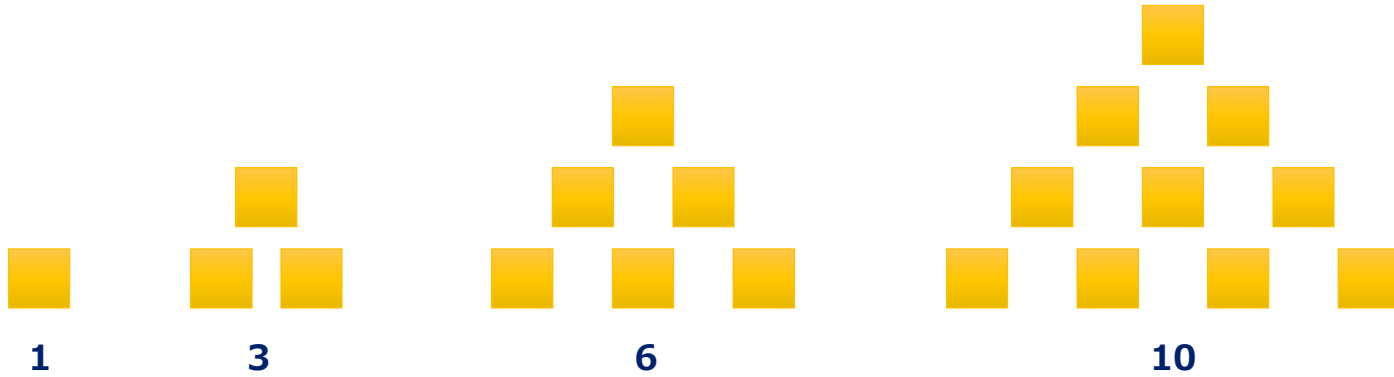


しき

答え
dL

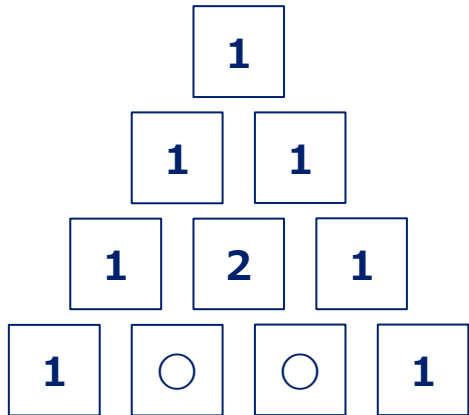
① ○ に合う数を考えましょう。

1 · 3 · 6 · 10 · 15 · ○ · 28 · 36 ...



答え

② ○ に合う数を考えましょう。

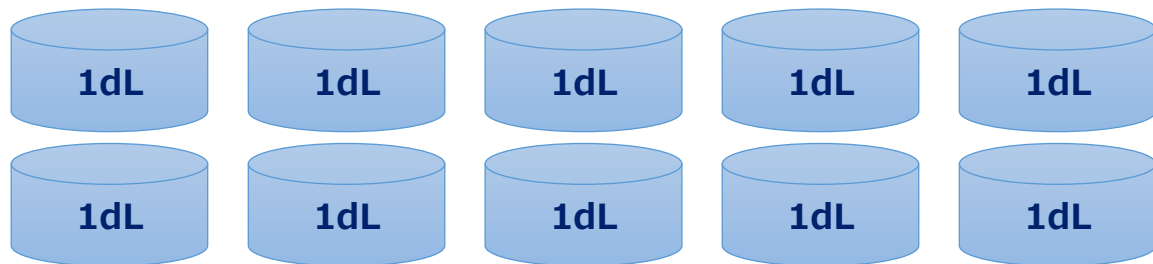


答え



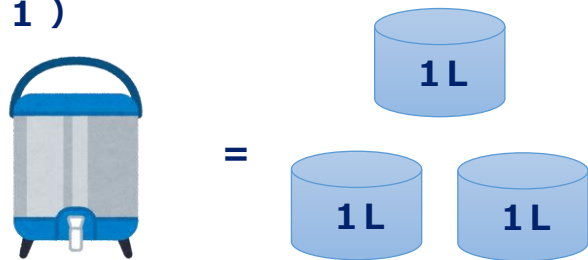


1 L = 10 dL だよ!



ゼルビーくんが大きな水とうをもっていきます。水のかさはそれぞれいくつですか？

(1)

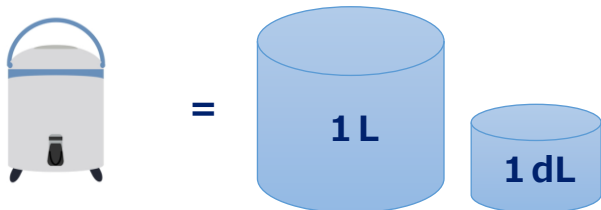


しき

答え

L

(2)



しき

答え

dL