



個別指導塾フォルテ

×



算数

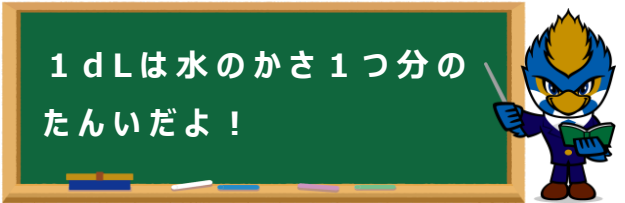
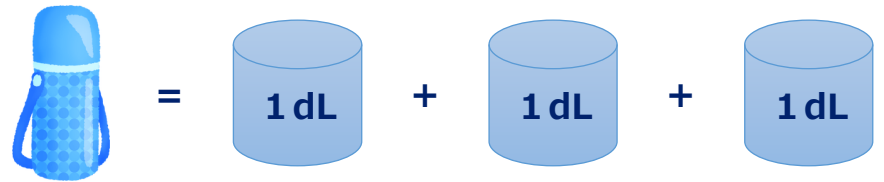
答え合わせ

2年生

だい12せつ

水のかさ

1 デュークせん手が水とうをもっています。
水のかさは何dLですか。



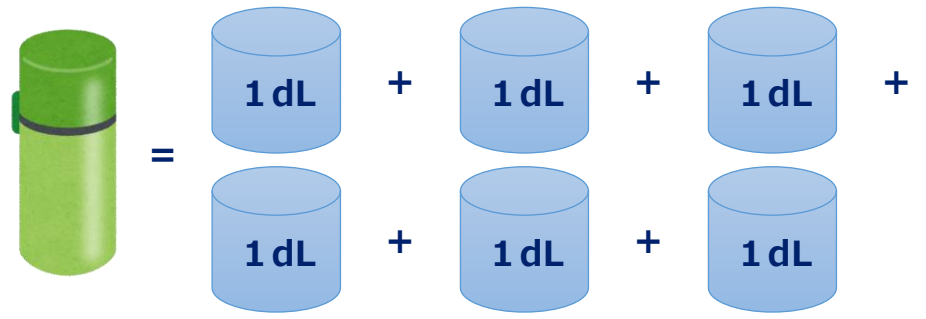
しき

$$1 + 1 + 1 = 3$$



答え 3 dL

2 つぎの日、べつの水とうをもってきました。
この時、水のかさは何dLですか。



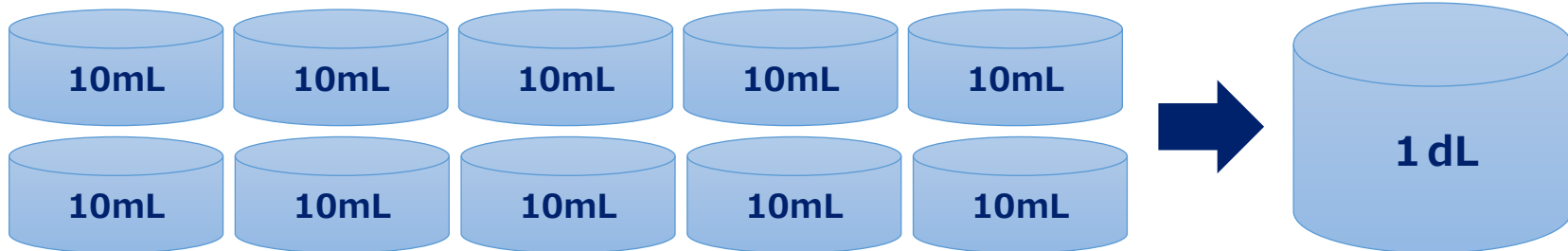
しき

$$1 + 1 + 1 + 1 + 1 + 1 = 6$$

答え 6 dL

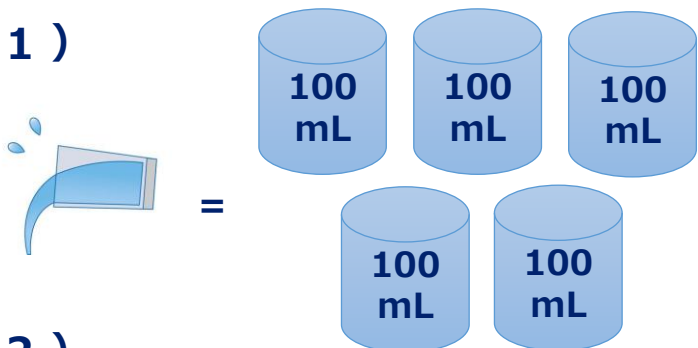


1 dL = 100 mL だよ!



ゼルビーくんが水をこぼしてしまいました。こぼした水のかさは何dLですか？

(1)



しき

$$100 \text{ mL} = 1 \text{ dL}$$

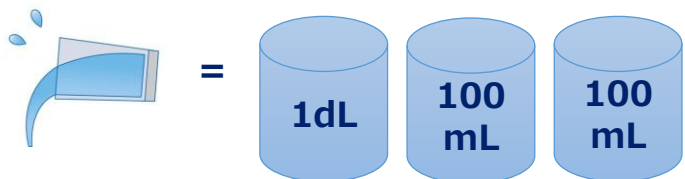
$$1 + 1 + 1 + 1 + 1 = 5$$

答え

5

dL

(2)



しき

$$100 \text{ mL} = 1 \text{ dL}$$

$$1 + 1 + 1 = 3$$

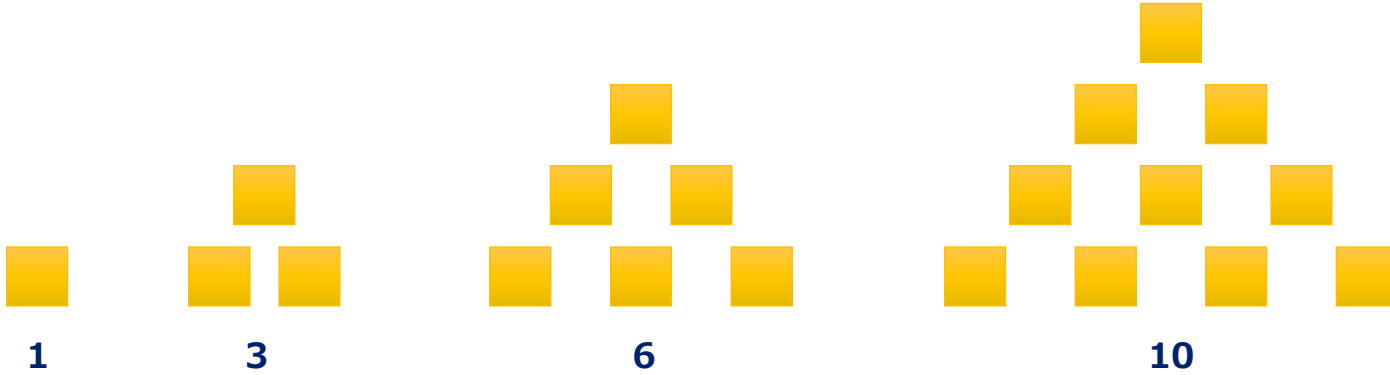
答え

3

dL

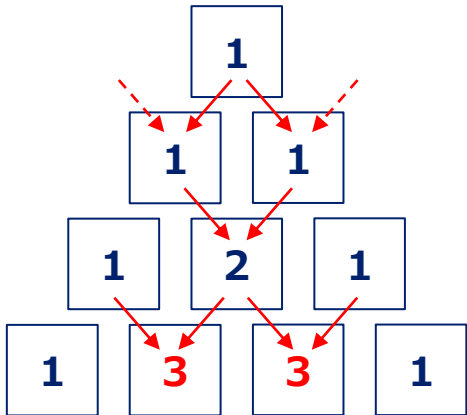
① ○ に合う数を考えましょう。

1・3・6・10・15・○・28・36...



答え
21

② ○ に合う数を考えましょう。



答え
3

【①かいせつ】

$1 + 2 = 3$ 、 $3 + 3 = 6$ 、 $6 + 4 = 10$ 、 $10 + 5 = 15$

$15 + 6 = 21$

なので、○には21が入るよ

【②かいせつ】

1、2 だん目 1

3 だん目 $1 + 1 = 2$

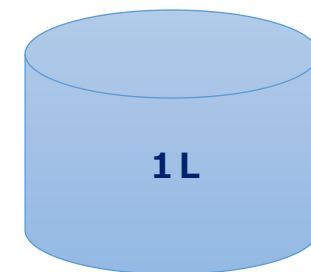
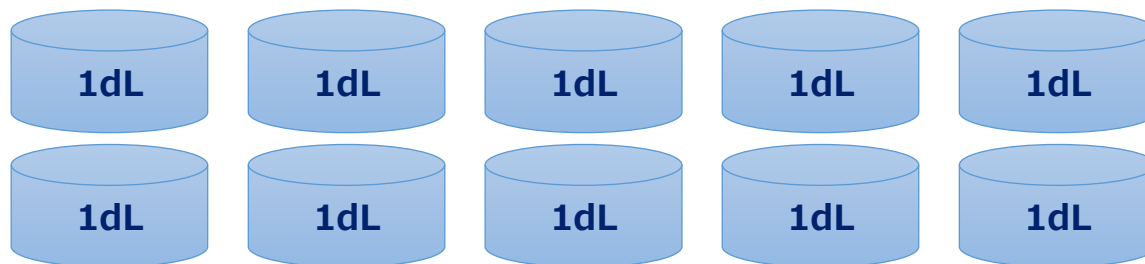
4 だん目 $1 + 2 = 3$

なので、○には3が入るよ



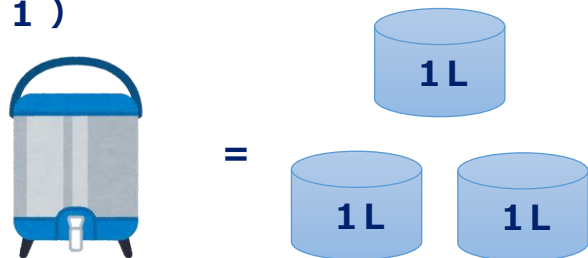


1 L = 10 dL だよ!



ゼルビーくんが大きな水とうをもっていきます。水のかさはそれぞれいくつですか？

(1)



しき

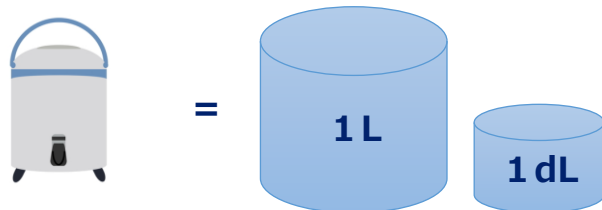
$$1 + 1 + 1 = 3$$

答え

3

L

(2)



しき

$$10 + 1 = 11$$

答え

11

dL