



個別指導塾フォルテ

×



さんすう

1ねんせい



だい13せつ

10よりおおきいかず



10よりおおきいかずをしろう

えんぴつが なん本 あるか こたえましょう。



10と3で  
「じゅうさん」と言うよ！

13本

①



②



A～Dに あてはまる すう字を こたえましょう

A

10




12

13

14



B



16

17



C

18



20

21



D



23

24

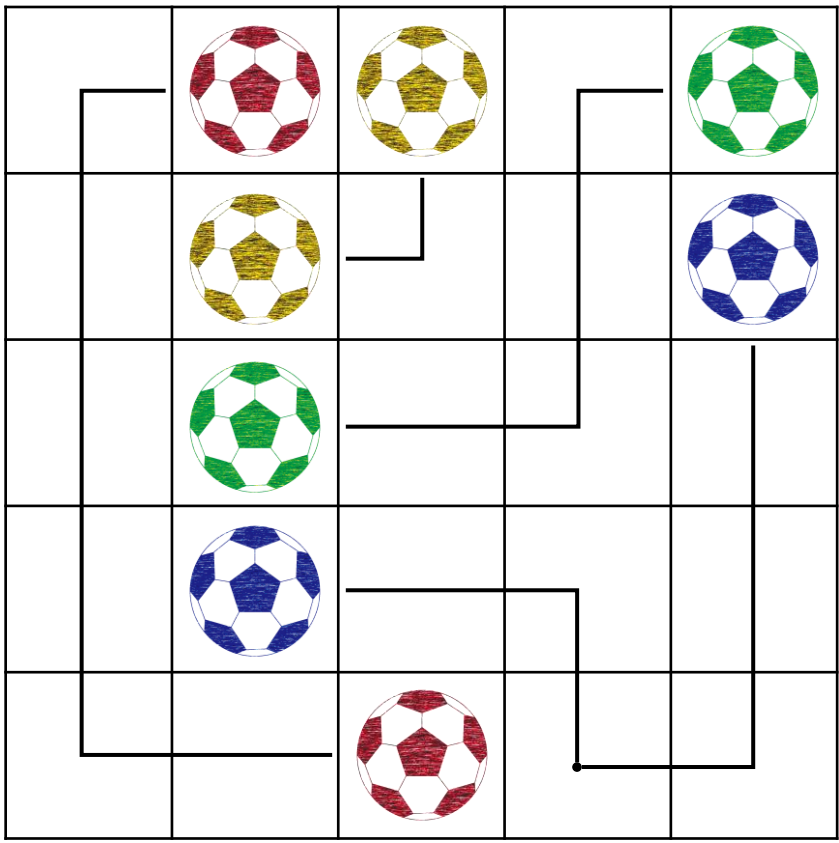
25



れい

ルールをまもってボールをせんでつないでみよう！

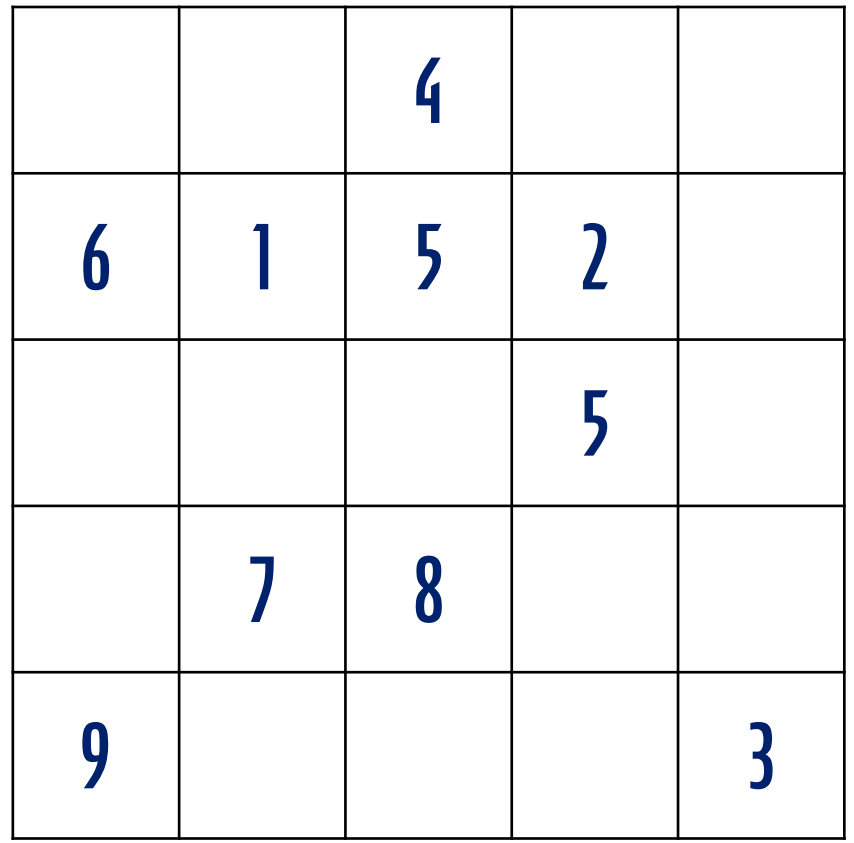
- ①おなじ いろの サッカーボールを つなぐ
- ②おなじ マスを 2かい とおらない
- ③すべての マスを とおる



もんだい

ルールをまもって「すう字」をせんでつないでみよう！

- ①つないだ すう字の ごうけいを 10にする
- ②おなじ マスを 2かい とおらない
- ③すべての マスを とおる



えをみて、もんだいに こたえましょう

① いちばん 大きい かずは いくつですか

こたえ

② いちばん 小さい かずは いくつですか

こたえ

14 JANG

23 POPP

16 ZENTO

27 YU


25 FUJIO

③ 16より 3大きい かずは いくつですか。

こたえ

④ 27より 4小さい かずは いくつですか

こたえ



つぎの 計算を やってみよう！

①  $10 + 5$

②  $10 + 8$

③  $14 - 4$

④  $17 - 7$

⑤  $12 + 2$

⑥  $11 + 8$

⑦  $15 - 3$

⑧  $19 - 6$



けいさんは サッカーの “きそれんしゅう” といっしょ！  
まい日 コツコツ がんばろう