



個別指導塾フォルテ

×



さんすう

こたえあわせ

1ねんせい

だい13せつ

10よりおおきいかず



10よりおおきいかずをしろう

A～Dに あてはまる すう字を こたえましょう

A

10

11

12

13

14

15

16

17



B



C

18

19

20

21

22

23

24

25



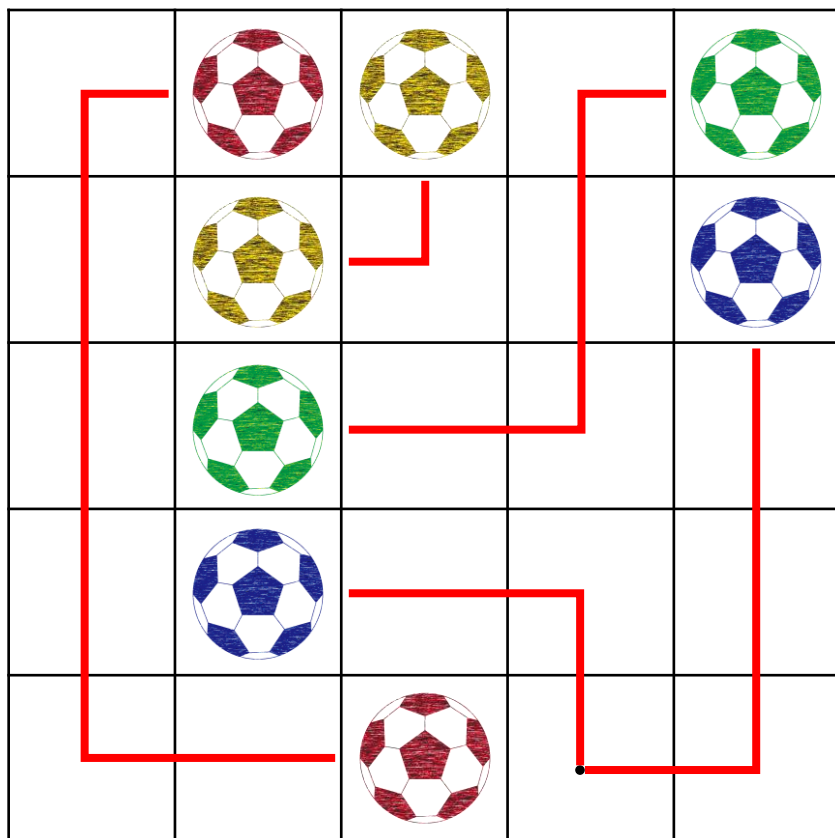
D



れい

ルールをまもってボールをせんでつないでみよう！

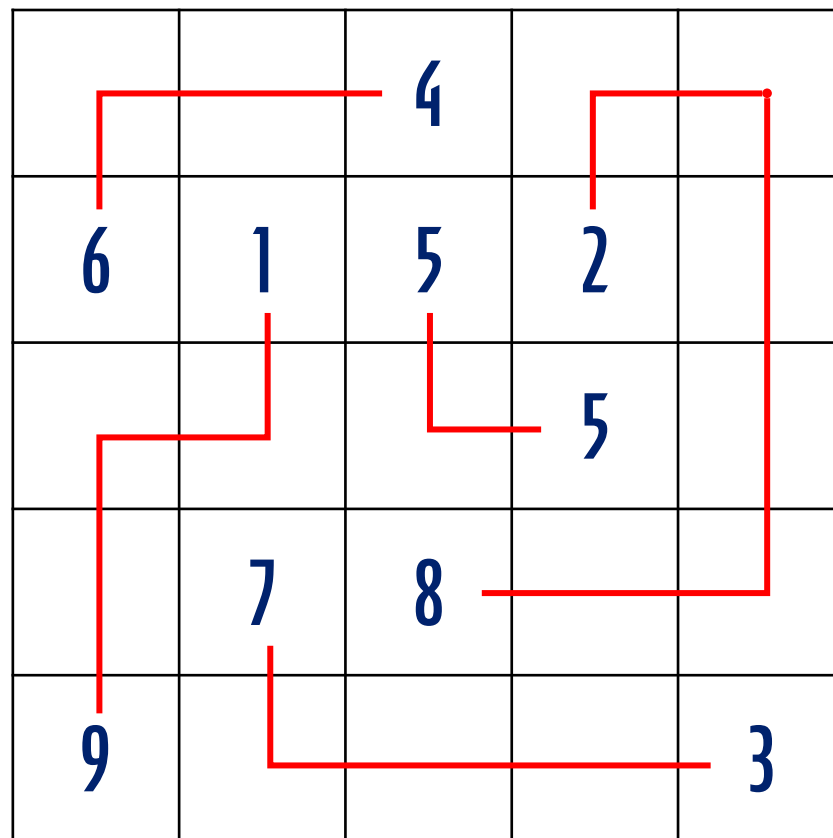
- ①おなじ いろの サッカーボールを つなぐ
- ②おなじ マスを 2かい とおらない
- ③すべての マスを とおる



もんだい

ルールをまもって「すう字」をせんでつないでみよう！

- ①つないだ すう字の ごうけいを 10にする
- ②おなじ マスを 2かい とおらない
- ③すべての マスを とおる



えをみて、もんだいに こたえましょう

① いちばん 大きい かずは いくつですか

こたえ **27**

② いちばん 小さい かずは いくつですか

こたえ **14**

③ 16より 3大きい かずは いくつですか。

こたえ **19**

④ 27より 4小さい かずは いくつですか

こたえ **23**


14
JANG

16
ZENTO

23
POPP

25
FUJIO

27
YU



つぎの けいさんを やってみよう！

① $10 + 5$

15

② $10 + 8$

18

③ $14 - 4$

10

④ $17 - 7$

10

⑤ $12 + 2$

14

⑥ $11 + 8$

19

⑦ $15 - 3$

12

⑧ $19 - 6$

13



けいさんは サッカーの “きそれんしゅう” といっしょ！
まい日 コツコツ がんばろう