



個別指導塾フォルテ

×



さんすう

1ねんせい

だい12せつ

どちらがながいか



ながさをくらべられるようになるう！

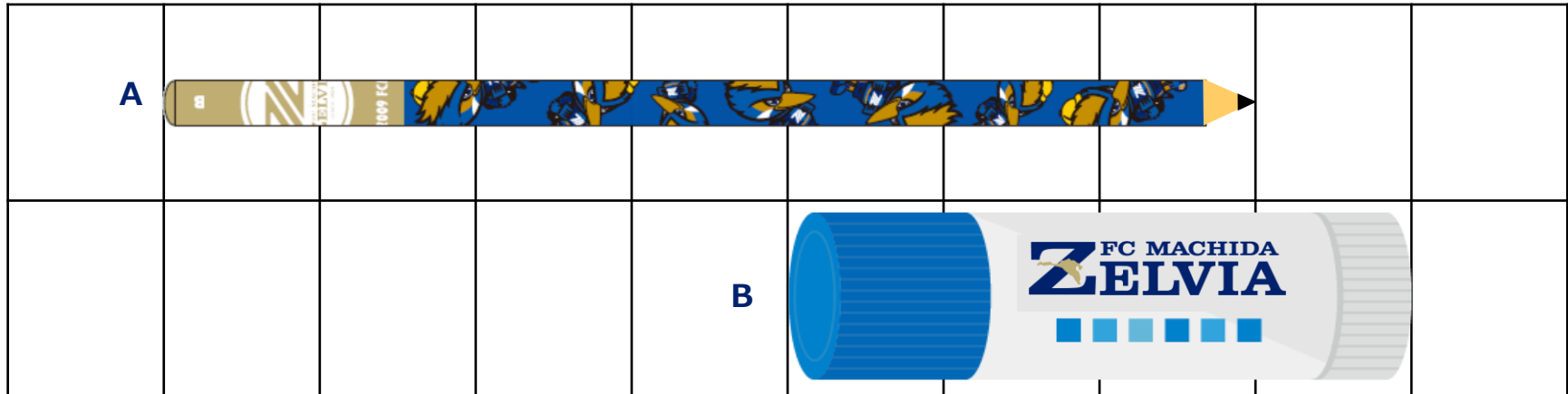
A、Bの どちらが ながいでしょうか。

次の をうめながら、かんがえてみましょう。

① Aのながさは マスぶん です。

② Bのながさは マスぶん です。

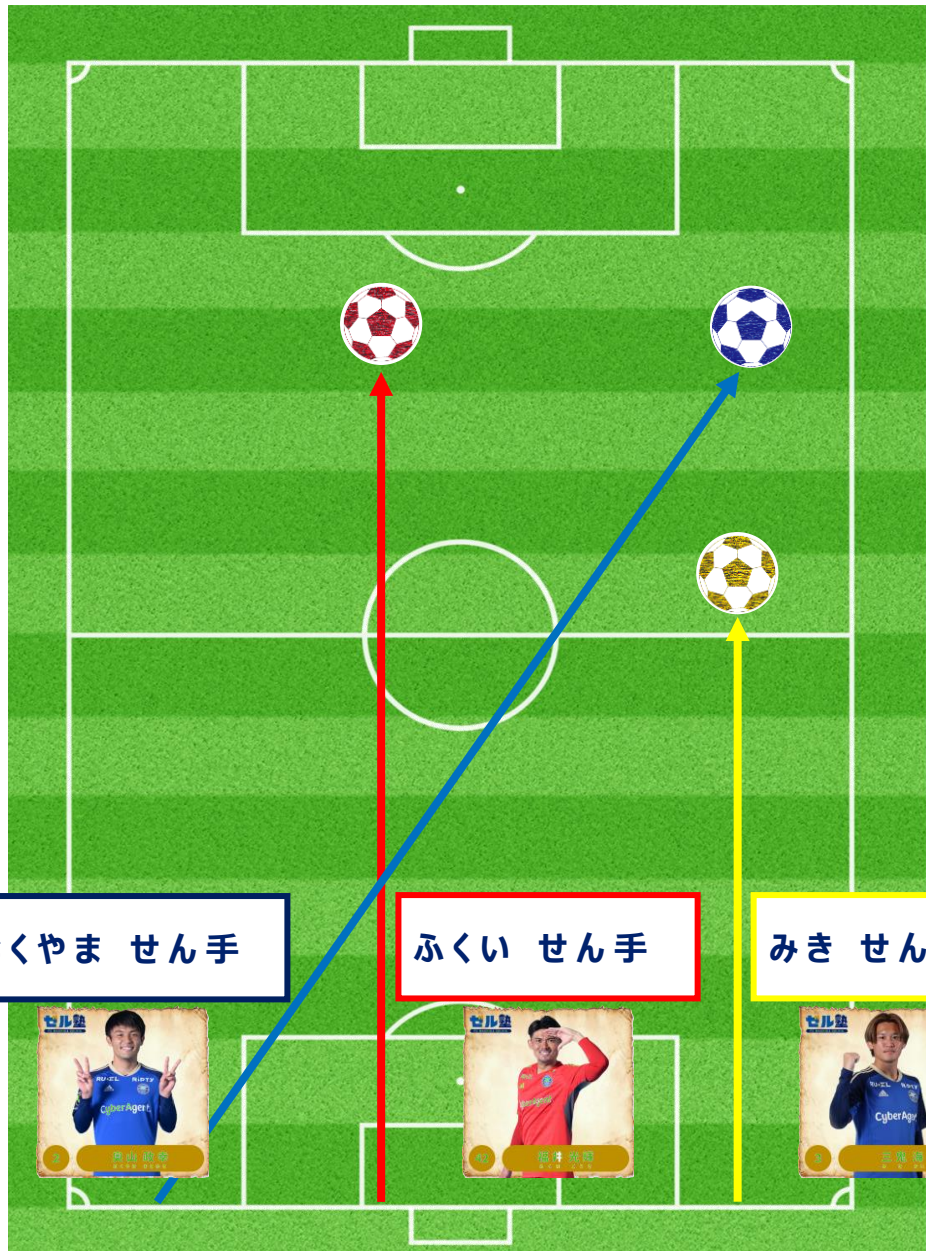
③ だから、 のほうが ながいです。



ながさを くらべるときは、
なんマスぶんかを かぞえればいいね！

こたえ

① 7 ② 4 ③ A



ボールを とばしたながさが ながいじゆんに
せん手の なまえを こたえましょう。

1 ばん

せん手

2 ばん

せん手

3 ばん

せん手

おくやま せん手

ふくい せん手

みき せん手



はじめをそろえても、
ながさをくらべることができるね!



【コラム】どちらがながい？

右の ふたつの ずを みてみよう！

上のずの 赤いせんと 下のずの 青いせん

ながさをくらべられるようになろう！な？

じつは、この2つのせんは おなじ ながさなんだ。

「さくし」と いわれるもので、

じっさいとは ちがうように 見えることなんだ。

ちなみに、こんかい しょうかいした 「さくし」は、「ミューラーリヤーさくし」と いわれるものだよ。

きょうみを もった子は ほかに も どんなさくしがあるのか しらべてみよう！





ながさを しらべましょう。

① A、B、C、Dのながさは それぞれ なんマスぶん ですか？

A		B		C		D	
---	--	---	--	---	--	---	--

② Aと Bでは、どちらが なんマスぶん ながいですか。(しきもかんがえてみよう！)

しき		こたえ	
----	--	-----	--

A											D
											
C	