



個別指導塾フォルテ

×



さんすう

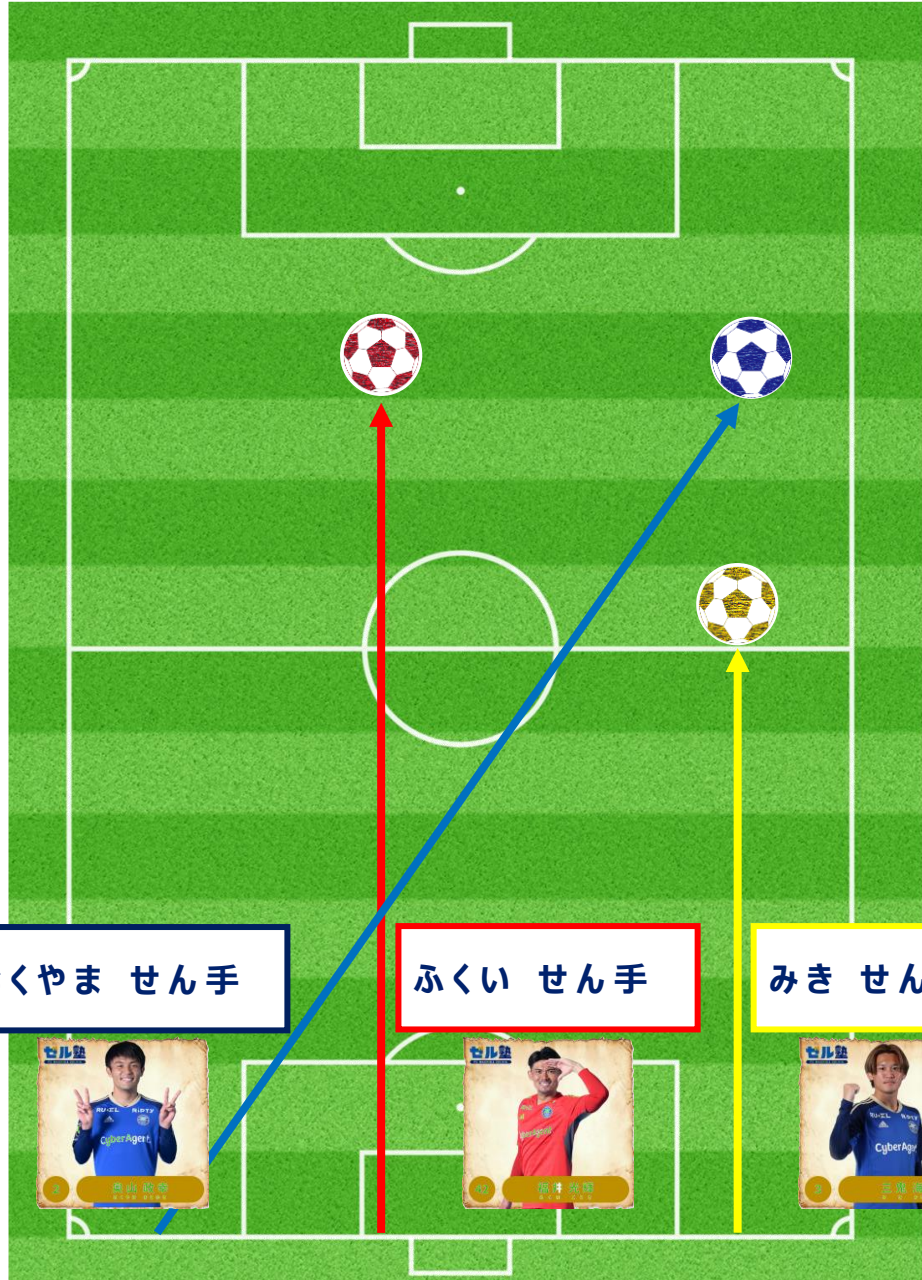
こたえあわせ

1ねんせい

だい12せつ



ながさをくらべられるようになろう！



ボールを とばしたながさが ながいじゆんに
 せん手の なまえを こたえましょう。

1ばん

	おくやま	せん手
---	-------------	-----

2ばん

	ふくい	せん手
---	------------	-----

3ばん

	みき	せん手
---	-----------	-----

はじめをそろえても、
 ながさをくらべることができるね!





ながさを しらべましょう。

① A、B、C、Dのながさは それぞれ なんマスぶん ですか？

A	6	B	4	C	5	D	3
---	---	---	---	---	---	---	---

② Aと Bでは、 どちらが なんマスぶん ながいですか。(しきもかんがえてみよう！)

しき	$6 - 4 = 2$	こたえ	2
----	-------------	-----	---

A							D	
								
C	