



個別指導塾フォルテ

×



算数

2年生

だい11せつ

長さ




長さのたんいm, cm, mmについて知ろう!


ゼルビーえんぴつの長さをしらべましょう。

長さは1cmがいくつあるかで
あらわすことができるよ！

じょうぎは1cmごとに
数字が書いてあるよ！



【1】えんぴつの長さを かきましょう



答え

1cmが _____こ分で _____cm

【2】えんぴつの長さを かきましょう



答え

1cmが _____こ分で _____cm

mmはcmの十分の一の長さです。(1cm=10mm)

1 mm



1 cm



mmについて知ろう!

【1】ゼルビア消しゴムの長さをしらべましょう。



答え

_____ cm _____ mm

【2】() のたんいに書きなおしましょう。

① 4cm3mm ▶ (mm)

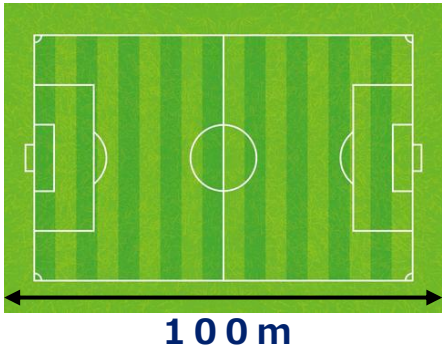
答え

② 50mm ▶ (cm)

答え

ちょっと休けい

【1】サッカーのグラウンドがよこ100mです。
1kmはグラウンド何こ分ですか。①～③の中からえらびましょう。



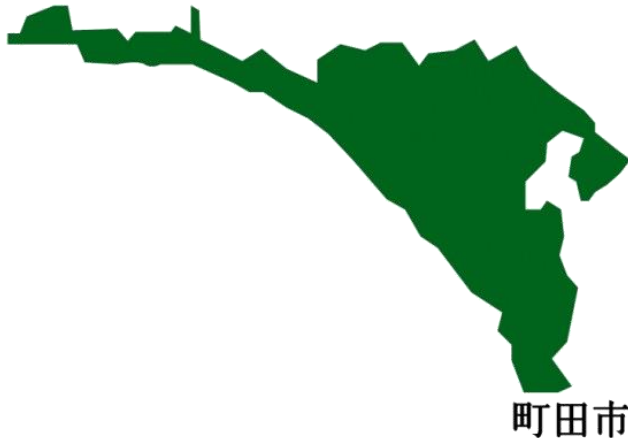
- ① 1こ
- ② 10こ
- ③ 100こ



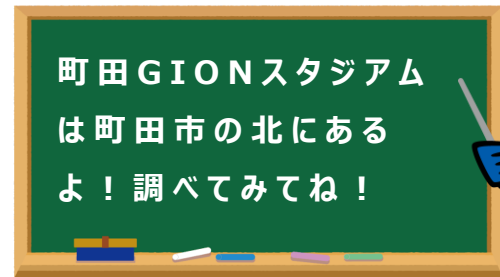
1000m = 1kmというよ。
(1キロメートルとよぶよ)

答え

【2】町田市の 北のはじから 南のはじまで 何kmあるでしょうか？
①～③の中からえらびましょう。



- ① 1.3km
- ② 13km
- ③ 130km



町田GIONスタジアム
は町田市の北にある
よ！調べてみてね！

答え

【1】長さを こたえのたんいに書きなおしましょう。

① 5 m こたえ cm

② 150 cm こたえ m cm

③ 1 m こたえ cm

こたえ mm

【2】ストイッチせん手と デュークせん手のしん長をはかりました。
大きいのはどちらですか。

ストイッチせん手
2 m 2 cm



デュークせん手
1 m 86 cm



【mについて知ろう!】
100 cm = 1 mです。
1 cmが100こ分あると、
1 mになるよ。



答え