



個別指導塾フォルテ

×



算数

答え合わせ

2年生

だい11せつ

長さ

ゼルビーえんぴつの長さをしらべましょう。

長さは1cmがいくつあるかで
あらわすことができるよ!

じょうぎは1cmごとに
数字が書いてあるよ!



【1】えんぴつの長さを かきましょう



答え

1cmが 5 こ分で 5 cm

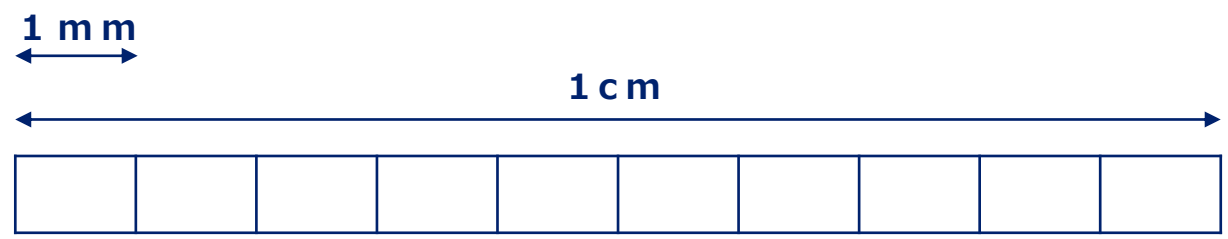
【2】えんぴつの長さを かきましょう



答え

1cmが 8 こ分で 8 cm

mmはcmの十分の一の長さです。(1cm=10mm)



mmについて知ろう!

【1】ゼルビア消しゴムの長さをしらべましょう。



答え
3 cm 5 mm

【2】() のたんいに書きなおしましょう。

① 4cm3mm ▶ (mm)

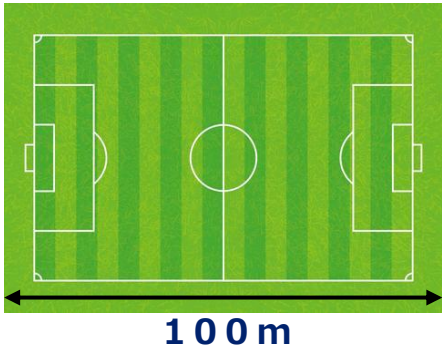
答え **43mm**

② 50mm ▶ (cm)

答え **5cm**

ちょっと休けい

【1】サッカーのグラウンドがよこ100mです。
1kmはグラウンド何こ分ですか。①～③の中からえらびましょう。



- ① 1こ
- ② 10こ
- ③ 100こ

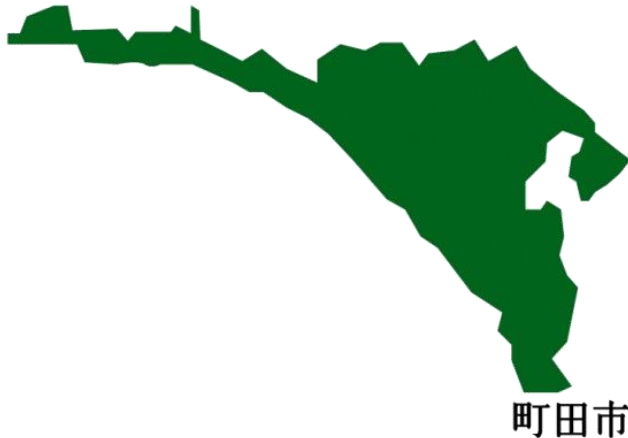


1000m = 1kmというよ。
(1キロメートルとよぶよ)

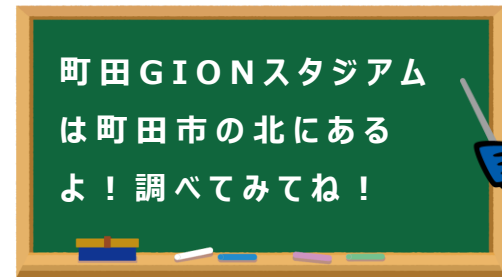
答え

②

【2】町田市の 北のはじから 南のはじまで 何kmあるでしょうか？
①～③の中からえらびましょう。



- ① 1.3km
- ② 13km
- ③ 130km



町田GIONスタジアム
は町田市の北にある
よ！調べてみてね！

答え

②

【1】長さを こたえのたんい に書きなおしましょう。

① 5 m こたえ **500** cm

② 150 cm こたえ **1** m **50** cm

③ 1 m こたえ **100** cm

こたえ **1000** mm

【2】ストイッチせん手と デュークせん手のしん長をはかりました。
大きいのはどちらですか。

ストイッチせん手
2 m 2 cm



デュークせん手
1 m 86 cm



【mについて知ろう!】
100 cm = 1 m です。
1 cm が 100 こ分 があると、
1 m になるよ。



答え

ストイッチせん手