



個別指導塾フォルテ

×



# 算数

## 2年生

だい9せつ

3けたの数



100より大きい数のしくみを学ぼう!

① どちらの数が大きいですか。

(1)

百の位	十の位	一の位
1	7	3
2	7	3

(2)

百の位	十の位	一の位
3	4	5
3	3	8

答え

(1)

(2)

② □に、あてはまる、 $>$ 、 $<$ のしるしを書きましょう。

(1)

123

143

(2)

747

699

ある位にちゅう目すると、数の大きさをくらべやすくなるよ！

かずの大小は $>$ 、 $<$ をつかってあらわすよ。

たとえば、5より7の方が大きいから  
 $5 < 7$  または  $7 > 5$  と書けるよ！



1

FC町田ゼルビアは赤のゼッケンを60まい、青のゼッケンを70まいもっています。  
合わせて何まいもっているでしょう。

しき

答え



2

ゼルビーは500円もっています。340円のノートを買いました。  
おつりはいくらになるでしょう。

しき

答え

足し算と引き算、  
どちらをつかえば  
うまくいくな？



41


安井 拓也  
やすい たくや

【コラム】 下のように10まいのコインがならべられています。  
コインをうごかして、ぎゃくのピラミッドをつくってみましょう。



②は角のコインをうごかしてみよう！


① 6まいうごかして、ぎゃくのピラミッドをつくりましょう。



② 3まいうごかして、ぎゃくのピラミッドをつくりましょう。



ゼルビーはケーキを買いに行きました。  
ショートケーキが420円、チョコケーキが340円、チーズケーキが260円でした。




① ショートケーキとチョコケーキを1つずつ買いました。合わせていくらでしょう。

しき

答え

② チョコケーキはショートケーキより、何円やすいでしょう。



しき

答え

③ 600円で買えるケーキはどれとどれでしょう。

しき

答え