



個別指導塾フォルテ

×



# 算数

## 答え合わせ

### 2年生

だい9せつ

3けたの数

① どちらの数が大きいですか。

(1)

百の位	十の位	一の位
1	7	3
2	7	3

(2)

百の位	十の位	一の位
3	4	5
3	3	8

答え

(1)

273


(2)

345

② □に、あてはまる、>、<のしるしを書きましょう。

(1)


123



143

(2)

747



699

ある位にちゅう目すると、数の大きさをくらべやすくなるよ!

かずの大小は>、<をつかってあらわすよ。

たとえば、5より7の方が大きいから  
5 < 7 または 7 > 5 と書けるよ!



① FC町田ゼルビアは赤のゼッケンを60まい、青のゼッケンを70まいもっています。  
合わせて何まいもっているでしょう。

しき

$$60 + 70 = 130$$

答え

130まい



② ゼルビーは500円もっています。340円のノートを買いました。  
おつりはいくらになるでしょう。

しき

$$500 - 340 = 160$$

答え

160円

足し算と引き算、  
どちらをつかえば  
うまくいくな？



41

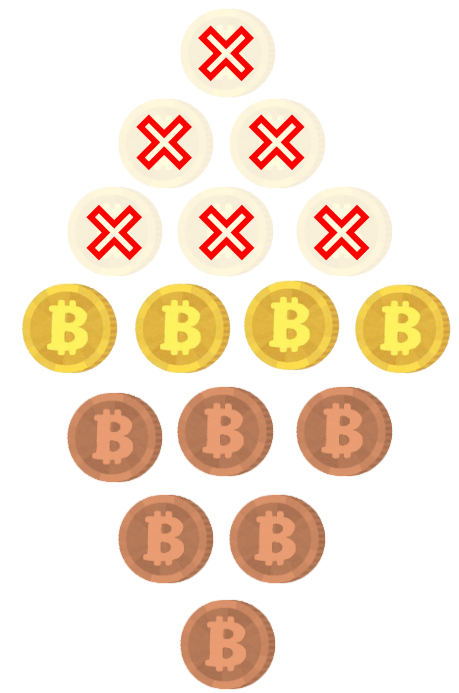
安井 拓也  
やすい たくや

【コラム】 下のように10まいのコインがならべられています。  
コインをうごかして、ぎゃくのピラミッドをつくってみましょう。

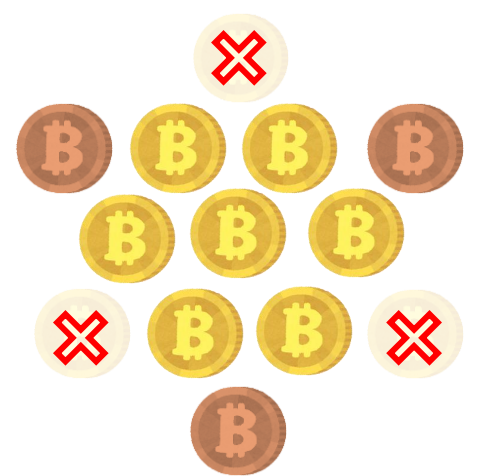


②は角のコインをうごかしてみよう！


① 6まいうごかして、ぎゃくのピラミッドをつくりましょう。



② 3まいうごかして、ぎゃくのピラミッドをつくりましょう。



ゼルビーはケーキを買いに行きました。  
ショートケーキが420円、チョコケーキが340円、チーズケーキが260円でした。



① ショートケーキとチョコケーキを1つずつ買いました。合わせていくらでしょう。

しき

$$420 + 340 = 760$$

答え

760円

② チョコケーキはショートケーキより、何円やすいでしょう。



しき

$$420 - 340 = 80$$

答え

80円

③ 600円で買えるケーキはどれとどれでしょう。

しき

$$340 + 260 = 600$$

答え

チョコケーキとチーズケーキ