



個別指導塾フォルテ

×



さんすう

1ねんせい

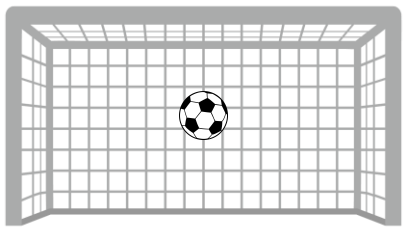
だい8せつ

あわせていくつ・
ふえるといくつ

れい

F C 町田ゼルビアの せんしゅは なんてん きめたかな？

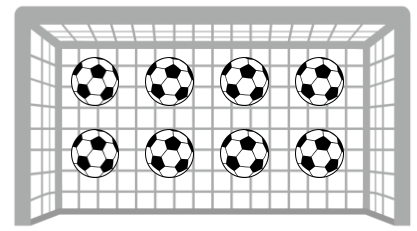
2がつの しいい



1



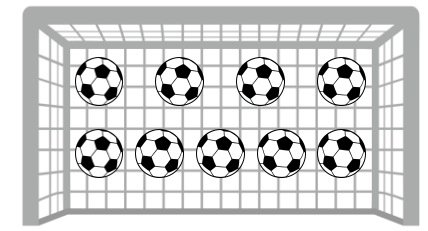
3がつの しいい



8



あわせて

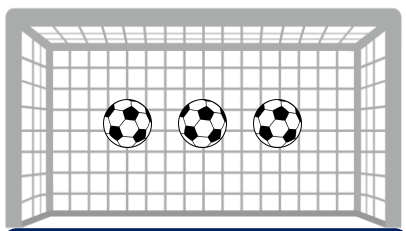


9

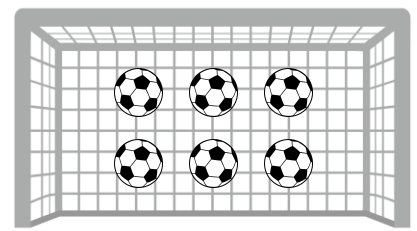
「1 たす 8 は 9」とよむよ！



ホームの しいい



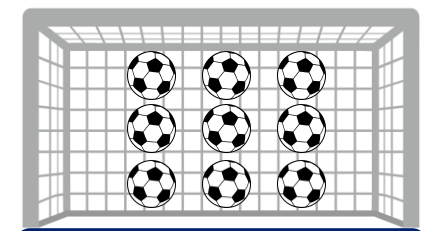
アウェイの しいい



6



あわせて



つぎの ぶんを よんで しきをつくり あわせていくつになるか こたえましょう。

わからないときは えを さんこうに しよう。

① かだんに あかいサルビアの花が4本、うえきばちに
あおいサルビアの花が3本 さいています。

サルビアの花は あわせて なん本 さいていますか。




しき

こたえ

本

② けやきの 木に カワセミが 2わ とまっています。
そこへ あたらしく 4わの カワセミが やってきました。
けやきの 木に カワセミは なんわいますか。



しき

こたえ

わ

【コラム】 0の たしざん

だい1かいの コラムでは「なにもない」ことを あらわすのに 0を つかうことを まなんだね。

だい3かいの コラムでは 0の たしざんを まなんでみよう。

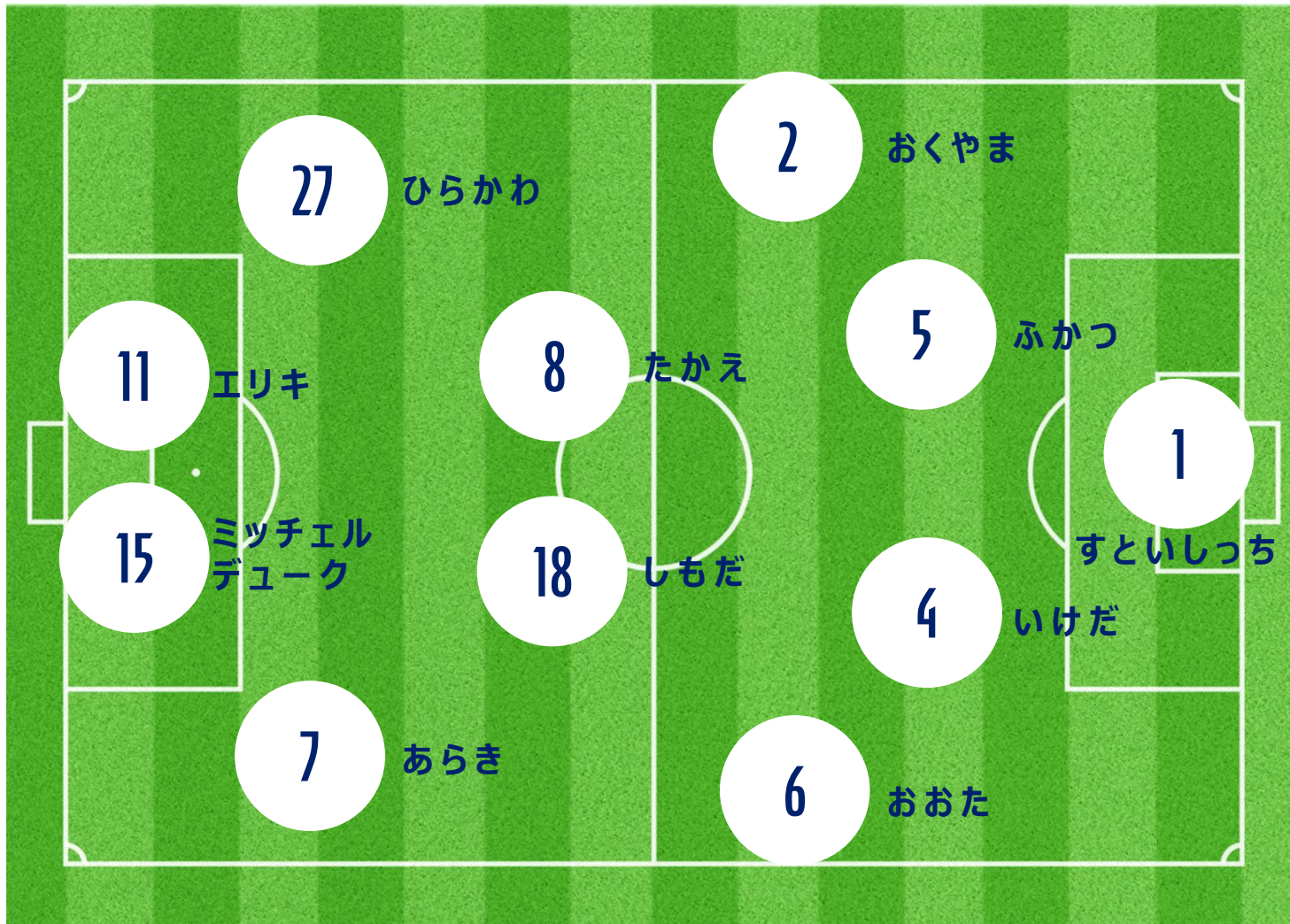
The diagram illustrates the addition of zero. On the left, a box contains three soccer balls, with the number '3' written below it. This is followed by a plus sign '+'. To the right is an empty box, with the number '0' written below it. This is followed by an equals sign '='. On the far right, a box contains three soccer balls, with the number '3' written below it. The entire equation is presented in a visual format using soccer balls and boxes.

えを みても わかるように 0を たしても もとのかずから かわらないんだね。

おなじように 0に なにをたしても かずが かわらないことを たしかめてみよう！

ふたりの せばんごうを あわせて 9 になるように するには
どのせんしゅたちを あわせたら いいでしょうか。

こたえは3つあるよ！



①

②

③

