



個別指導塾フォルテ

×



さんすう

こたえあわせ

1ねんせい

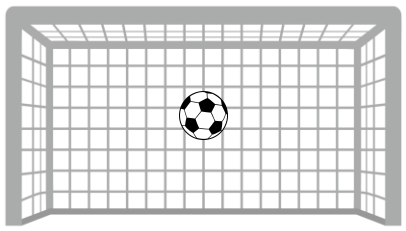
だい8せつ

あわせていくつ・
ふえるといくつ

れい

F C 町田ゼルビアの せんしゅは なんてん きめたかな？

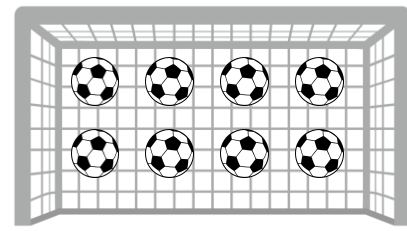
2がつの しあい



1



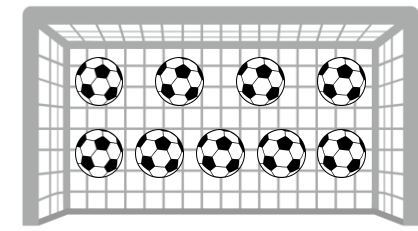
3がつの しあい



8



あわせて

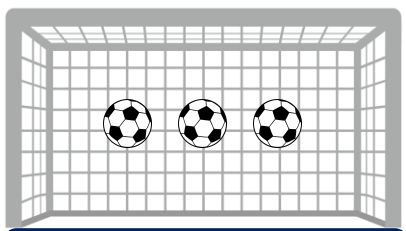


9

「1 たす 8 は 9」とよむよ！



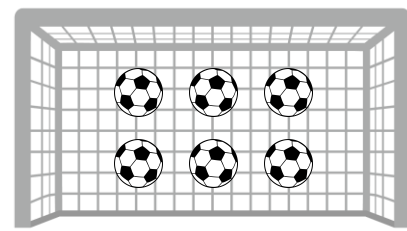
ホームの しあい



3



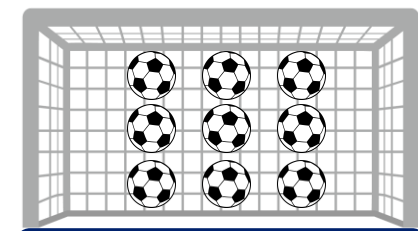
アウェイの しあい



6



あわせて



9

「3 たす 6 は 9」とよむよ！



つぎの ぶんを よんで しきを つくり あわせていくつになるか こたえましょう。

わからないときは えを さんこうに しよう。

① かだんに あかいサルビアの花が4本、うえきばちに
あおいサルビアの花が3本 さいています。

サルビアの花は あわせて なん本 さいていますか。




しき

$$4 + 3 = 7$$

7 本

② けやきの 木に カワセミが 2わ とまっています。
そこへ あたらしく 4わの カワセミが やってきました。

けやきの 木に カワセミは なんわ いますか。



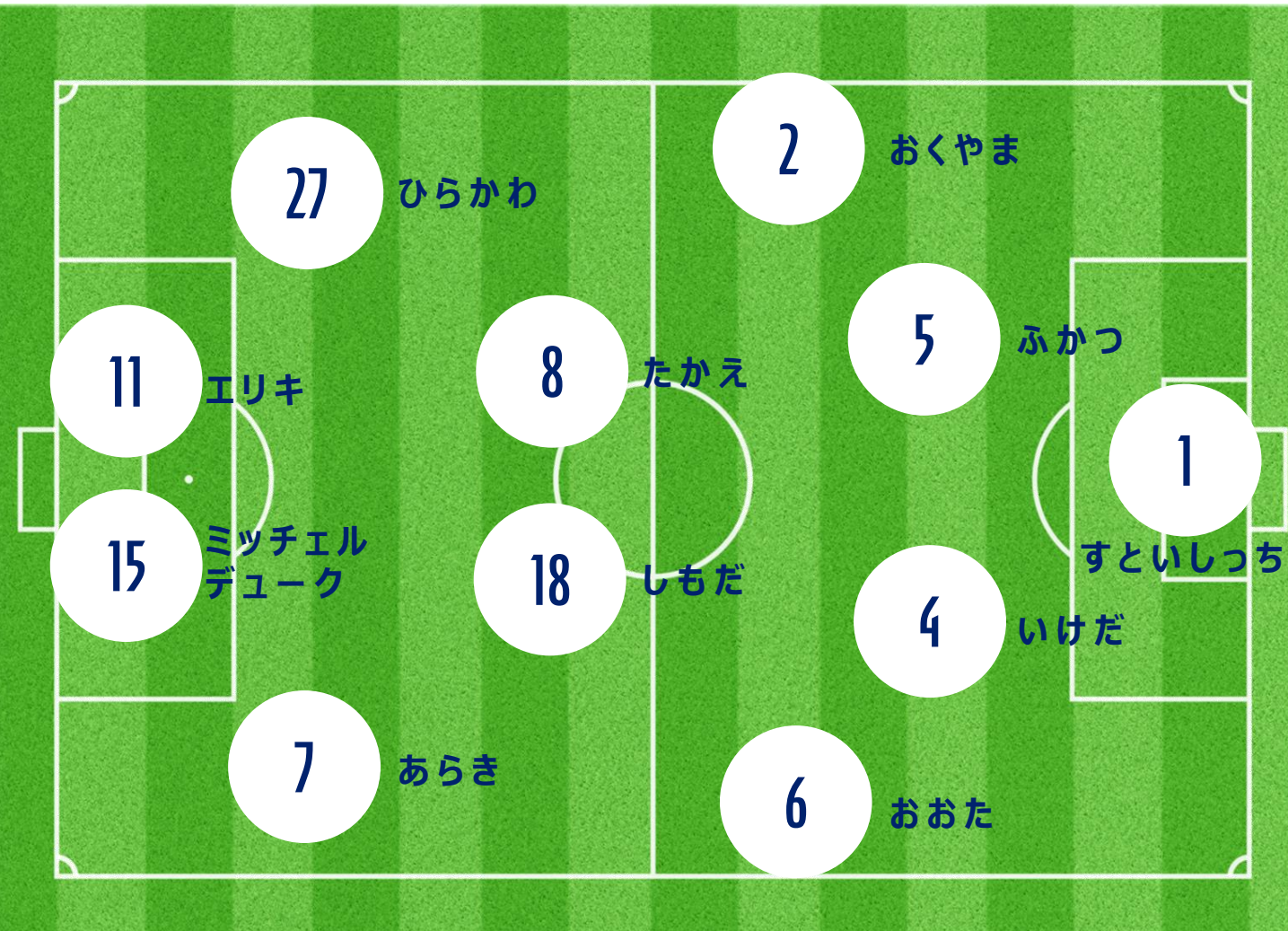
しき

$$2 + 4 = 6$$

6 わ

ふたりの せばんごうを あわせて 9 になるように するには
どのせんしゅたちを あわせたら いいでしょうか。

こたえは3つあるよ！



①
1ばん (すといしっち せんしゅ)
+ 8ばん (たかえ せんしゅ)

②
2ばん (おくやま せんしゅ)
+ 7ばん (あらき せんしゅ)

③
4ばん (いけだ せんしゅ)
+ 5ばん (ふかつ せんしゅ)

