



個別指導塾フォルテ

×



# 算数

## 5年生

### 第5節

1～4節のまとめ



しっかり復習をして次の節にそなえよう！

## 1 節の復習をしよう

下田選手と樋口選手は、練習前に一周0.4kmのグラウンドを何周もランニングしています。

今日は二人とも15周走りました。

今日二人が走ったきよりは、合わせて何kmですか。



【とき方】

【答え】

\_\_\_\_\_ km

## 2 節の復習をしよう

ゼルビーくんは計算ドリルをやっています。

昼ごはんの前に20分間、昼ごはんの後に10分間取り組み、  
27問の問題をとくことができました。

ゼルビー君は1分あたり、何問の問題をとくことができましたか？  
わり切れるまで計算しましょう。



【とき方】

【答え】

\_\_\_\_\_問

## 【コラム】サッカーワールドカップの歴史

真の世界王者を決める大会として、サッカーワールドカップは4年に一度開かれます。

第1回大会は1930年にウルグアイで開かれましたが、その時の出場国数は13か国でした。

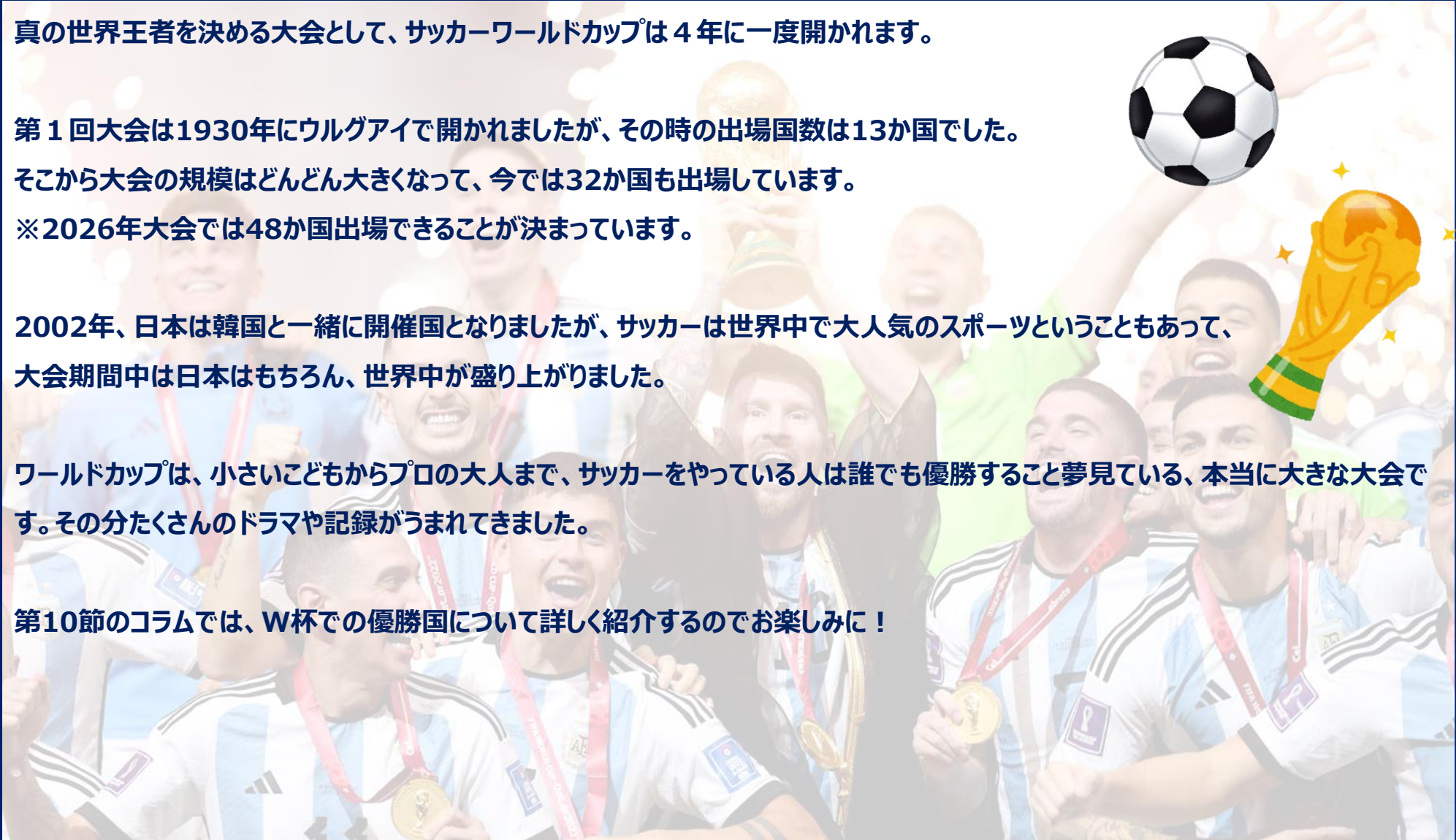
そこから大会の規模はどんどん大きくなって、今では32か国も出場しています。

※2026年大会では48か国出場できることが決まっています。

2002年、日本は韓国と一緒に開催国となりましたが、サッカーは世界中で大人気のスポーツということもあって、大会期間中は日本はもちろん、世界中が盛り上がりました。

ワールドカップは、小さい子どもからプロの大人まで、サッカーをやっている人は誰でも優勝すること夢見ている、本当に大きな大会です。その分たくさんのドラマや記録がうまれてきました。


第10節のコラムでは、W杯での優勝国について詳しく紹介するので楽しみに！



### 3節の復習をしよう

福井選手たちは、トレーニングで5kgの重りが必要になったため、ふくろにすなをつめて重りを作ることになりました。

すなが31.7kgあり、これを5kgずつふくろに分けていくと、何個の重りを作ることができますか。  
また、そのときすなは何kg残りますか。



### 【とき方】

【答え】

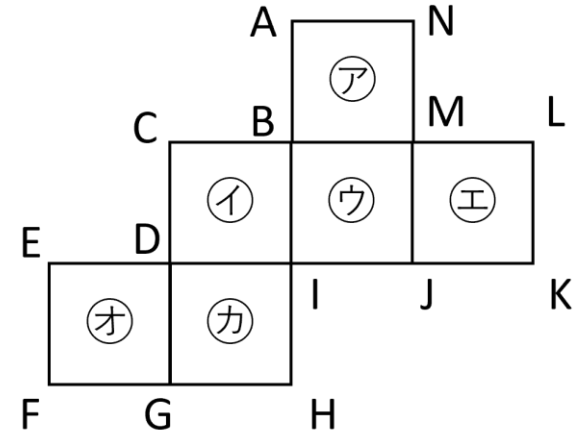
\_\_\_\_\_個の  
重りを作ることができます、

\_\_\_\_\_kg残る

### 4節の復習をしよう

右の図のような展開図を組み立てます。  
(全て谷おりで作ることになります)

- ① 組み立てたときにできる立体の名前はなんですか。
- ② 面アに平行な面はどれですか。
- ③ 面アに垂直な面はどれですか。
- ④ 辺ABに平行な面はどれですか。
- ⑤ 辺ABに垂直な面はどれですか。



### 【とき方】

【答え】

①

---

②

---

③

---

④

---

⑤

---