



個別指導塾フォルテ

×



# 算数

## 3年生

第5節

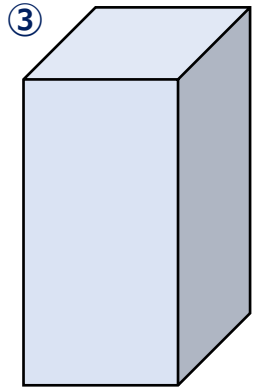
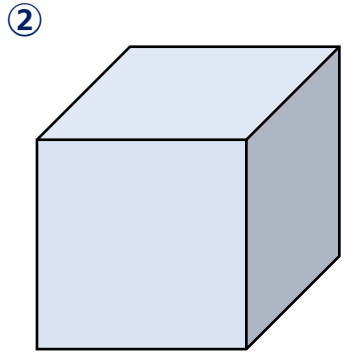
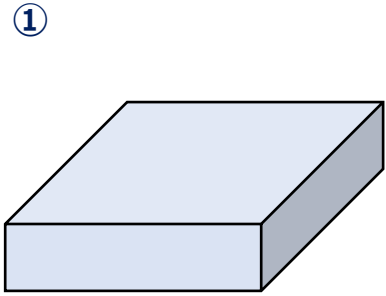
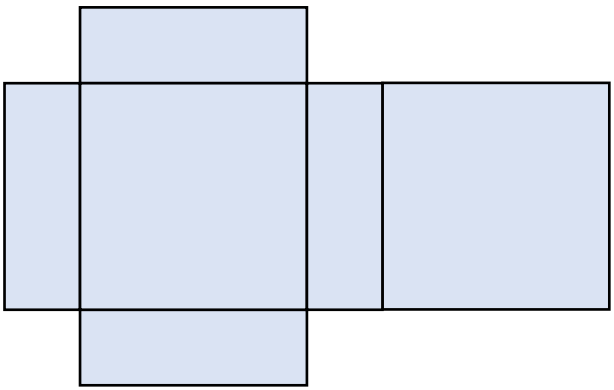
1～4節の復習

(1) 数字で書こう

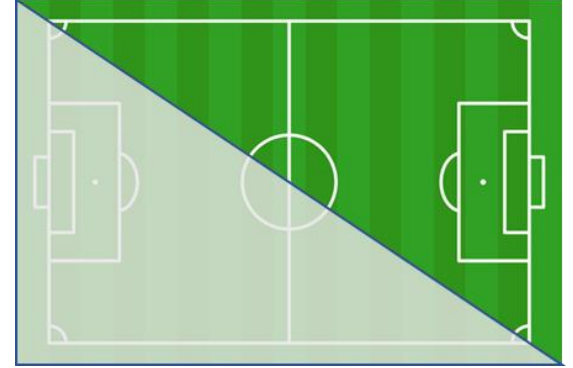
①六千五百十九 ( )

②千百十一 ( )

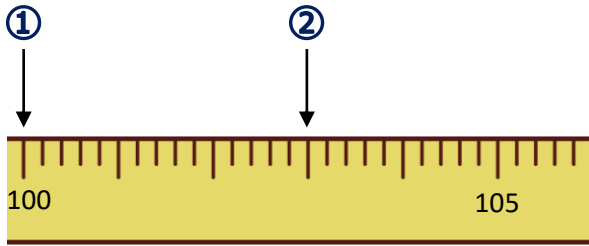
(2) 組み立てると、どのはこができますか。○をつけましょう。



(1) 2分の1になっているものに、すべて○をつけましょう。



(2) ①②の長さを たんに合わせて読もう



- ① (    ) cm
- (    ) m
- ② (    ) cm
- (    ) m (    ) cm

100cm(センチメートル)  
は  
1m(メートル)と  
同じ長さだよ



## 【コラム】 サッカーワールドカップのれきし

真の世界王者を決める大会として、サッカーワールドカップは4年に一度開かれるよ。

第1回大会は1930年にウルグアイで開かれたんだけど、その時の出場国数は13か国だったんだ。

そこから大会のきぼはどんどん大きくなって、今では32か国も出場しているよ。

※2026年大会では48か国出場できることが決まっています。



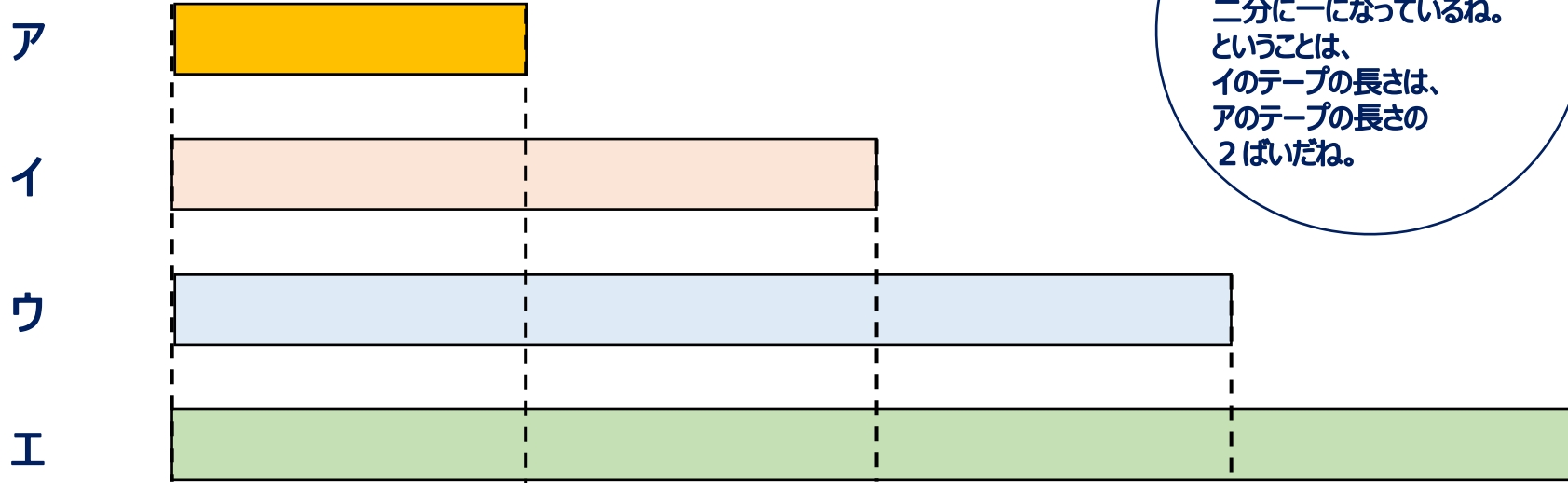
2002年、日本は韓国と一緒に開さい国となったけど、サッカーは世界中で大人気のスポーツということもあって、大会期間中は日本はもちろん、世界中が盛り上がったんだ。

ワールドカップは、小さいこどもからプロの大人まで、

サッカーをやっている人は誰でも優勝することゆめ見ている、本当に大きな大会だ。その分たくさんのドラマや記ろくがうまれてきたよ。

第10節のコラムでは、W杯での優勝国についてくわしくしょうかいするので楽しみに！

4つのテープの長さをくらべます。



アのテープの長さは、  
イのテープの長さの  
二分の一になっているね。  
ということは、  
イのテープの長さは、  
アのテープの長さの  
2ばいだね。



- ①ウのテープの長さは、アのテープの長さの何ばいですか。
- ②アのテープの長さは、ウのテープの長さの何分の一ですか。
- ③エのテープの長さは、イのテープの長さの何ばいですか。
- ④アのテープの長さは、エのテープの長さの何分の一ですか。