



個別指導塾フォルテ

×



# 算数

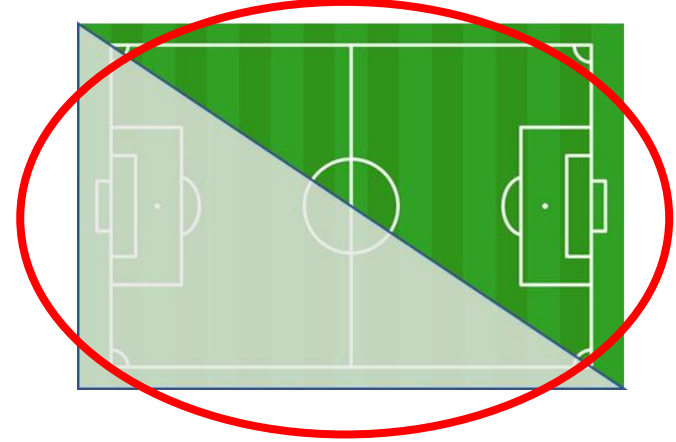
## 答え合わせ

### 3年生

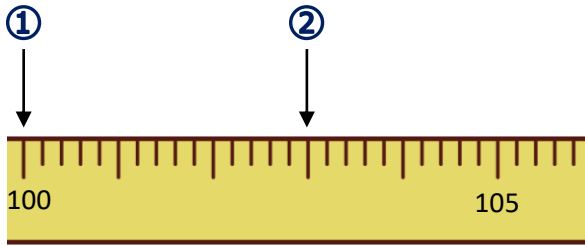
### 第5節

### 1～4節の復習

(1) 2分の1になっているものに、すべて○をつけましょう。



(2) ①②の長さを たんに合わせて読む



① (100) cm

( 1 ) m

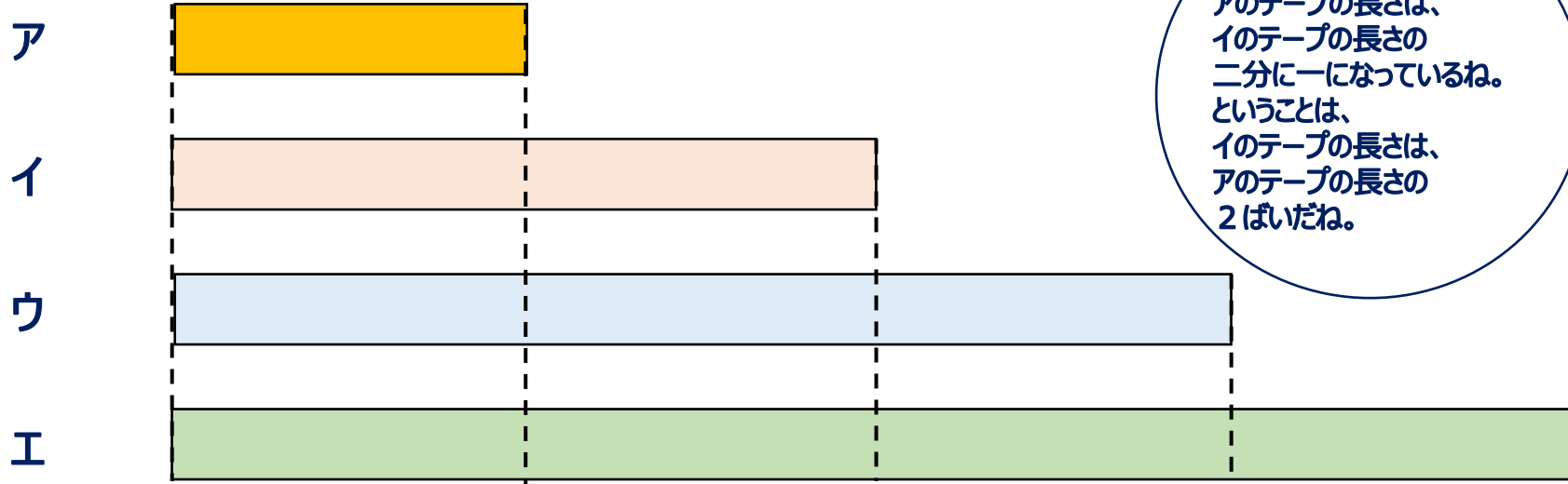
② (103) cm

( 1 ) m ( 3 ) cm

100cm(センチメートル)  
は  
1m(メートル)と  
同じ長さだよ



4つのテープの長さをくらべます。



アのテープの長さは、  
イのテープの長さの  
二分の一になっているね。  
ということは、  
イのテープの長さは、  
アのテープの長さの  
2ばいだね。



①ウのテープの長さは、アのテープの長さの何ばいですか。

3倍

②アのテープの長さは、ウのテープの長さの何分の一ですか。

三分の一  $\frac{1}{3}$

③エのテープの長さは、イのテープの長さの何ばいですか。

2ばい

④アのテープの長さは、エのテープの長さの何分の一ですか。

四分の一  $\frac{1}{4}$