



個別指導塾フォルテ

×




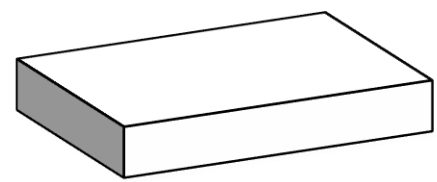

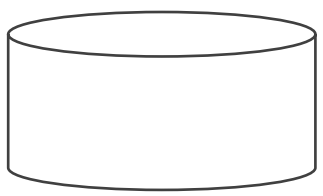
算数

2年生

だい4せつ

形を作る

にている形を 線で むすびましょう。



下の形は ㊦ のほうを 何本つかっているでしょう。

㊦
↓

①



本



②



本

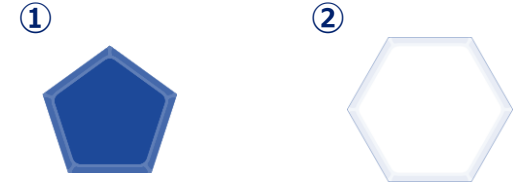


【コラム】 サッカーボールは どういう形で 出来ている？

ウォーミングアップに出てきた サッカーボールの形を よく見てみよう。

よく見ると 右の 二つの 形で 出来ているのに 気づいたかな？

①の形を 五角形、②の形を 六角形 とよぶよ。



じつは サッカーボールは 五角形を12こ 六角形を20こを
組み合わせた 形になっているんだ。

右の図は じっさいに 五角形と六角形を 組み合わせて
サッカーボールを 作る時の 一部だよ。

みのまわりのものが どのような 形で 出来ているか よく見てみよう。

