



個別指導塾フォルテ

×



算数

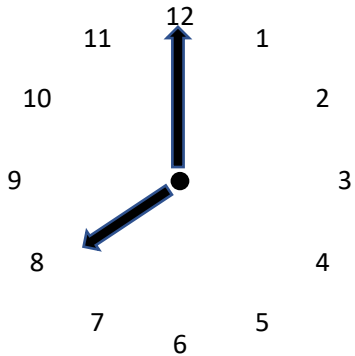
2年生

だい2せつ

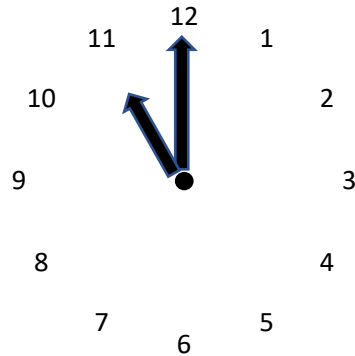
時間

①～③の 時計を よみましょう。

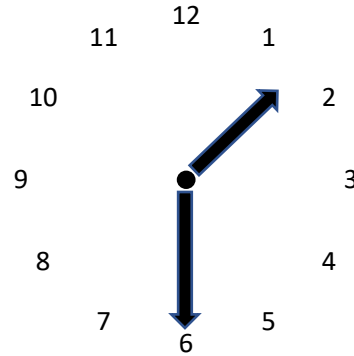
①



②



③



答え

答え

答え



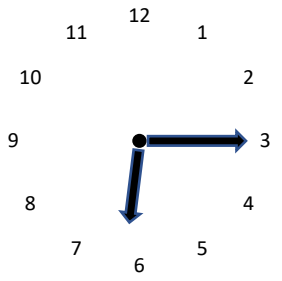
えりき せんしゅ

みじかいはりを見れば 何時か
長いほうを見れば 何分か
わかるよ



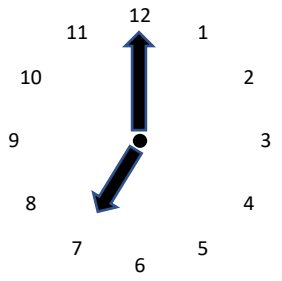
ゼルビアのせんしゅの し合前から し合しゅうりょうまでの ながれです。
それぞれの 時間を 答えましょう。

ウォーミング
アップ



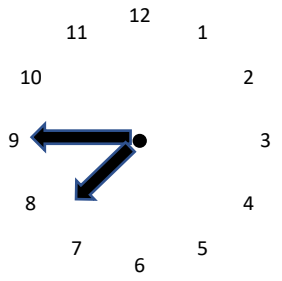
時
 分

し合
かいし



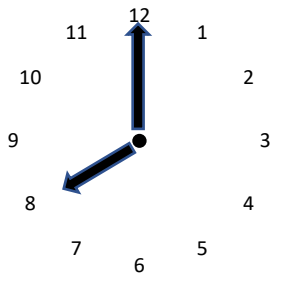
時
 分

前半
しゅうりょう



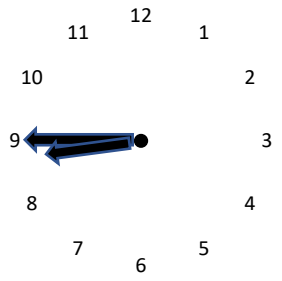
時
 分

後半
かいし



時
 分

し合
しゅうりょう



時
 分



【コラム】時計回りは なぜ 右回り？

時計回り ということばを 聞いたことがあるかな？

時計回りとは 文字通り 時計のはりが 回るむきのことを 言うんだ。

これまでの もんだいで やったように 時計のはりは 右に 回るんだ。

じゃあ何で 左じゃなくて 右に 回るのだろう？

それは 日時計 というものに かんけいしているんだ。

じつは むかしは 地めん に ぼうを立てて そのかげを見て 時間を はかっていたんだ。

地めん に ぼうを立てると 太陽とは はんたいの方に かげができるんだ。

そのかげのうごきを 見てみると 右回りに なっているんだ。

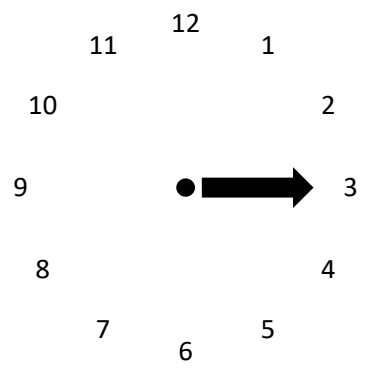
今の 時計は 日時計をもとに 作られたから 時計のはりも 右回りに なっているんだね。

じっさいに 地めん に ぼうをたてて かげのうごきを かんさつしてみると よく分かるよ。



書いてある時間に なるように 自分で はりを 書いてみましょう。

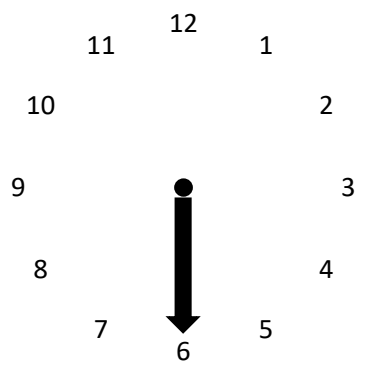
3時



長いはりを 書こう



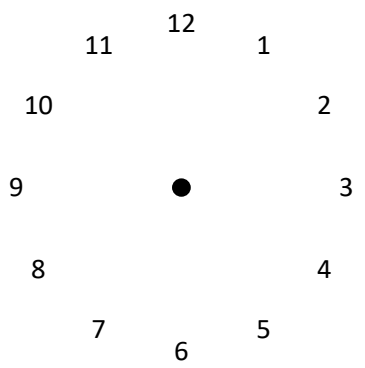
12時半
12時30分



みじかいはりを 書こう



4時45分



みじかいはりと
長いはりを 書こう

