



個別指導塾フォルテ

×



# 算数

## 答え合わせ

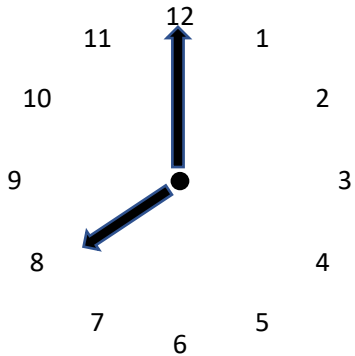
### 2年生

だい2せつ

時間

①～③の 時計を よみましょう。

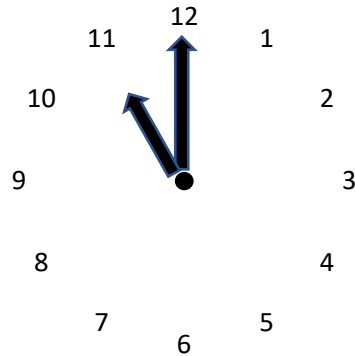
①



答え

**8時**

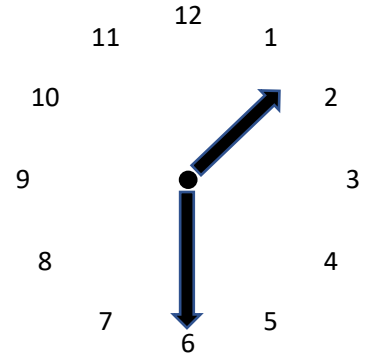
②



答え

**11時**

③



答え

**1時30分**



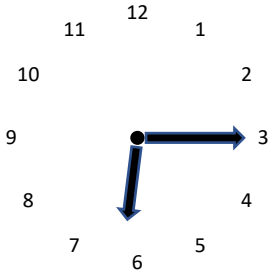
えりき せんしゅ

みじかいはりを見れば 何時か  
長いほうを見れば 何分か  
わかるよ



ゼルビアのせんしゅの し合前から し合しゅうりょうまでの ながれです。  
それぞれの 時間を 答えましょう。

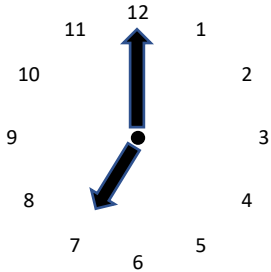
ウォーミング  
アップ



**6** 時

**15** 分

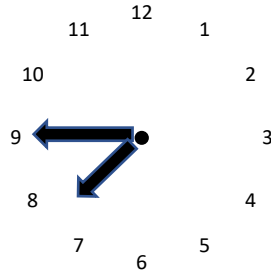
し合  
かいし



**7** 時



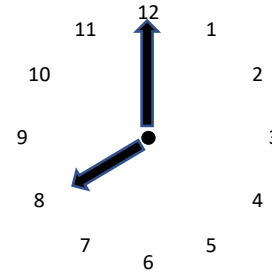
前半  
しゅうりょう



**7** 時

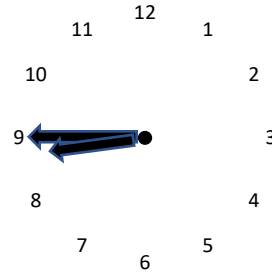
**45** 分

後半  
かいし



**8** 時

し合  
しゅうりょう

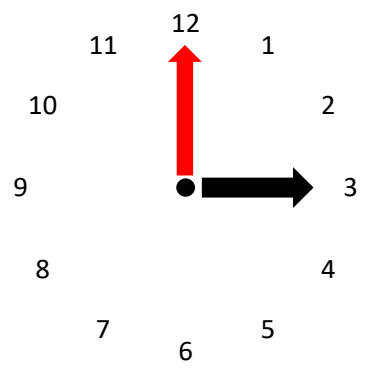


**8** 時

**45** 分

書いてある時間に なるように 自分で はりを 書いてみましょう。

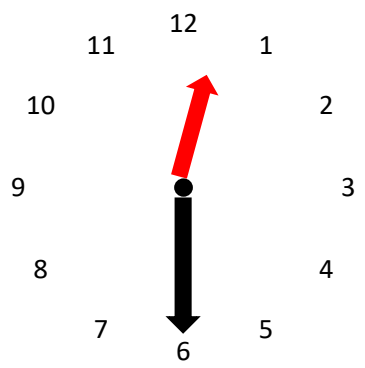
3時



長いはりを 書こう



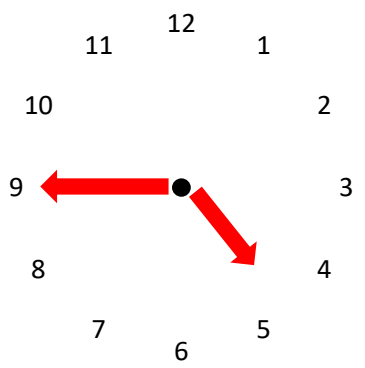
12時半  
12時30分



みじかいはりを 書こう



4時45分



みじかいはりと  
長いはりを 書こう

