



個別指導塾フォルテ

×



さんすう

答え合わせ

2年生

テスト2022

点

問題①

* 各5点 (しき含む)



個別指導塾フォルテ



ゼルビーが 子どもたちの すきな食べものを しらべました。
下のひょうをもとに問題に答えましょう。



カレーライス	ハンバーグ	オムライス	ラーメン	すし	やきにく	からあげ	ギョーザ	うどん	その他
22	2	17	9	30	15	12	29	5	4

1 子どもたちは何人いますか？

しき
 $22 + 2 + 17 + 9 + 30 + 15 + 12 + 29 + 5 + 4 = 145$

答え
145人

2 すしがすきな子どもは、ラーメンがすきな子どもより何人多いですか？

しき
 $30 - 9 = 21$

答え
21人多い



問題②

* 各5点 (しき含む)



個別指導塾フォルテ



おく山まさゆきせん手のサイン入り色紙の当たるキャンペーンをじっしします。
キャンペーン期間は1週間で、1日5人当たります。次の問題に答えましょう。

1 おく山せん手は何まいの色紙にサインすればいいですか？

しき

$$5 \times 7 = 35$$

答え

35まい

2 人気があったため、期間が3日えん長されました。おく山せん手は、ついでに何まいの色紙にサインすればいいですか？

しき

$$5 \times 3 = 15$$

答え

15まい

3 おく山せん手はぜん体で何まいの色紙にサインしましたか？

しき

$$35 + 15 = 50$$

or

$$5 \times (7 + 3) = 50$$

答え

50まい



問題③

* 各5点



個別指導塾フォルテ



次のひっ算をしましょう。



(1)

	8	4	2
+		5	8
	9	0	0

(2)

	5	5	3
+		3	6
	5	8	9

(3)

	3	6	3
-		4	2
	3	2	1

(4)

	8	2	6
-		8	7
	7	3	9

問題④

* 各5点 (しき含む)

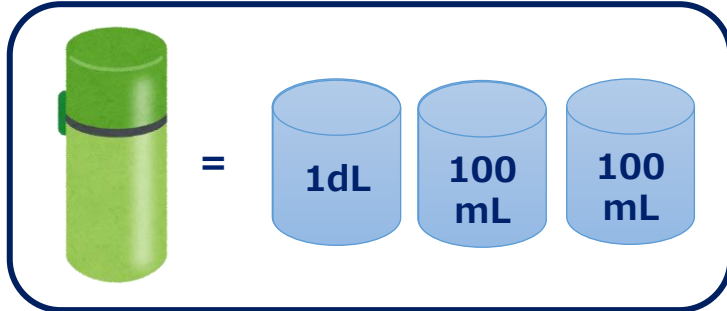


ゼルビーが水とうをもっています。水のかさはそれぞれいくつですか？

回答らんにあるたんいで答えましょう。



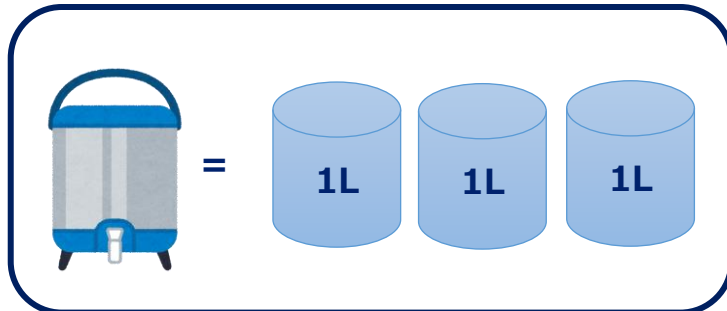
1



しき $100\text{ mL} = 1\text{ dL}$
 $1 + 1 + 1 = 3$

答え **3** dL

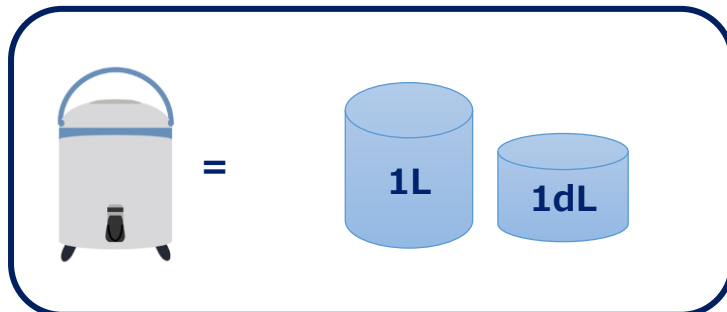
2



しき $1 + 1 + 1 = 3$

答え **3** L

3



しき $1\text{ L} = 10\text{ dL}$
 $10 + 1 = 11$

答え **11** dL

