



個別指導塾フォルテ

×



さんすう

こたえあわせ

1ねんせい

テスト2022

もんだい①

各5点 (しき含む)

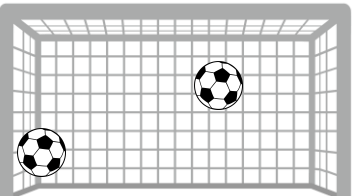


個別指導塾フォルテ

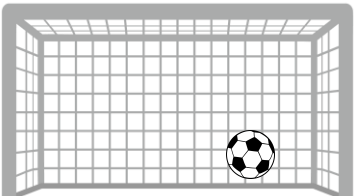


おおたしゅうすけ せんしゅは なんてん きめたかな？ サッカーボールの かずを こたえましょう。

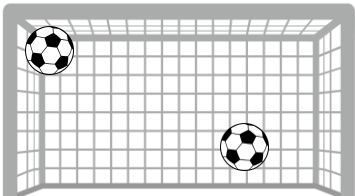
3がつ



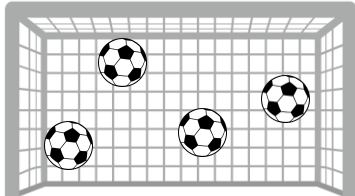
5がつ



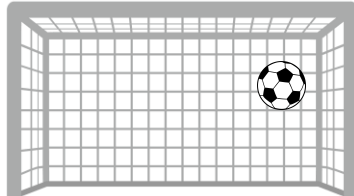
6がつ



7がつ



9がつ



こたえ
2

こたえ
1

こたえ
2

こたえ
4

こたえ
1

ごうけい なんてん きめているか けいさんして こたえましょう。

しき
 $2 + 1 + 2 + 4 + 1 = 10$

こたえ
10てん



もんだい②

各5点



個別指導塾フォルテ



□にあてはまるかずをいれて、こたえが10になるようにしましょう。

①

6

+

4

=

10

②

17

-

7

=

10

③

31

-

21

=

10



もんだい③

各5点（しき含む）



個別指導塾フォルテ



したのずをみて といに こたえましょう。

	A			B			C					D				
	■			■	■		■	■	■	■		■		■	■	
	■				■			■				■	■	■		

①

A・B・C・Dの ひろさは それぞれ なんますぶんですか？

こたえ

A : [2] ますぶん B : [3] ますぶん C : [5] ますぶん D : [6] ますぶん

②

A・B・C・Dのなかで いちばんひろいものは いちばんせまいものよりも なんますぶん ひろいですか。

しき

$$6 - 2 = 4$$

こたえ

4ます

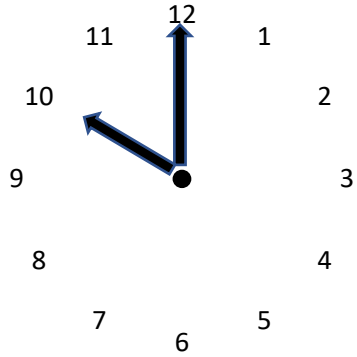


もんだい④

各5点

①～③の とけいを みて じかんを かきましょう。

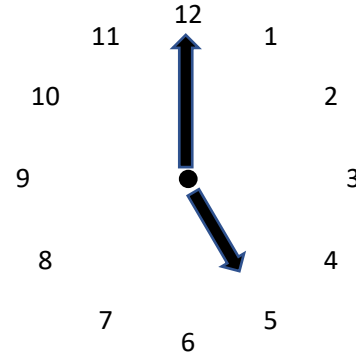
①



こたえ

10じ

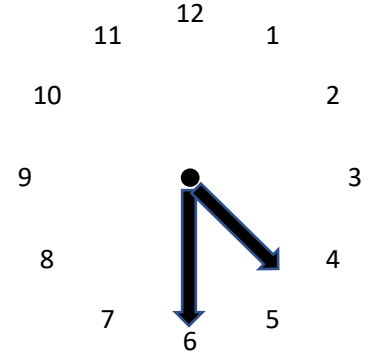
②



こたえ

5じ

③



こたえ

4じ30ぶん