



個別指導塾フォルテ

×



さんすう

こたえあわせ

1ねんせい

だい20せつ

16～19のふくしゅう

① せん手たちが さいしよに れんしゅうを はじめたのは なんじなんふんでしょう。

①

こたえ **10じ45ふん**

② せん手たちが れんしゅうを さいかいしたのは なんじなんふんでしょう。

②

こたえ **12じ45ふん**

③ せん手たちが おひる休みのあとに しゅうごうしたのは なんじなんふんでしょう。

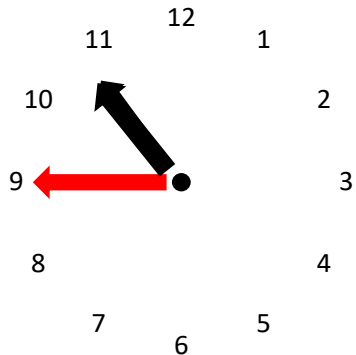
③

こたえ **12じ35ふん**

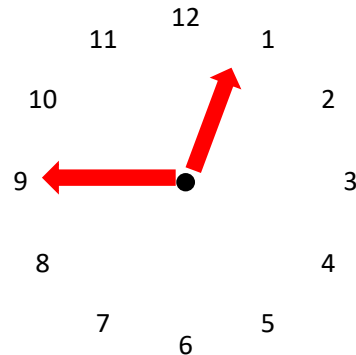
④

④ ①～③のときの じかんと それぞれ下の とけいにかきこみましょう。

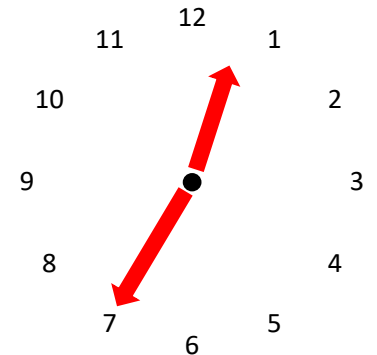
①



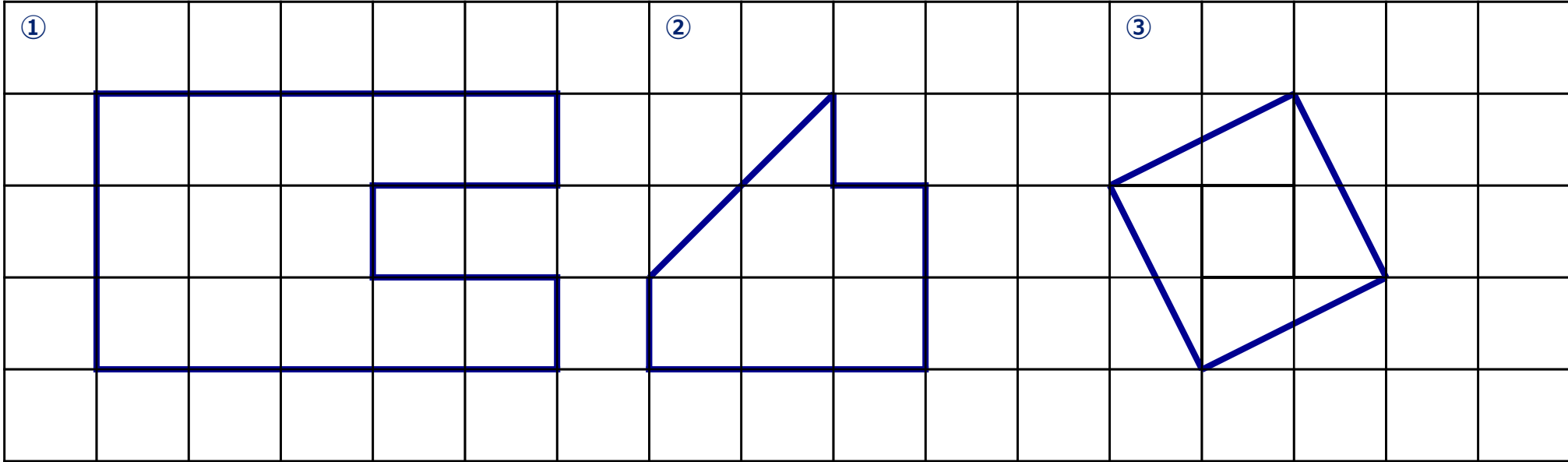
②



③



下のずをみて もんだいに こたえましょう。



① ② ③のかたちは それぞれ なんマスぶんでしょう。

①

こたえ ① **13マスぶん**

こたえ ② **6マスぶん**

こたえ ③ **5マスぶん**

1ばん大きいかたちは 1ばん小さいかたちよりも なんマスぶん大きいでしょう。しきもかきましょう。

②

しき

$$13 - 5 = 8$$

こたえ

8マスぶん