



個別指導塾フォルテ

×



算数

2年生

だい18せつ

かけ算①



2、3、4、5のだんの九九をマスターしよう!

① 5のだんの九九

ゼルビーぬいぐるみが5体ずつ入ったはこが7はこあります。ゼルビーぬいぐるみはぜんぶで何体ありますか。

1はこにゼルビーぬいぐるみが
5体入っているので、
7はこでは7ばいしよう!



(しき)

答え

体

② 4のだんの九九

ゼルビアクッキー4こ入りのふくろが6ふくろあります。ゼルビアクッキーはぜんぶで何こありますか。



1ふくろにゼルビアクッキーが
4こ入っているので、
6ふくろでは6ばいしよう!

(しき)

答え

こ



Fight!!

1. かけ算をしましょう。

- | | |
|---------------------------------------|---------------------------------------|
| ① $2 \times 2 =$ <input type="text"/> | ② $2 \times 8 =$ <input type="text"/> |
| ③ $2 \times 4 =$ <input type="text"/> | ④ $2 \times 7 =$ <input type="text"/> |
| ⑤ $2 \times 6 =$ <input type="text"/> | ⑥ $2 \times 9 =$ <input type="text"/> |
| ⑦ $3 \times 1 =$ <input type="text"/> | ⑧ $3 \times 5 =$ <input type="text"/> |
| ⑨ $3 \times 3 =$ <input type="text"/> | ⑩ $3 \times 8 =$ <input type="text"/> |
| ⑪ $3 \times 4 =$ <input type="text"/> | ⑫ $3 \times 7 =$ <input type="text"/> |

2. かけ算をしましょう。

- | | |
|---------------------------------------|---------------------------------------|
| ① $4 \times 6 =$ <input type="text"/> | ② $4 \times 4 =$ <input type="text"/> |
| ③ $4 \times 9 =$ <input type="text"/> | ④ $4 \times 2 =$ <input type="text"/> |
| ⑤ $4 \times 7 =$ <input type="text"/> | ⑥ $4 \times 8 =$ <input type="text"/> |
| ⑦ $5 \times 3 =$ <input type="text"/> | ⑧ $5 \times 6 =$ <input type="text"/> |
| ⑨ $5 \times 5 =$ <input type="text"/> | ⑩ $5 \times 9 =$ <input type="text"/> |
| ⑪ $5 \times 4 =$ <input type="text"/> | ⑫ $5 \times 7 =$ <input type="text"/> |

3. かけ算のしきを書きましょう。

① 1 ふくろ 2 この 8 ふくろ分

$$\square \times \square = \square$$

1 ふくろ分の数

ふくろの数

ぜんぶの数



② 1 ペン 4 cmのさいころを 5 こつなげたときの長さ

$$\square \times \square = \square$$

さいころの長さ

さいころの数

ぜんぶの長さ



[コラム] かけ算ひとつで書きにチャレンジ!

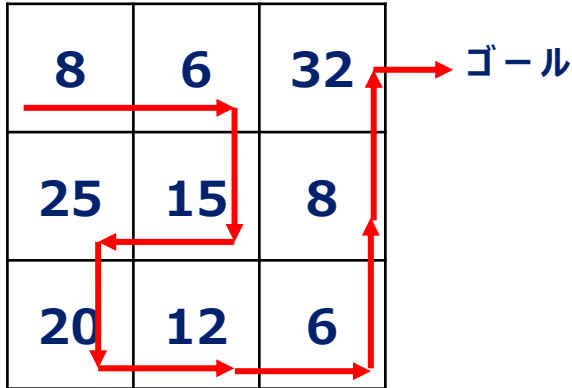
ルールにしたがってぜんぶのマスを通りゴールへ行こう!

(ルール)



じっさいにとり組んでみよう!

スタート 4 ⇒



スタート 3 ⇒



ゴール

- ① 4 からスタートし、つぎは 8 で 4×2
- ② 8 の上下左右で 2 のだんの数字は 6 で 2×3 となり $8 \rightarrow 6$
- ③ 6 の上下左右で 3 のだんの数字は 15 で 3×5 となり $6 \rightarrow 15$
- ④ 15 の上下左右で 5 のだんの数字は 25 で 5×5 となり $15 \rightarrow 25$
- ⑤ 25 の上下左右で 5 のだんの数字は 20 で 5×4 となり $25 \rightarrow 20$

同じようにつづけると、 $20 \rightarrow 12 \rightarrow 6 \rightarrow 8 \rightarrow 32 \rightarrow$ ゴールとなる

15 ← 25 ← 10 ← 9
12 ← 8 ← 6
27 ← 10 ← 9
25 ← 10 ← 9
15 ← 25 ← 10 ← 9
12 ← 8 ← 6
27 ← 10 ← 9
25 ← 10 ← 9
(答え)

1

おく山まさゆきせん手のサイン入り色紙の当たるキャンペーンをじっしします。
キャンペーン期間は1週間で、1日5人当たります。



① おく山せん手は何まいサインすればいいですか。

しき

答え

まい

② 人気があったため、きかんが3日えん長されました。
おく山せん手は、ついかで何まいサインすればいいですか。
また、ぜん体では何まいサインすればいいですか。



しき

答え

答え

ついかで まい

ぜん体で まい