



個別指導塾フォルテ

×




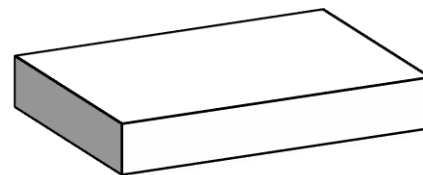

さんすう

1ねんせい

だい19せつ

かたちをつくる

にているかたちを せんで むすびましょう。



下のかたちは ㊦ のぼうを なん本つかっているでしょう。

㊦  
↓

①



本



②



本



【コラム】 サッカーボールは どういうかたちで できている？

ウォーミングアップに出てきた サッカーボールのかたちを よくみてみよう。

よくみると 右の ふたつの かたちで できているのに 気づいたかな？

①のかたちを ごかくけい（五かくけい）

②のかたちを ろっかくけい（六かくけい） とよぶよ。

①



②



じつは サッカーボールは 五かくけいを 12こ 六かくけいを 20こを  
くみあわせた かたちになっているんだ。

右のずは じっさいに 五かくけいと六かくけいを くみあわせて  
サッカーボールを つくるときの いちぶだよ。

みのまわりのものが どのような かたちで できているか よくみてみよう。

