



個別指導塾フォルテ

×



算数

2年生

だい5せつ

1~4のふくしゅう

①の形は
アのぼうが 8本で出来ています。

アのぼうを 8本つかって
①よりも 1マス分 広い形を
右のマスに 作りましょう。

②の形は
アのぼうが 10本で出来ています。

アのぼうを 10本つかって
①よりも 2マス分 広い形を
右のマスに つくりましょう。

| | | | | | | | | | | |
|---|--|--|--|--|--|--|--|--|--|--|
| ア | | | | | | | | | | |
| | | | | | | | | | | |
| ① | | | | | | | | | | |
| | | | | | | | | | | |
| | | | | | | | | | | |
| ② | | | | | | | | | | |
| | | | | | | | | | | |

①は、「3マス」だから「4マス」の形をつくろう！

②は、「4マス」だから「6マス」の形をつくろう！



下の文しょうを 読んで つぎのページの もんだいに 答えましょう。

ゼルビアの せん手たちが グラウンドで れんしゅうをします。

10時半（10時30分）に グラウンドに とうちゃくし、

15分後に れんしゅうを はじめました。

れんしゅうを はじめてから 1時間後に お昼休みに入り、

さらに その1時間後に れんしゅうを さいかいしました。

せん手たちは れんしゅうが さいかいする 10分前に しゅう合していました。



① せん手たちが さいしよに れんしゅうを はじめたのは 何時何分でしょう。

答え

② せん手たちが れんしゅうを さいかいしたのは 何時何分でしょう。

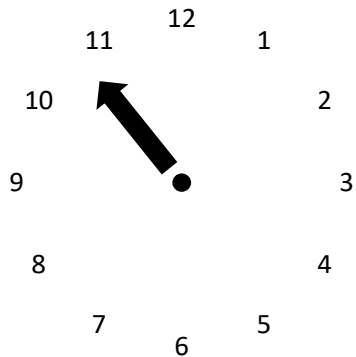
答え

③ せん手たちが お昼休みの後に しゅう合したのは 何時何分でしょう。

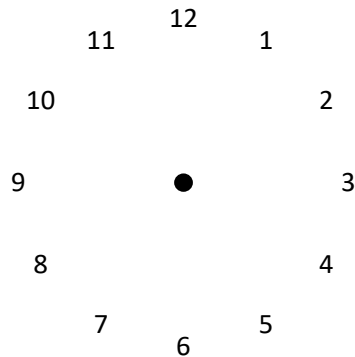
答え

④ ①～③のときの 時こくを それぞれ下の 時計にかきこみましょう。

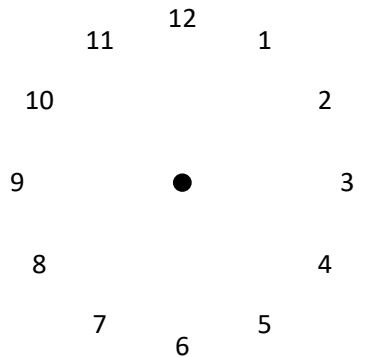
①



②



③



【コラム】今日のし合って、なんの大会？

日本の プロサッカーチームが 毎シーズン どんな大会に さんかしているか みんなは 知っているかな？
し合を 見るとき、「今日のし合って、なんの大会？」って思ったことも あるんじゃないかな。

国内男子の おもな大会といえば、「Jリーグ」「天皇杯（てんのうはい）」「ルヴァンカップ」の
3つがあげられるよ。

また、前シーズンの せいせきによっては 「富士フィルムスーパーカップ」や
「アジアチャンピオンズリーグ」・「クラブワールドカップ」にも 出場できるんだ。

2021シーズンの 町田ゼルビアは 42し合のJ2リーグと 1し合の天皇杯をたたかったよ。

ざんねんながら ルヴァンカップや ほかの大会には 出られなかったけど
来シーズンこそは J1に昇格(しょうかく)して いろんな大会で
かつやくできるように 今シーズンも ゼルビアを おうえんしよう！

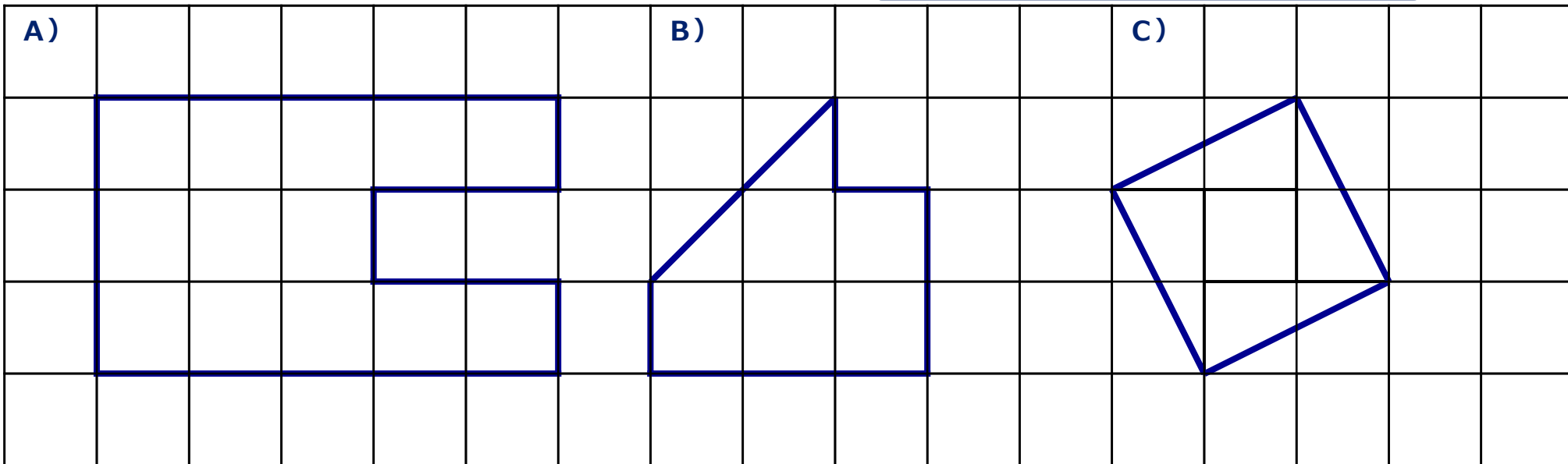
つぎのコラムでは それぞれの 大会について しょうかいしていくね！
お楽しみに！





下の図を見て もんだいに 答えましょう。

▲を2つあわせると 1マス分になるね。



① A・B・Cの形は それぞれ 何マス分でしょう。

A)

B)

C)

② 1番大きい形は 1番小さい形よりも 何マス分大きいでしょう。式もかきましょう。

式

答え