



個別指導塾フォルテ

×



算数

答え合わせ

2年生

だい5せつ

1~4のふくしゅう

①の形は
 アのぼうが 8本で出来ています。

アのぼうを 8本つかって
 ①よりも 1マス分 広い形を
 右のマ스에 作りましょう。

②の形は
 アのぼうが 10本で出来ています。

アのぼうを 10本つかって
 ②よりも 2マス分 広い形を
 右のマ스에 つくりましょう。

ア											
①											
②											

せん手たちが さいしよに れんしゅうを はじめたのは 何時何分でしょう。

①

答え 10時45分

せん手たちが れんしゅうを さいかいしたのは 何時何分でしょう。

②

答え 12時45分

せん手たちが おひる休みのあとに しゅう合したのは 何時何分でしょう。

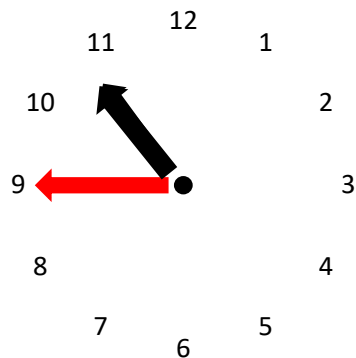
③

答え 12時35分

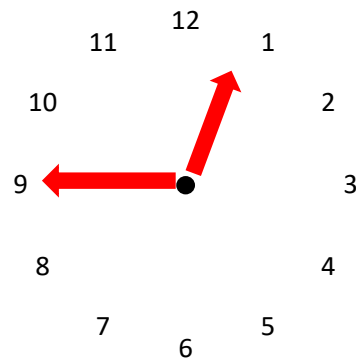
④

①~③のときの 時こくを それぞれ下の 時計にかきこみましょう。

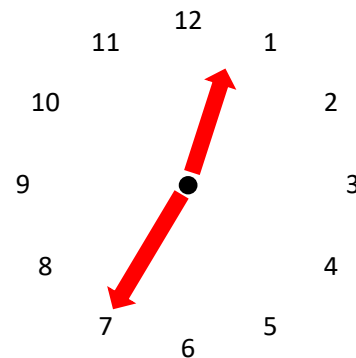
①



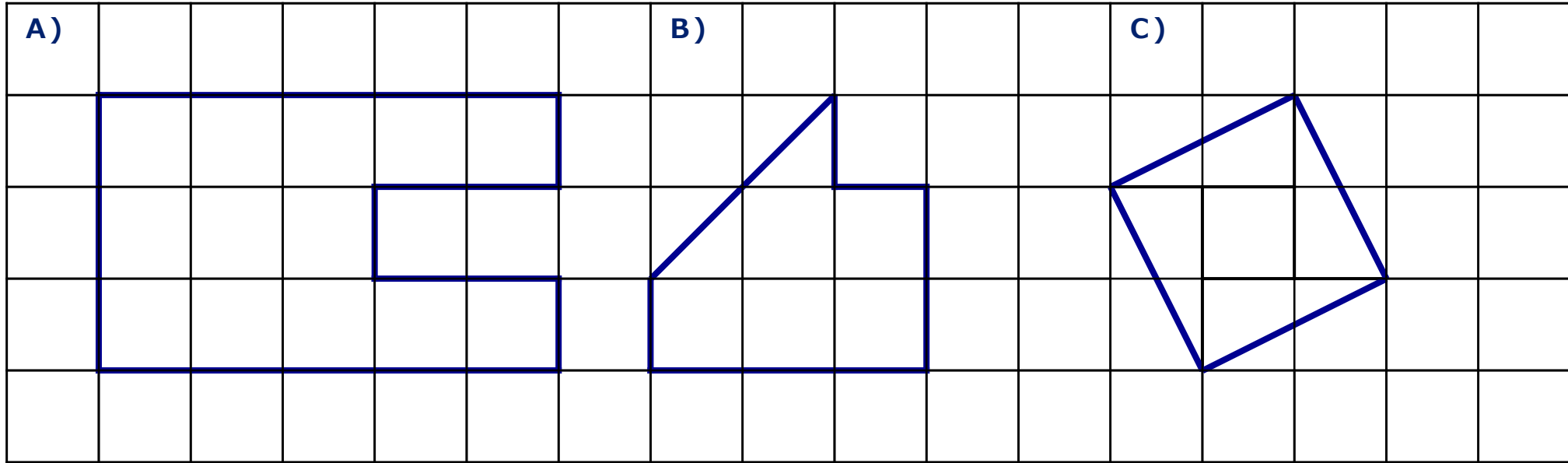
②



③



下の図をみて もんだいに 答えましょう。



① A・B・Cの形は それぞれ 何マス分でしょう。

A) 13マス分

B) 6マス分

C) 5マス分

② 1番大きい形は 1番小さい形よりも 何マス分大きいでしょう。式もかきましょう。

式

$$13 - 5 = 8$$

答え

8マス分