



個別指導塾フォルテ

×



さんすう

1ねんせい

だい14せつ

おおきいかず

えんぴつの かずを すうじで かきましょう。

10 10 10 10

本



ひやく
10が 10こで 100というよ！
例えば、108は、
10が 10こ、1が 8こ
あつまったかずだね。

10が 4こあつまると 40に なります。
40と 5が あわさって 45（よんじゅうご）に なります。

十のくらい	一のくらい
4	5

10の かたまりの かずは 十のくらい
ばらの かずは 一のくらい
にかきます



① 10が 6こと、 1が8こ あつまったかず。

十のくらい	一のくらい

こたえ

② 10が 10こと、 1が5こ あつまったかず。

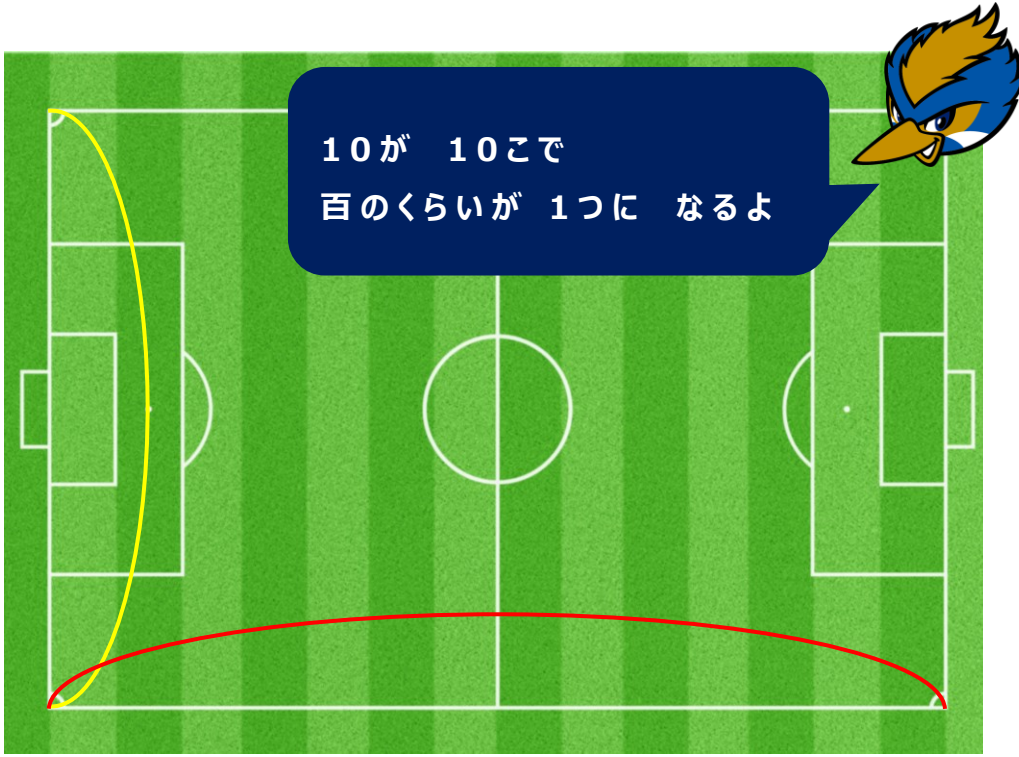
ひやく 百の くらい	十の くらい	一の くらい

こたえ

③ 10が 18こと、 1が7こ あつまったかず。

百の くらい	十の くらい	一の くらい

こたえ



26 奈良坂 巧
ならさか たか


ヒント

①と②は フィールドの どこかの
ながさに なっています！

③は ぼくの しんちょう です！

【コラム】 おおきなかずのけいさん「 $40 + 20$ をかんがえてみよう！」

40は 10が 4つあつまったかず



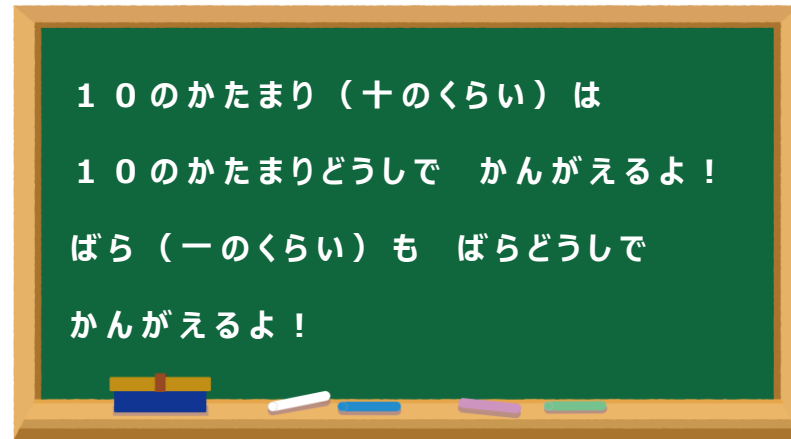
20は 10が 2つあつまったかず

なので 10の かたまりの かずを かぞえると



$4 + 2 = 6$ で 10の かたまりが 6こあることが わかるね。

つまり $40 + 20 = 60$ と もとめることが できるよ！



つぎの かずは なにか もとめましょう。

1 21より4おおきいかず

こたえ

2 27より3ちいさいかず

こたえ

3 35より5おおきいかず

こたえ

4 41より6ちいさいかず

こたえ



21 22 23 24 25 26 27 28 29 30 31 32 33 34 35 36 37 38 39 40 41 42 43