



個別指導塾フォルテ

×



さんすう

こたえあわせ

1ねんせい

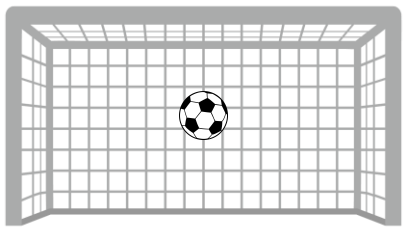
だい3せつ

あわせていくつ・
ふえるといくつ

れい

F C 町田ゼルビアの せんしゅは なんてん きめたかな？

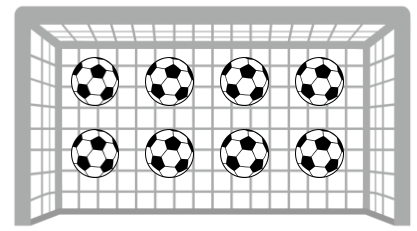
2がつの しいい



1



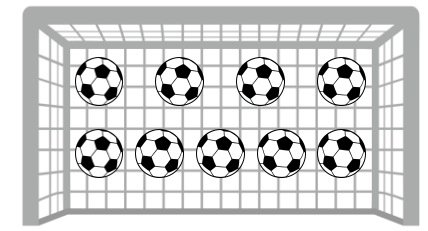
3がつの しいい



8



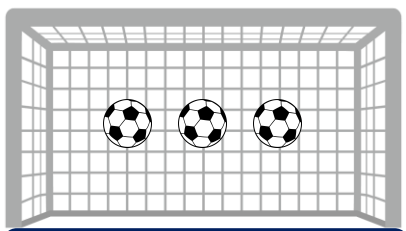
あわせて



9

「1 たす 8 は 9」とよむよ！

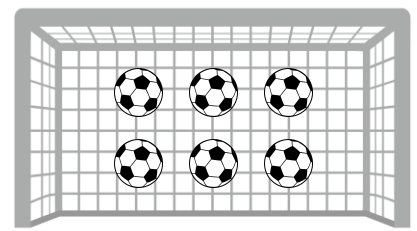
ホームの しいい



3



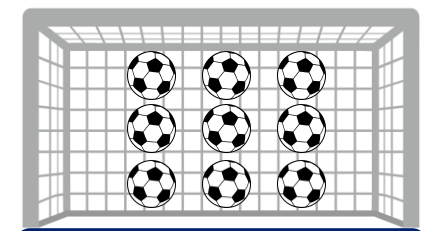
アウェイの しいい



6



あわせて



9

「3 たす 6 は 9」とよむよ！

つぎの ぶんを よんで しきを つくり あわせていくつになるか こたえましょう。

わからないときは えを さんこうに しよう。

① かだんに あかいサルビアの花が4本、うえきばちに
あおいサルビアの花が3本 さいています。

サルビアの花は あわせて なん本 さいていますか。




しき

$$4 + 3 = 7$$

7 本

② けやきの 木に カワセミが 2羽 とまっています。
そこへ あたらしく 4羽の カワセミが やってきました。

けやきの 木に カワセミは なん羽 いますか。



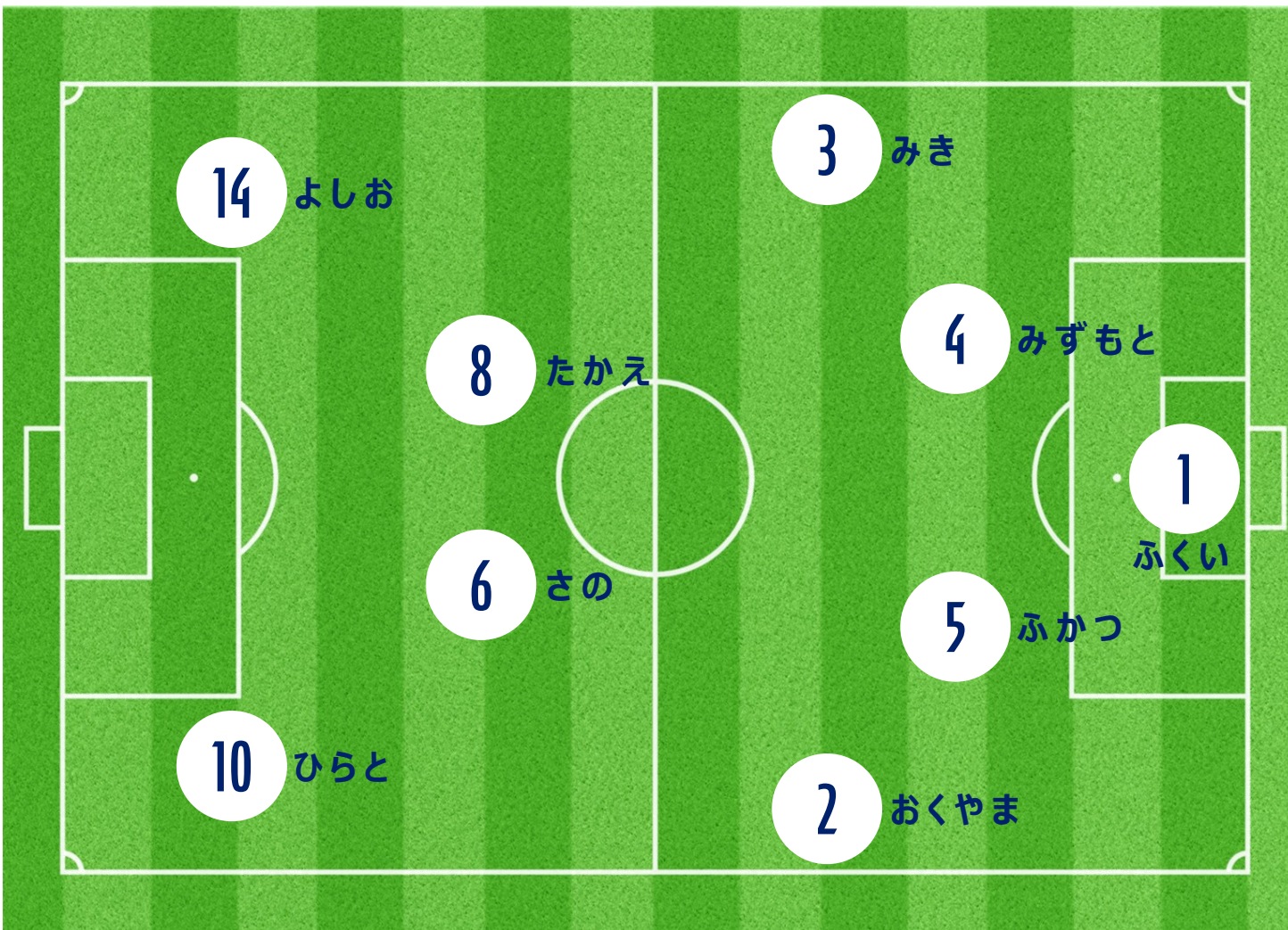
しき

$$2 + 4 = 6$$

6 羽

ふたりの せばんごうを あわせて 9になるように するには
どのせんしゅたちを あわせたら いいでしょうか。

こたえは3つあるよ！



①

1ばん (ふくい せんしゅ)
+ 8ばん (たかえ せんしゅ)

②

3ばん (みき せんしゅ)
+ 6ばん (さの せんしゅ)

③

4ばん (みずもと せんしゅ)
+ 5ばん (ふかつ せんしゅ)

