



個別指導塾フォルテ

×



さんすう

1ねんせい

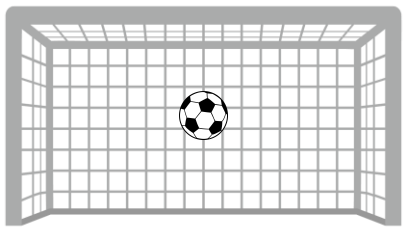
だい3せつ

あわせていくつ・  
ふえるといくつ

れい

F C 町田ゼルビアの せんしゅは なんてん きめたかな？

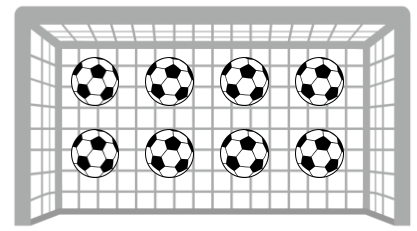
2がつの しいい



1



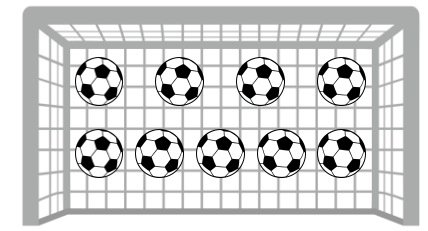
3がつの しいい



8



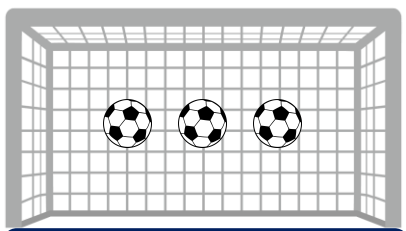
あわせて



9

「1 たす 8 は 9」とよむよ！

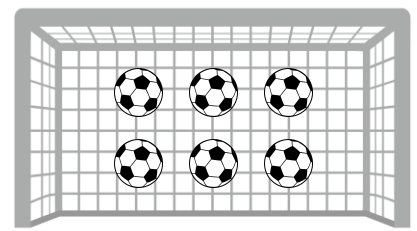
ホームの しいい



?



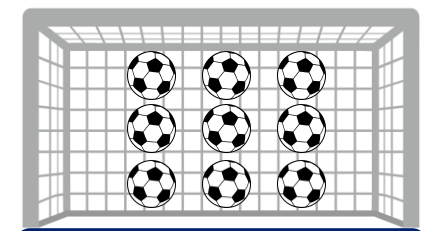
アウェイの しいい



6



あわせて



?

「3 たす 6 は 9」とよむよ！

つぎの ぶんを よんで しきをつくり あわせていくつになるか こたえましょう。

わからないときは えを さんこうに しよう。

① かだんに あかいサルビアの花が4本、うえきばちに  
あおいサルビアの花が3本 さいています。

サルビアの花は あわせて なん本 さいていますか。




しき

こたえ

本

② けやきの 木に カワセミが 2羽 とまっています。  
そこへ あたらしく 4羽の カワセミが やってきました。  
けやきの 木に カワセミは なん羽 いますか。



しき

こたえ

羽

## 【コラム】 0の たしざん

だい1かいの コラムでは「なにもない」ことを あらわすのに 0を つかうことを まなんだね。

だい3かいの コラムでは 0の たしざんを まなんでみよう。

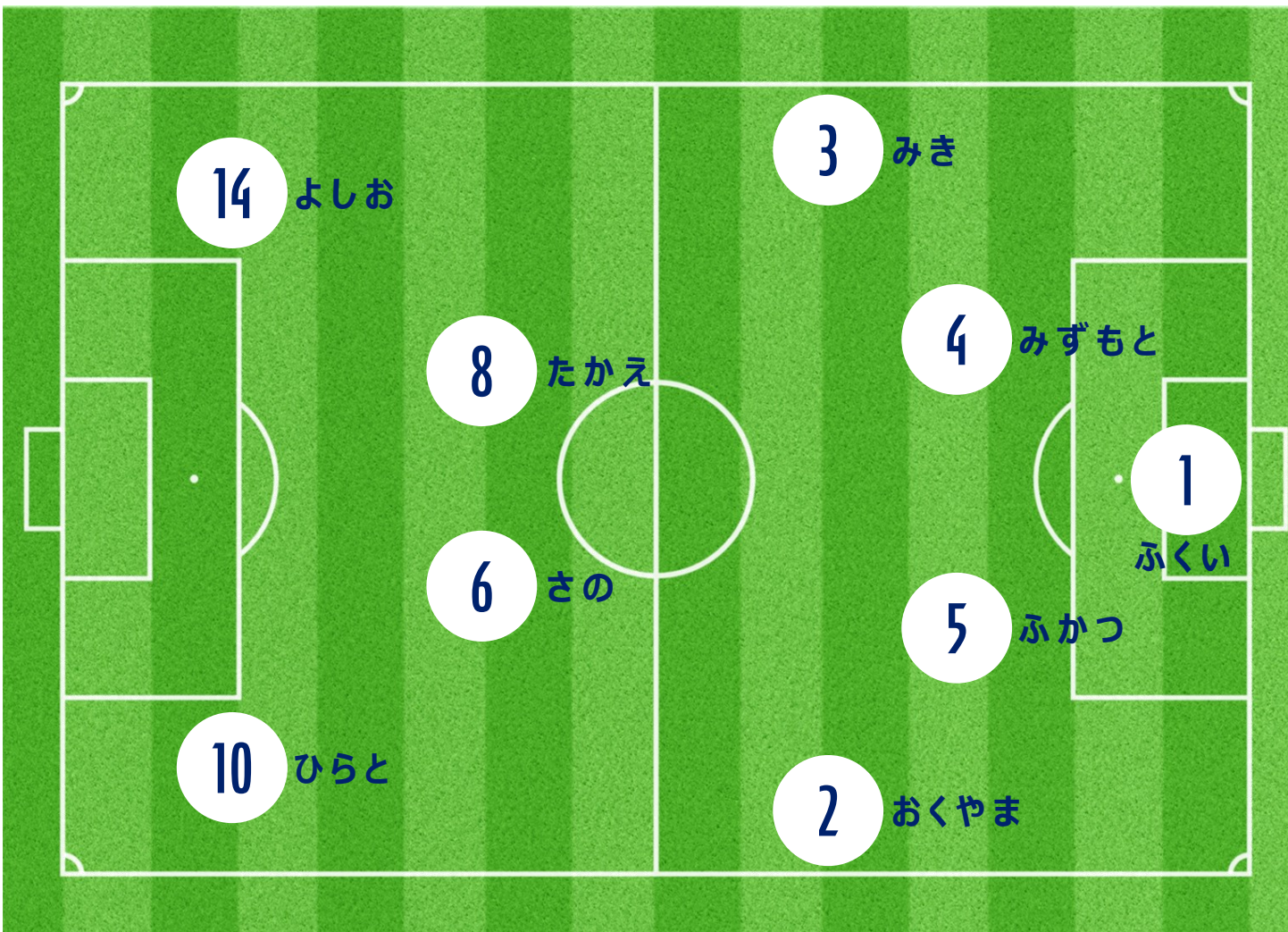
$$\begin{array}{c}
 \boxed{\begin{array}{c} \text{3 soccer balls} \end{array}} + \boxed{\phantom{\text{3 soccer balls}}} = \boxed{\begin{array}{c} \text{3 soccer balls} \end{array}} \\
 \boxed{3} + \boxed{0} = \boxed{3}
 \end{array}$$

えを みても わかるように 0を たしても もとのかずから かわらないんだね。

おなじように 0に なにをたしても かずが かわらないことを たしかめてみよう！

ふたりの せばんごうを あわせて 9 になるように するには  
どのせんしゅたちを あわせたら いいでしょうか。

こたえは3つあるよ！



①

②

③

