



個別指導塾フォルテ

×



さんすう

こたえあわせ

1ねんせい

だい18せつ

たしざんとひきざん

せんしゅが ピッチ（ぴっち）に 入じょうするために 一れつに ならんでいます。
しきをかいて 下のもんだいに こたえましょう。



アーリアせんしゅは まえから 6 ばん目にいます。
アーリアせんしゅのうしろには 5 人のせんしゅがいます。 みんなで なん人いるでしょう。

しき

$$6 + 5 = 11$$

こたえ

11人

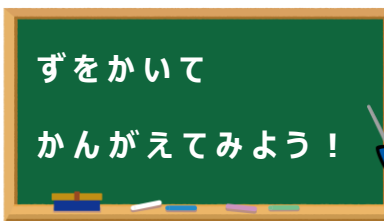
おくやませんしゅの うしろには 7 人のせんしゅが います。
おくやませんしゅは まえから なんばん目でしょう。

しき

$$11 - 7 = 4$$

こたえ

4ばん目



たくやくんは ゼルビーえんぴつと ゼルじゅくのクルトガを かいました。
しきをかいて 下のもんだいに こたえましょう。

1

たくやくんは ゼルビーえんぴつを10本 かうよていでしたが ゼルビーえんぴつが やすくなっていたので
よていよりも 6本おおくかいました。
しゅうくんも えんぴつを ほしがっていたので たくやくんがかった えんぴつのうち 4本を
しゅうくんに あげました。 たくやくんは えんぴつを なん本もっているでしょう。



しき

$10 + 6 = 16$...たくやくんが かった ゼルビーえんぴつのかず
 $16 - 4 = 12$...しゅうくんに あげたあとの ゼルビーえんぴつのかず

こたえ

12本

2

たくやくんは 1 のもんだいでかった えんぴつのかずよりも
8本すくないかずの ゼルじゅくのクルトガを かいました。
たくやくんは クルトガを なん本かったでしょう。



しき

$16 - 8 = 8$

こたえ

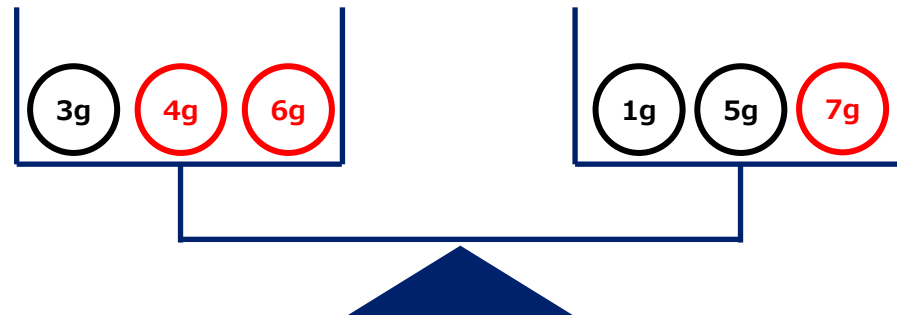
8本

[コラム] パズル : てんびんのつりあい

① 1g (ぐらむ)、3g、4g、5g、6g、7g のおもさのボールが ひとつずつあります。

1g、3g、5gのボールは もうのっているので
左と右のおもさがおなじになるように のこりの
4g、6g、7gのボールを かいてみましょう。

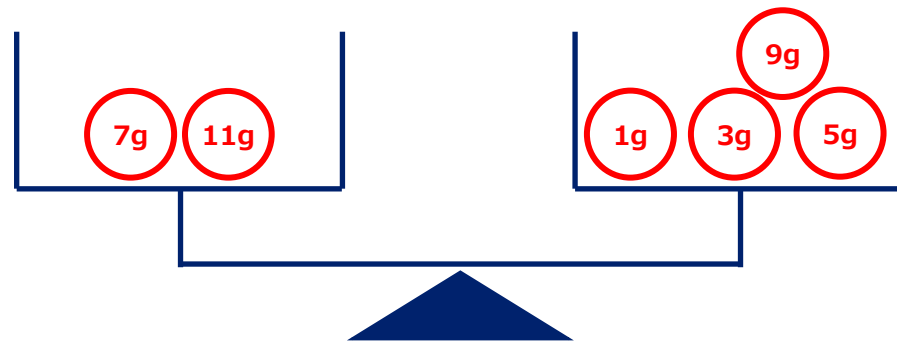
①



②

② 1g、3g、5g、7g、9g、11g のおもさのボールが ひとつずつあります。

左と右のおもさがおなじになるように
じぶんで ボールを かいてみましょう。



左右の ボールのかずが
おなじとはかぎらないよ



ゼルビアのせんしゅたちが 2れつにならんで しゅうごうしゃしんを とろうとしています。
まえのれつには 6人のせんしゅがいます。
うしろのれつには 5人のせんしゅがいます。
しきをかいて 下のもんだいに こたえましょう。



せんしゅはみんなで なん人いるでしょう。

しき

$$5 + 6 = 11$$

こたえ

11人

まえのれつには さのせんしゅがいます。さのせんしゅの左には 2人のせんしゅがうつっています。
さのせんしゅの右には なん人のせんしゅが うつっているでしょう。

しき

$$6 - 2 - 1 = 3$$

こたえ

3人