



個別指導塾フォルテ

×



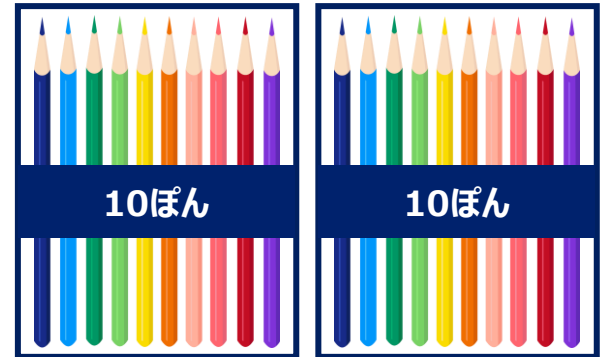

さんすう

1ねんせい

だい8せつ

10よりおおきいかず

えんぴつが なんぼん あるか こたえましょう。



 10と3で  
「じゅうさん」と言うよ！

13ぼん

①



②

こたえ) ① 20ぼん、② 27ぼん

A～Dに あてはまる すうじを こたえましょう

A

10  
TAIKI

11  
DUDU

□

13  
OKADA

14  
KAINA

15  
MORISHITA

□

17  
SHOHEI

B

C

21  
TALLA

□

23  
RYUSUKE

24  
YOSHITAKA

□

26  
TAKUMI

27  
MISAKI

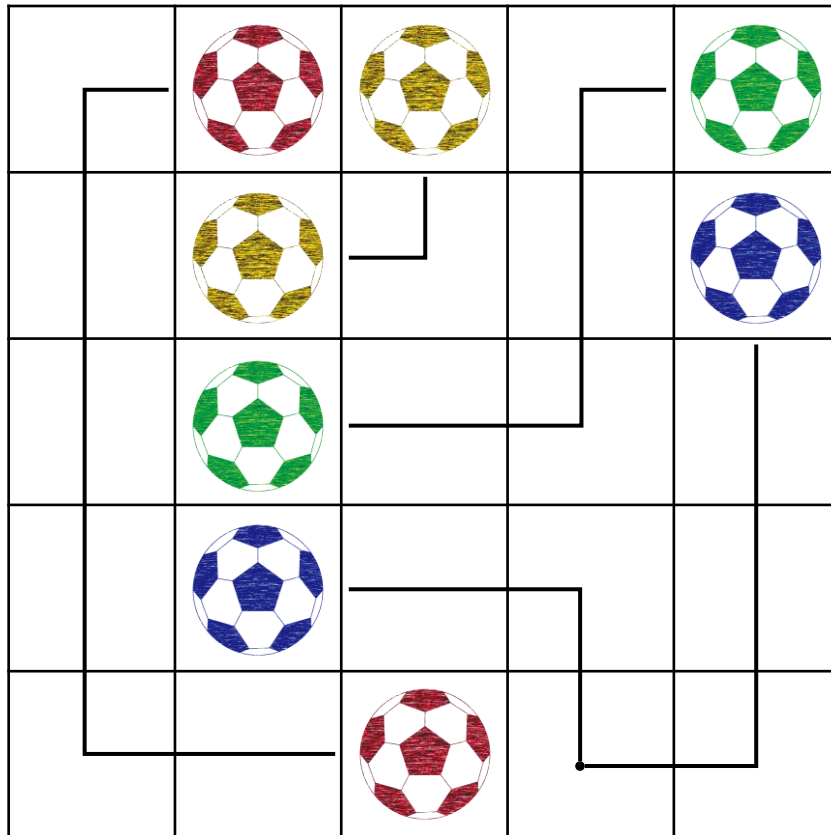
28  
SHU

D

れい

ルールをまもってボールをせんでつないでみよう！

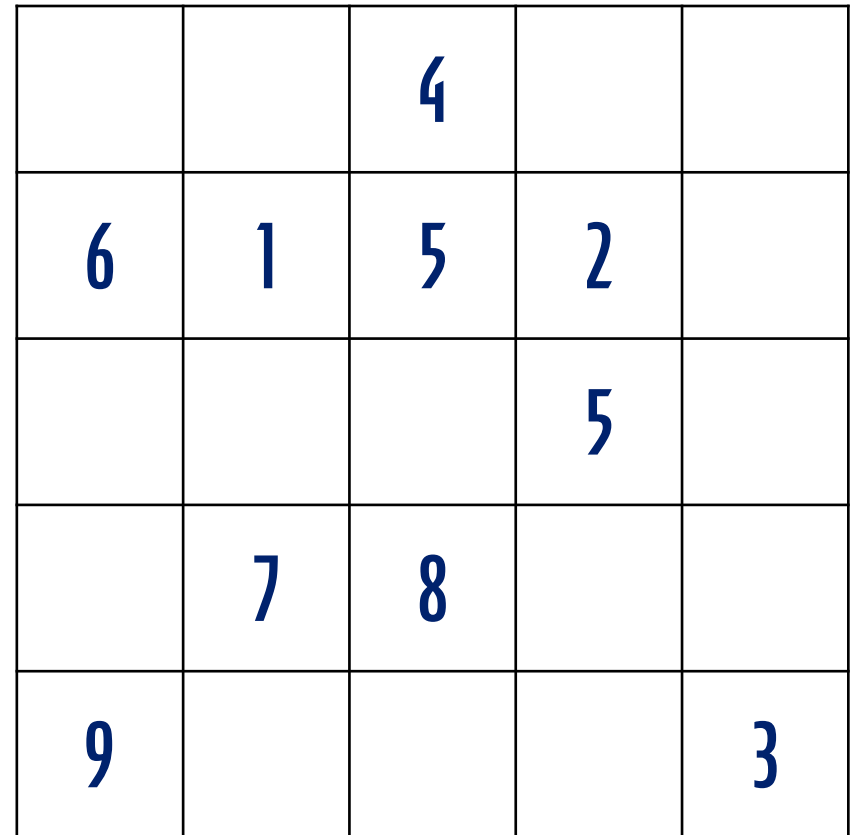
- ① おなじ いろの サッカーボールを つなぐ
- ② おなじ マスを 2 かい とおらない
- ③ すべての マスを とおる



もんだい

ルールをまもって「すうじ」をせんでつないでみよう！

- ① つないだ すうじの ごうけいを 10にする
- ② おなじ マスを 2 かい とおらない
- ③ すべての マスを とおる



えをみて、もんだいに こたえましょう

① いちばん 大きい かずは いくつですか

こたえ

② いちばん 小さい かずは いくつですか

こたえ



③ 15より 3大きい かずは いくつですか。

こたえ

④ 17より 4小さい かずは いくつですか

こたえ



つぎの 計算を やってみよう！

①  $10 + 5$

②  $10 + 8$

③  $14 - 4$

④  $17 - 7$

⑤  $12 + 2$

⑥  $11 + 8$

⑦  $15 - 3$

⑧  $19 - 6$



けいさんは サッカーの “きそれんしゅう” といっしょ！  
毎日 コツコツ がんばろう