



個別指導塾フォルテ

×



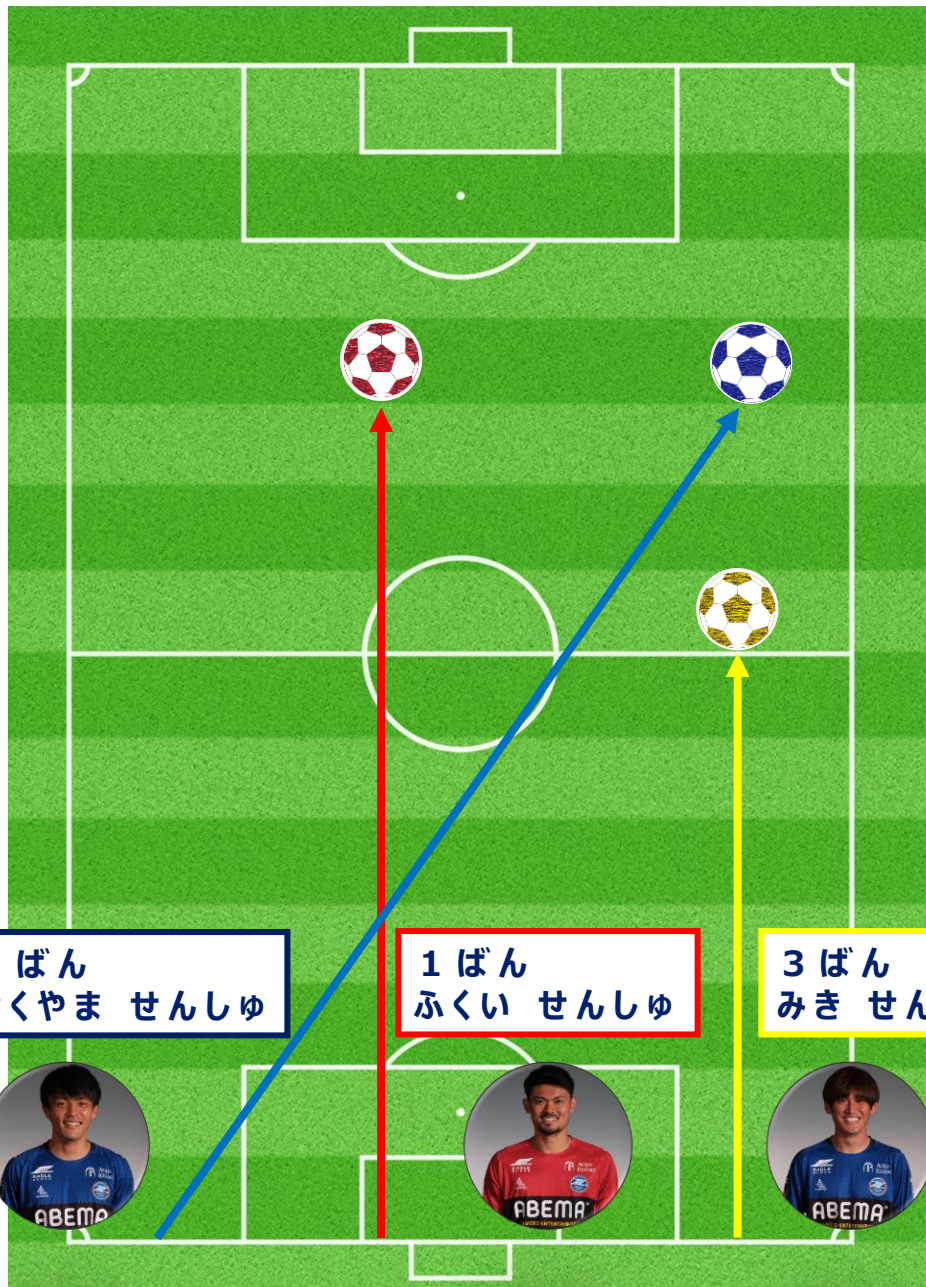
さんすう

こたえあわせ

1ねんせい

だい7せつ

どちらがながいか



ボールを とばしたながさが ながいじゅんに
せんしゅの なまえを こたえましょう。

1 ばん



おくやま

せんしゅ

2 ばん



ふくい

せんしゅ

3 ばん



みき

せんしゅ

はじめをそろえても、
ながさをくらべることができるね！



ながさを しらべましょう。

① A、B、C、Dのながさは それぞれ なんマスぶん ですか？

A

6

B

4

C

5

D

3



② Aと Bでは、 どちらが なんマスぶん ながいですか。(しきもかんがえてみよう！)

しき

$$6 - 4 = 2$$

こたえ

2

A											D	
												
C	