



個別指導塾フォルテ

×



さんすう

1ねんせい

だい7せつ

どちらがながいか

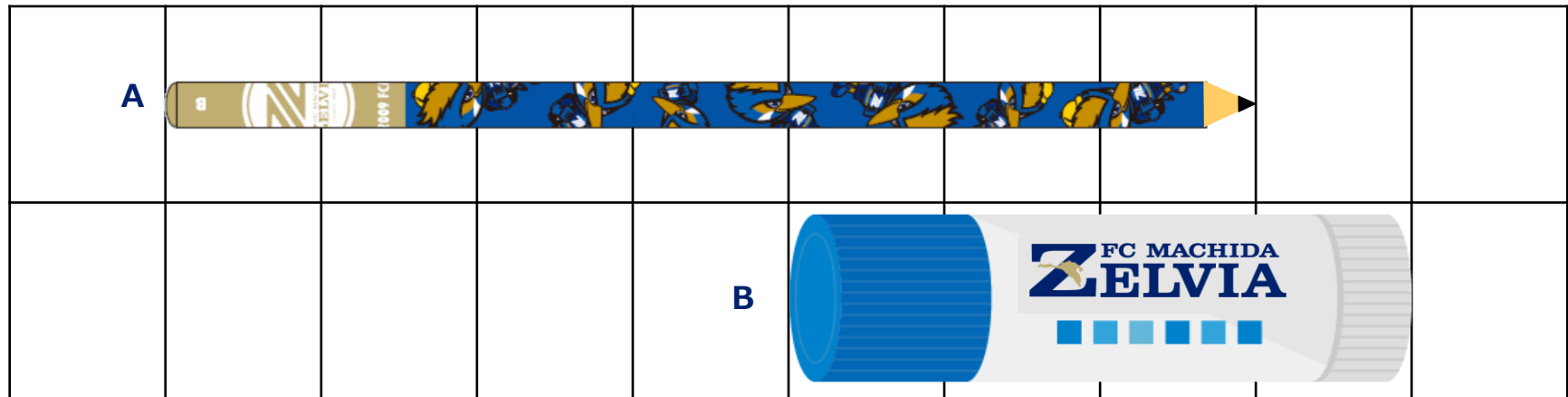
A、Bの どちらが ながいでしょうか。

次の をうめながら、かんがえてみましょう。

① Aのながさは マスぶん です。

② Bのながさは マスぶん です。

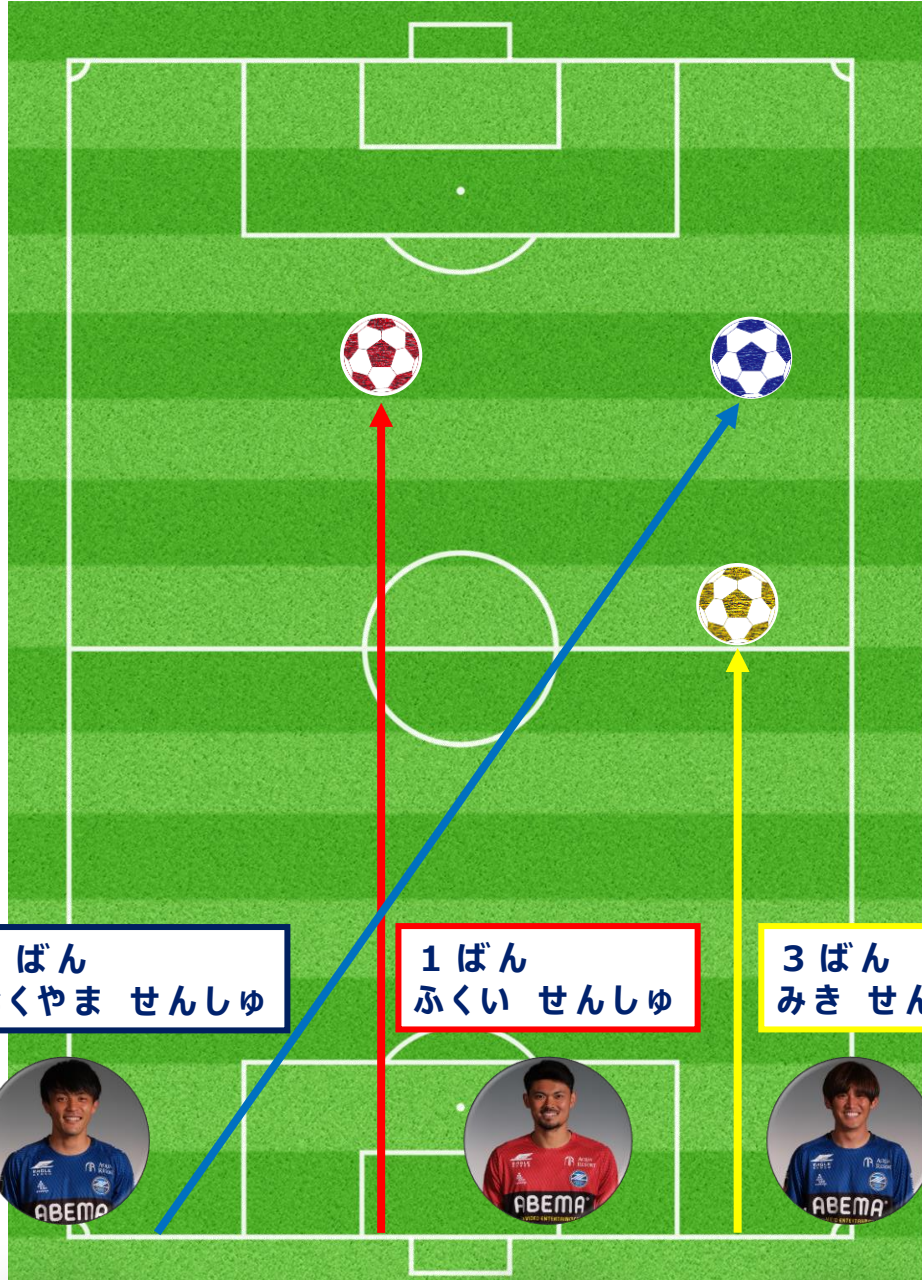
③ だから、 のほうが ながいです。



ながさを くらべるときは、
なんマスぶんかを かぞえればいいね！

こたえ

① 7 ② 4 ③ A



ボールを とばしたながさが ながいじゆんに
せんしゅの なまえを こたえましょう。

1ばん

せんしゅ

2ばん

せんしゅ

3ばん

せんしゅ

はじめをそろえても、
ながさをくらべることができるね！



【コラム】どちらがながい？

右の ふたつの ずを みてみよう！

上のずの 赤いせんと 下のずの 青いせん

どちらがながいかな？

じつは、この2つのせんは おなじ ながさなんだ。

「さくし」と いわれるもので、

じっさいとは ちがうように 見えることなんだ。

ちなみに、こんかい しょうかいした 「さくし」は、「ミューラーリヤーさくし」と いわれるものだよ。

きょうみを もった子は ほかに も どんなさくしがあるのか しらべてみよう！



ながさを しらべましょう。

① A、B、C、Dのながさは それぞれ なんマスぶん ですか？

A

B



C

D

② Aと Bでは、 どちらが なんマスぶん ながいですか。（しきもかんがえてみよう！）

しき

こたえ

A											D	
												
C	