


なんまい

かぞ


かず

かんせい

ゼルビーのカードが何枚あるか数えて、その数の「○」をかいてグラフを完成させよう！



ゼルビーカードのグラフ



けいさんほうほう いっしょ かくにん
面積の計算方法を一緒に確認しよう！

ちょうほうけい
長方形

めんせき
たて × よこ = 長方形の面積

たて : 3 m



よこ : 8 m


$$3\text{ m} \times 8\text{ m} = 24\text{ m}^2$$



えん
円

はんけい
半径 × 半径 × 3.14 = 円の面積

半径 : 5 m



$$5\text{ m} \times 5\text{ m} \times 3.14 = 78.5\text{ m}^2$$

1 問目 (もんめ)

フィールドのなかの面積は、
いくつでしょうか？

2 問目

センターサークルの面積は、どれで
しょうすてんだい い き す
しょうか？ (小数点第2位で切り捨て)

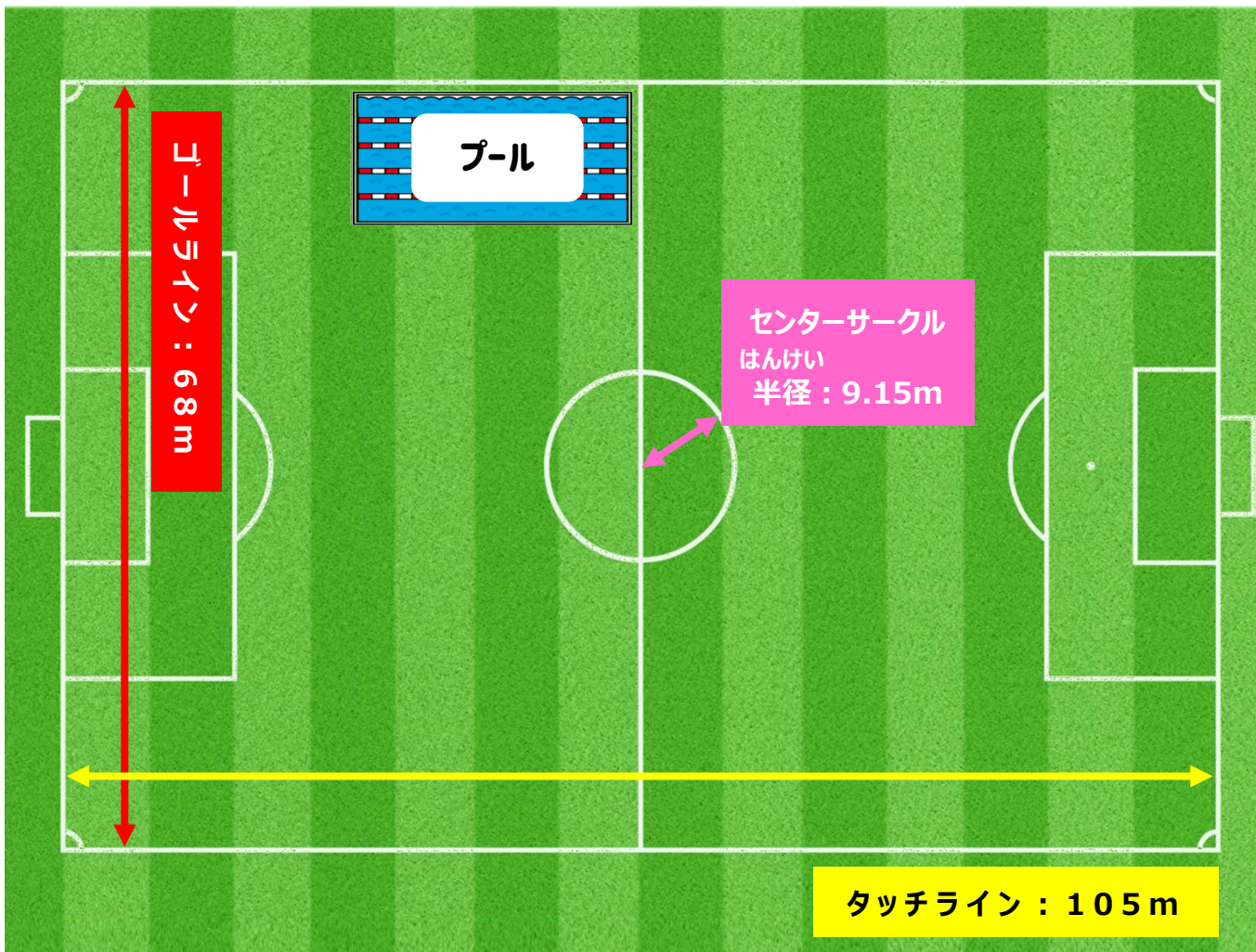
- ① 18.3 m² ② 83.7 m²
- ③ 86.8 m² ④ 262.8 m²

3 問目

なが はば
長さ25m、幅12.5mのプールがあ
ります。面積は、いくつでしょうか？

4 問目

フィールドのなかに、(3問目の)
プールはいくつ入るでしょうか？



1	2	3	4
m ²	m ²	m ²	