



個別指導塾フォルテ

×



算数

答え合わせ


2年生

だい13せつ


時こくと時間

ゼルビーのとある一日です。

1



8時 00分



8時 35分




とう校にかかった時間

35分

2



10時 10分



11時 00分

じゅぎょうをうけた時間

50分



ゼルビーのとある一日の記ろくです。
それぞれ何分間かかったか答えましょう。



1時間は60分だよ!

1

5時10分から6時20分までべん強しました。

しき

$$60 + 10 = 70$$

答え

70分

2

8時5分から10時までじゅぎょうをうけました。

しき

$$60 + 55 = 115$$

答え

115分

3

1時52分から4時までサッカーをしました。

しき

$$60 + 60 + 8 = 128$$

答え

128分

今の時ごきは、9時30分。おく山せん手のとある一日の記ろくです。

1

1時間後にサッカーをします。サッカーをはじめるのは何時何分ですか。

しき

$$9 + 1 = 10$$

答え

10時30分

2

2時間30分前におきました。おきたのは何時何分ですか。

しき

$$9 - 2 = 7$$

$$30 - 30 = 0$$

答え

7時

時ごきは、時のながれの中の
「ある1点」を
あらわしたものだよ！
「時間」は、時のながれの中の
「ある1点からべつの
1点までの長さ」
をあらわしたものだよ！

