



個別指導塾フォルテ

×



# 算数

## 2年生

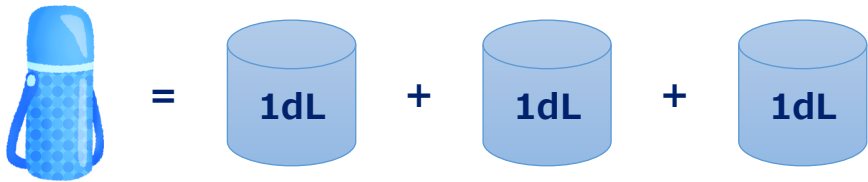
だい12せつ

水のかさ



かさのたんいL, dL, mLについて知ろう!

1 山口せん手が水とうをもっています。  
水のかさは何dLですか。



1 dLは水のかさ1つ分の  
たんいだよ!

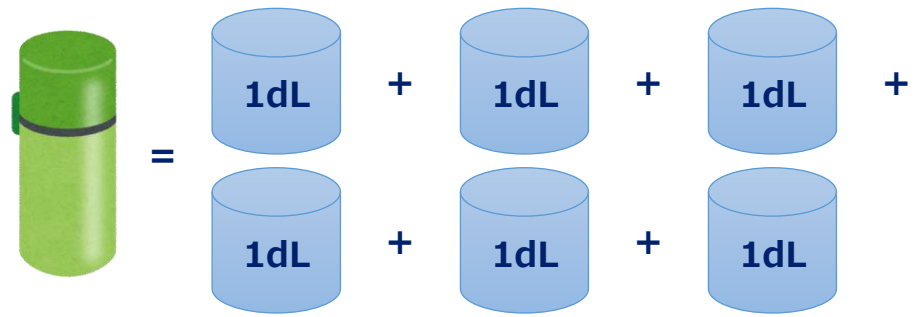
しき



答え

dL

2 つぎの日、べつの水とうをもってきました。  
この時、水のかさは何dLですか。



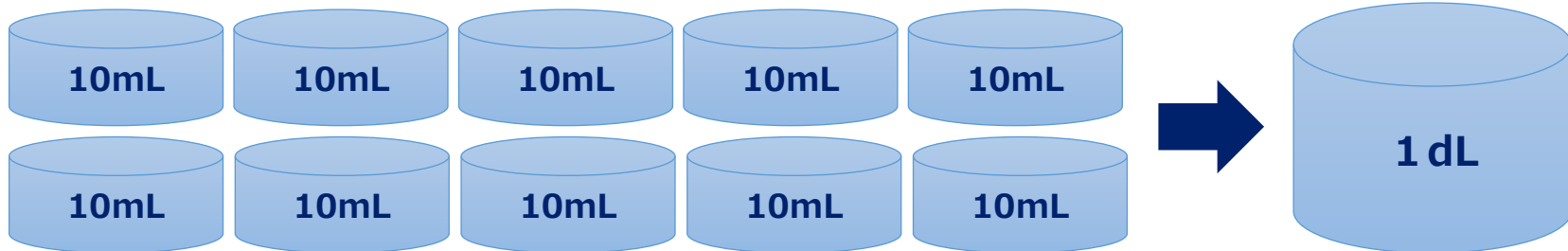
しき

答え

dL

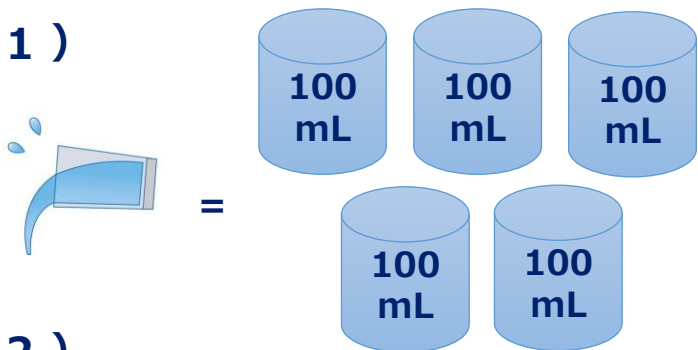


1 dL = 100 mL だよ!



ゼルビーくんが水をこぼしてしまいました。こぼした水のかさは何dLですか？

(1)

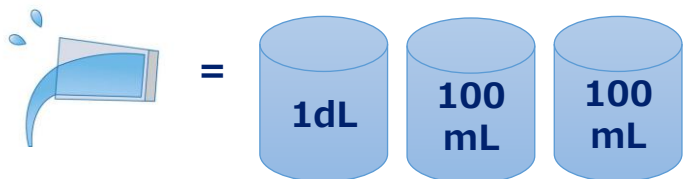


しき

答え

dL

(2)



しき

答え

dL

① ○に合う数を考えましょう。


1, 3, 6, 10, 15, ○, 28, 36, ...




1



3



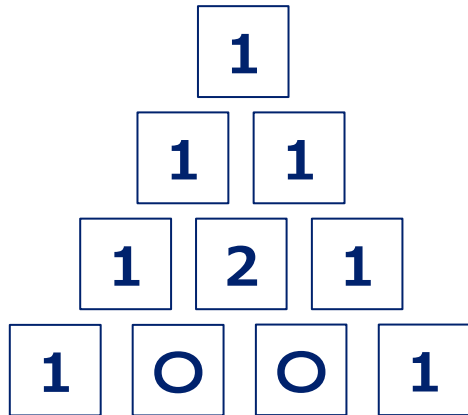
6



10

答え

② ○に合う数を考えましょう。



答え

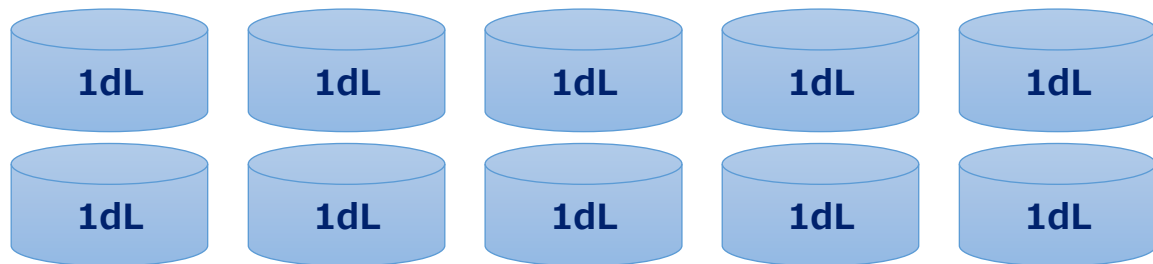


7

ドウドウ

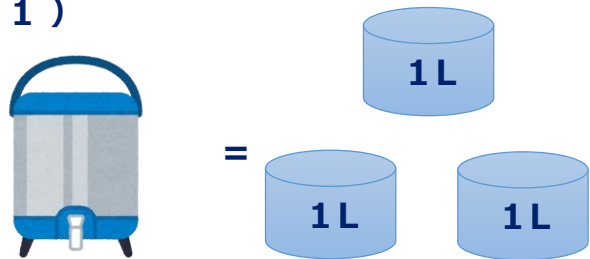


1 L = 10 dL だよ!



ゼルビーくんが大きな水とうをもっていきます。水のかさはそれぞれいくつですか？

(1)

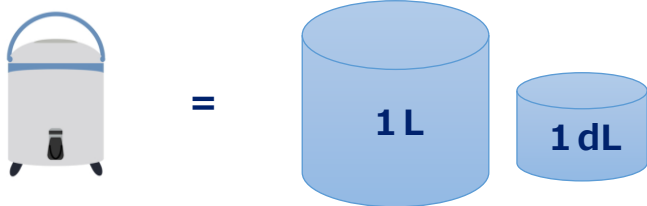


しき

答え

L

(2)



しき

答え

dL