



個別指導塾フォルテ

×



算数

答え合わせ

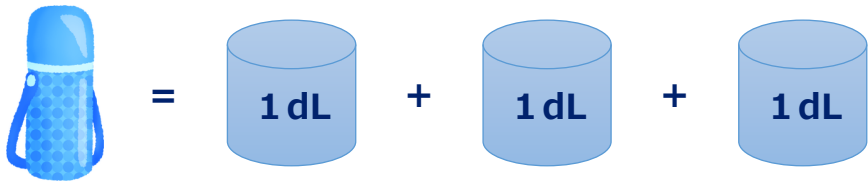
2年生

だい12せつ

水のかさ

1

山口せん手が水とうをもっています。
水のかさは何dLですか。



1 dLは水のかさ1つ分の
たんいだよ!

しき

$$1 + 1 + 1 = 3$$



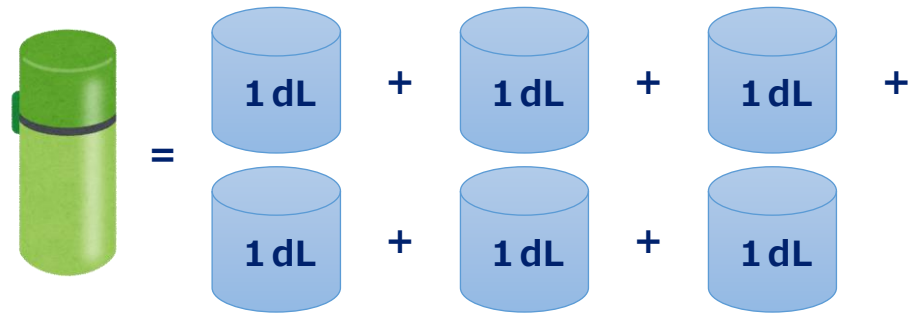
答え

3

dL

2

つぎの日、べつの水とうをもってきました。
この時、水のかさは何dLですか。



しき

$$1 + 1 + 1 + 1 + 1 + 1 = 6$$

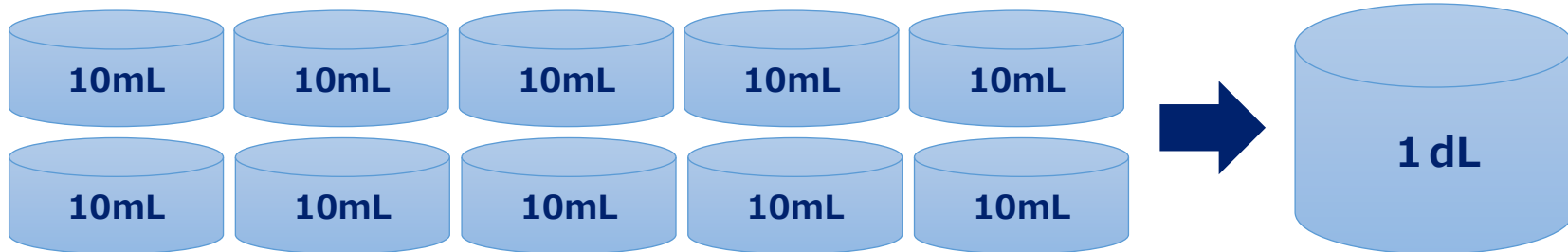
答え

6

dL

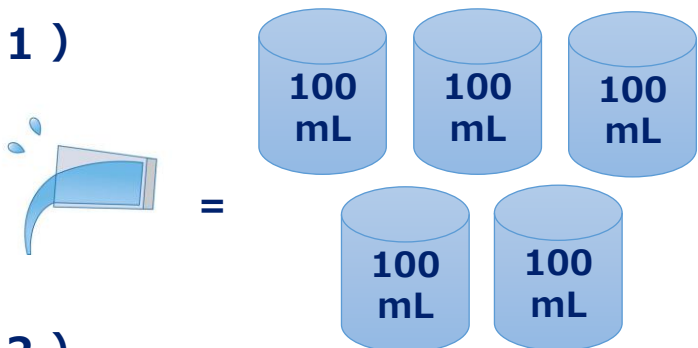


1 dL = 100 mL だよ!



ゼルビーくんが水をこぼしてしまいました。こぼした水のかさは何dLですか？

(1)



しき

$$100\text{ mL} = 1\text{ dL}$$

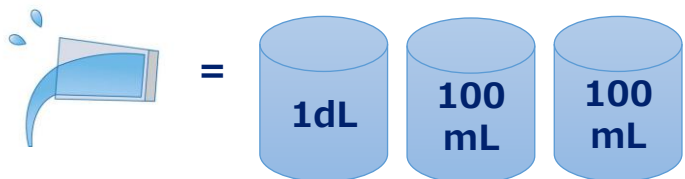
$$1 + 1 + 1 + 1 + 1 = 5$$

答え

5

dL

(2)



しき

$$100\text{ mL} = 1\text{ dL}$$

$$1 + 1 + 1 = 3$$

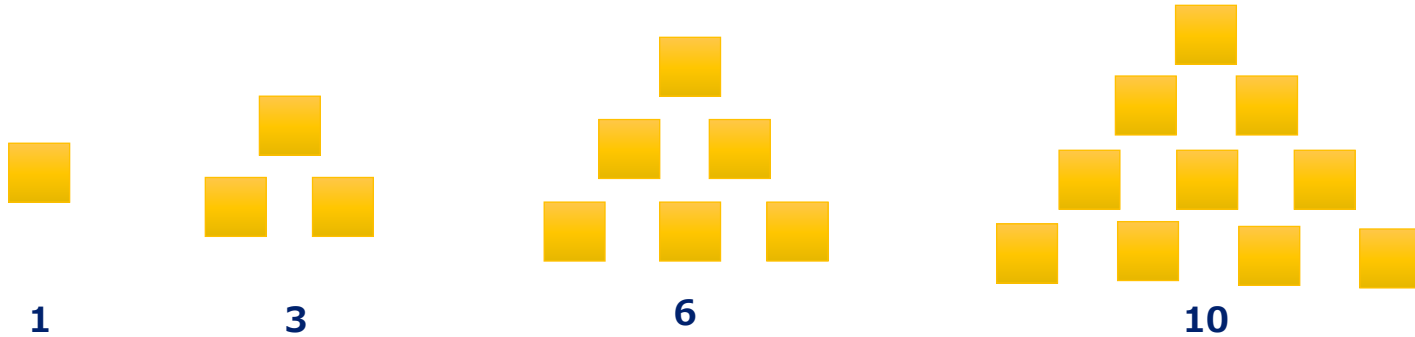
答え

3

dL

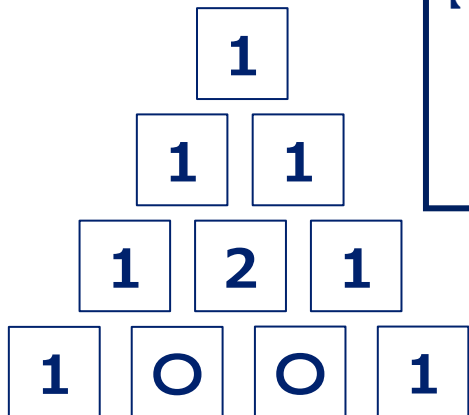
① ○に合う数を考えましょう。

1, 3, 6, 10, 15, ○, 28, 36, ...



答え
21

② ○に合う数を考えましょう。



【②解説】 1、2 だん目 1
3 だん目 $1 + 1 = 2$
4 だん目 $1 + 2 = 3$
なので、○には 3 が入るよ



答え
3

【①解説】

$1 + 2 = 3$ 、 $3 + 3 = 6$

$6 + 4 = 10$ 、 $10 + 5 = 15$

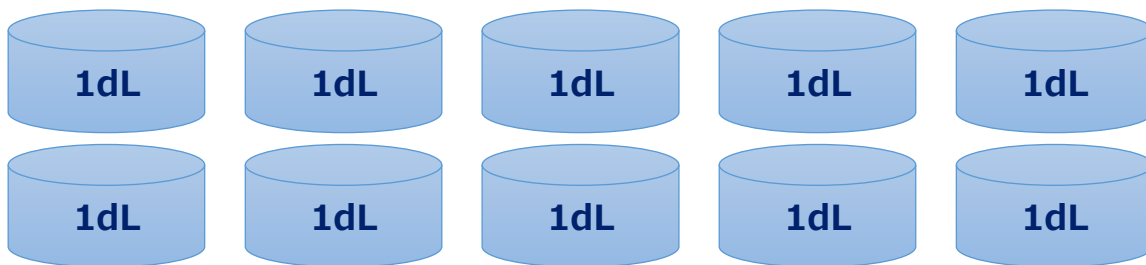
$15 + 6 = 21$

なので、○には 21 が入るよ



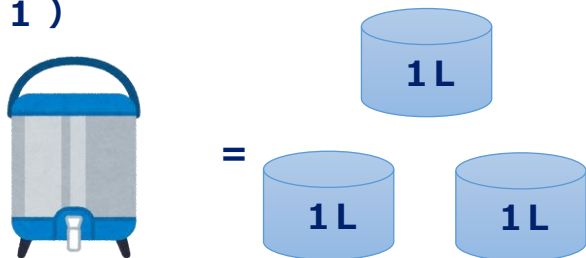


1 L = 10 dL だよ!



ゼルビーくんが大きな水とうをもっていきます。水のかさはそれぞれいくつですか？

(1)




しき

$$1 + 1 + 1 = 3$$

答え

3 L

(2)



しき

$$10 + 1 = 11$$

答え

11 dL