



個別指導塾フォルテ

×



算数

答え合わせ

2年生

だい11せつ

長さ

ゼルビーえんぴつの長さをしらべましょう。

1



長さは 1 cm が
いくつあるかで
あらわすことができるよ



答え

1 cm が **5** こ分で **5** cm

2



答え

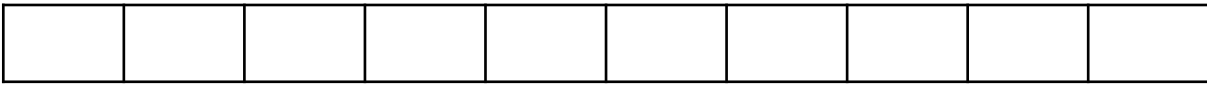
1 cm が **8** こ分で **8** cm

mmはcmの十分の一の長さです。(1cm = 10mm)

1 mm



1 cm



mmについて知ろう!

1 ゼルビア消しゴムの長さをしらべましょう。



答え
3 cm **5** mm

2 () のたんいに書きなおしましょう。

(1) 4 cm 3 mm (mm)

(2) 50 mm (cm)

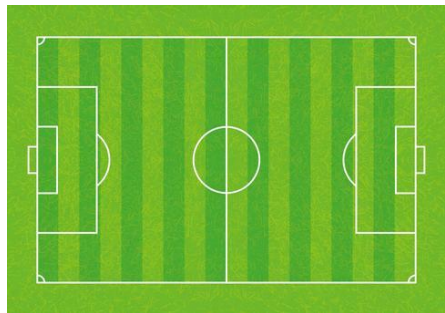
答え. **43** mm

答え. **5** cm

ちょっと休けい

1

サッカーのグラウンドがよこ100mです。1kmはグラウンド何こ分ですか。①～③の中からえらびましょう。



- ① 1こ
- ② 10こ
- ③ 100こ




1000m = 1kmというよ。
(1キロメートルとよぶよ)

答え

②

2

月は何kmあるでしょうか。①～③の中からえらびましょう。



- ① 15km
- ② 500km
- ③ 3500km

答え

③

【mについて知ろう!】

100cm = 1mです。
1cmが100こ分あると、1mになるよ。



1 長さのたんいを見てみましょう。

(1) $5\text{m} = 500\text{cm}$

(2) $150\text{cm} = 1\text{m}50\text{cm}$

(3) $1\text{m} = 100\text{cm}$

$= 1000\text{mm}$

2 F C 町田ゼルビアのお長せん手とさとうせん手のしん長をはかりました。大きいのはどちらですか。

お長せん手

さとうせん手



お長 せん手 1m71cm

さとう せん手 1m78cm

答え

さとうせん手