



個別指導塾フォルテ

×



# 算数

## 1ねんせい

だい12せつ

たしざん

【れい】 $9 + 5$

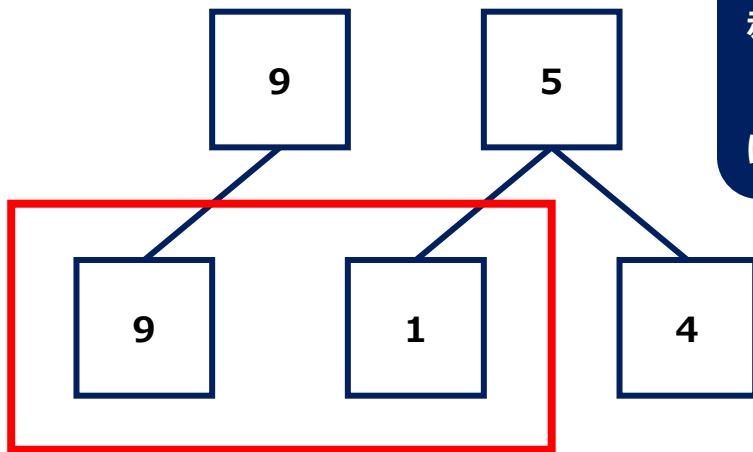
けいさんの しかたを かんがえましょう。

- ① 9は あと 1で 10。
- ② 5を 1と4に わける。
- ③ 9に 1をたして 10。
- ④ 10と 4で 14。

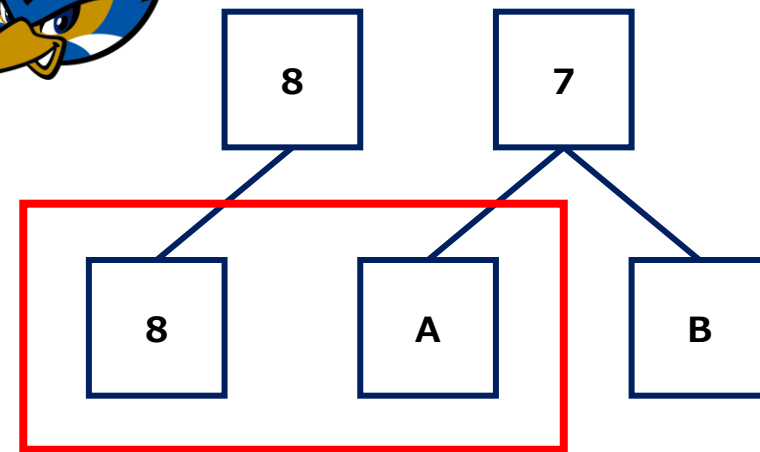
【れんしゅう】 $8 + 7$

けいさんの しかたを かんがえましょう。

- ① 8は あと Aで 10。
- ② 7を AとBに わける。
- ③ 8に Aをたして 10。
- ④ 10と Bで C。



赤いわくが  
10になるよう  
にかんがえてみよう！



せんしゆの せばんごうを あわせたら 1 1 になるように せんでむすびましょう。



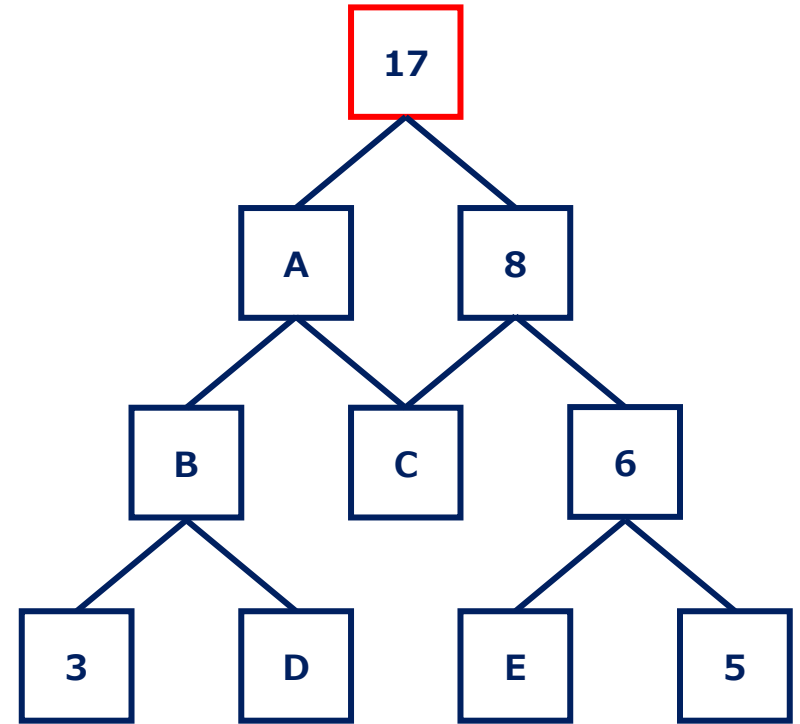
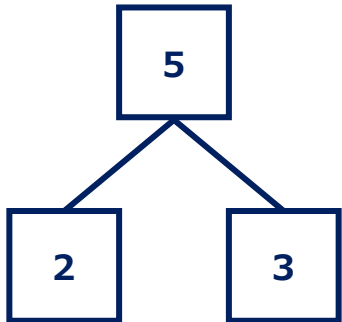
【コラム】 たしざんツリー

ルールをまもって みぎの たしざんツリーを かんせいさせよう！

【ルール】

- ① 9つの □には、  
1～9の すうじが それぞれ 1つずつ入ります。
- ② せんで つながっている 下の2つの □の かずを たすと、  
上の □の かずに なります。

(例)



むずかしいときは  
E からかんがえるといいよ！





しょうがくせいの サッカーの 大会では 8人せいが 広がっています。  
8人せいの サッカーでは、8人のせんしゅが どうじに しいに しゅつじょうし、  
6人の せんしゅが ベンチにいます。  
つぎのもんだいは、 8にんせいサッカー としてかんがえます。しきをかいて こたえを もとめましょう。

だい1  
しい

ゼルビーが かんとくの『FCゼルビー』が しいをします。  
こうたいせんしゅ6人のうち、4人が とちゅうから しいに しゅつじょうしました。  
『FCゼルビー』の せんしゅは あわせて何人 しいに しゅつじょうしましたか。

しき

こたえ

だい2  
しい

ゼルビーが かんとくの『FCゼルビー』が 2しいめを たたかいました。  
『FCゼルビー』は こうたいせんしゅ ぜんいんが とちゅうから しいに しゅつじょうしました。  
『FCゼルビー』の せんしゅは あわせて何人 しいに しゅつじょうしましたか。

しき

こたえ