



個別指導塾フォルテ

×



さんすう

こたえあわせ

1ねんせい

だい12せつ

たしざん

【れい】 $9 + 5$

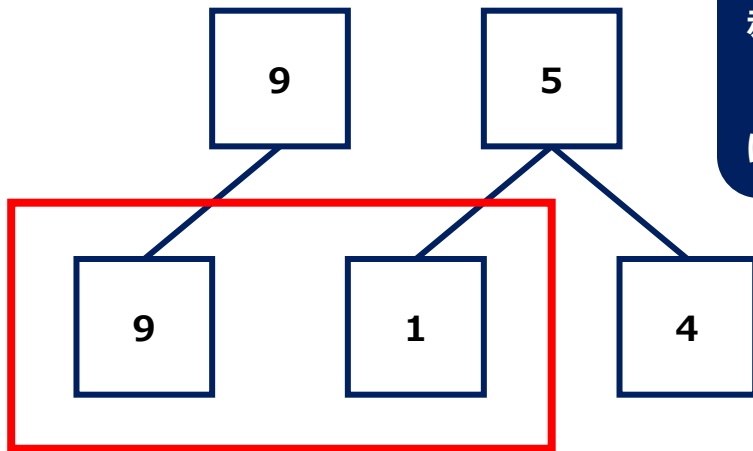
けいさんの しかたを かんがえましょう。

- ① 9は あと 1で 10。
- ② 5を 1と4に わける。
- ③ 9に 1をたして 10。
- ④ 10と 4で 14。

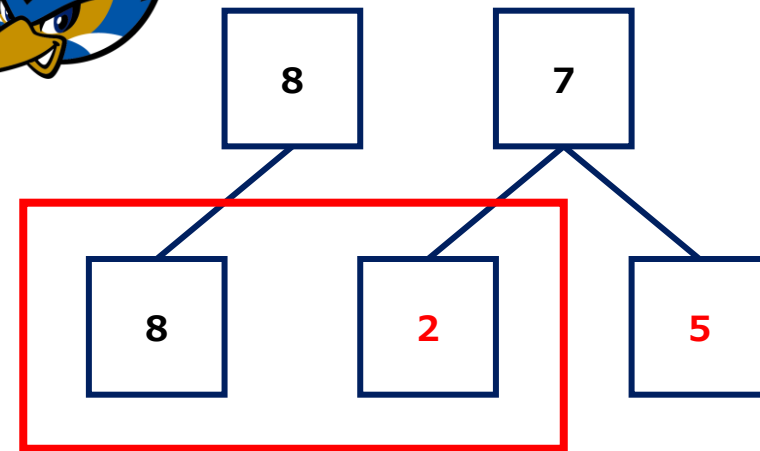
【れんしゅう】 $8 + 7$

けいさんの しかたを かんがえましょう。

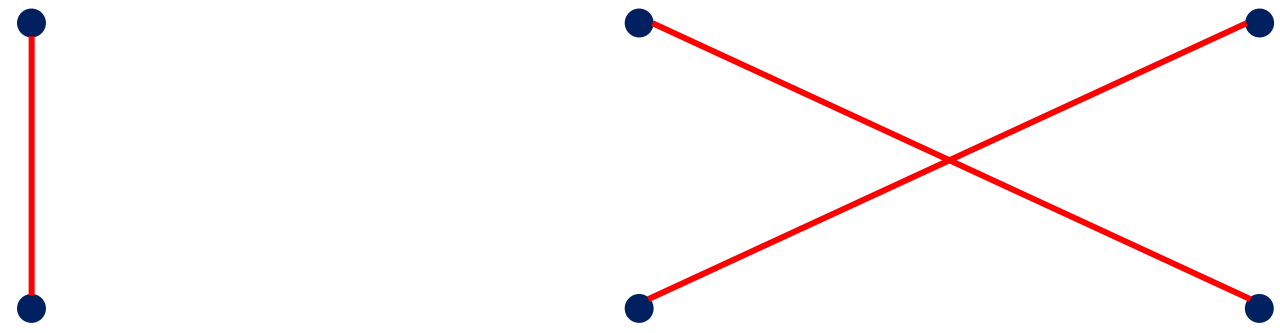
- ① 8は あと Aで 10。
- ② 7を AとBに わける。
- ③ 8に Aをたして 10。
- ④ 10と Bで C。



赤いわくが
 10になるよう
 にかんがえてみよう！



せんしゆの せばんごうを あわせたら 1 1 になるように せんでむすびましょう。



【コラム】 たしざんツリー

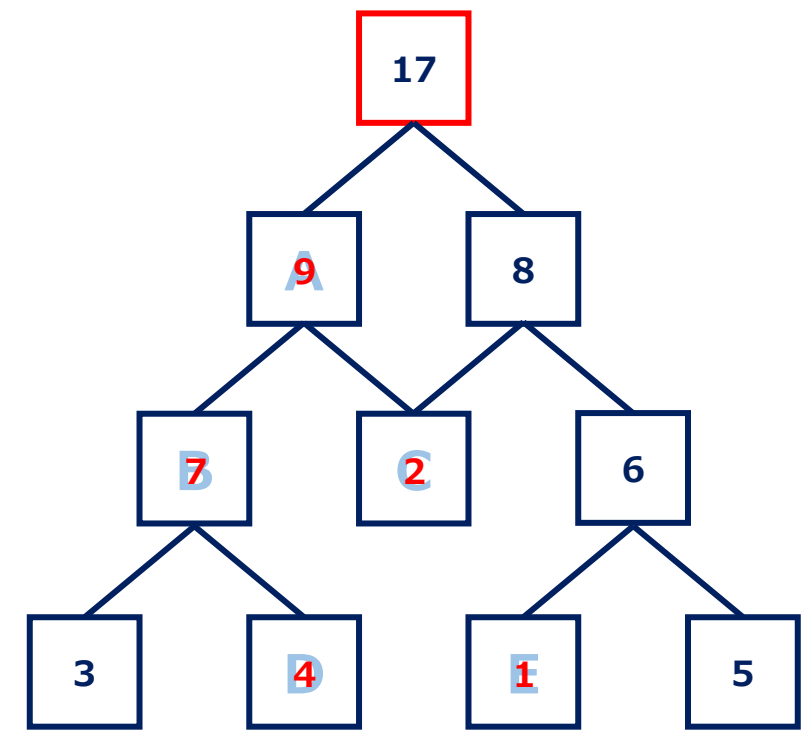
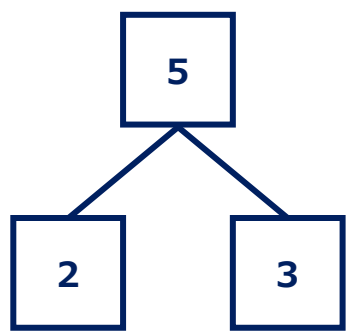
ルールをまもって みぎの たしざんツリーを かんせいさせよう！

【ルール】

①黒いわくの 9つの □には、
 1～9が それぞれ 1つずつ入ります。

②せんで つながっている 下の2つの □の かずを たすと、
 上の □の かずに なります。

(例)



むずかしいときは
 E からかんがえるといいよ！





しょうがくせいの サッカーの 大会では 8人せいが 広がっています。
8人せいの サッカーでは、8人のせんしゅが どうじに しゃいに しゅつじょうし、
6人の せんしゅが ベンチにいます。
つぎのもんだいは、 8にんせいサッカー としてかんがえます。しきをかいて こたえを もとめましょう。

だい1
しゃい

ゼルビーが かんとくの 『FCゼルビー』が しゃいをします。
こうたいせんしゅ6人のうち、 4人が とちゅうから しゃいに しゅつじょうしました。
『FCゼルビー』の せんしゅは あわせて何人 しゃいに しゅつじょうしましたか。

しき

$$8 + 4 = 12$$

こたえ

12人

だい2
しゃい

ゼルビーが かんとくの 『FCゼルビー』が 2しゃいめを たたかいました。
『FCゼルビー』は こうたいせんしゅ ぜんいんが とちゅうから しゃいに しゅつじょうしました。
『FCゼルビー』の せんしゅは あわせて何人 しゃいに しゅつじょうしましたか。

しき

$$8 + 6 = 14$$

こたえ

14人