



個別指導塾フォルテ

×



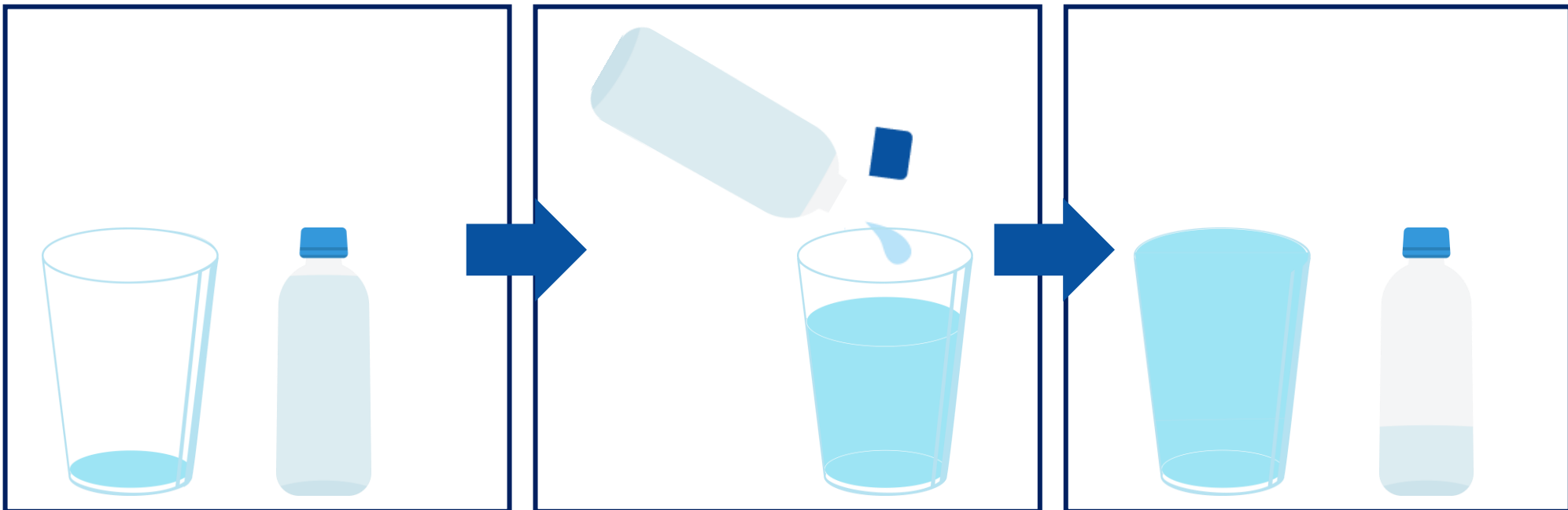
さんすう

1ねんせい

だい11せつ

どちらがおおいか

ペットボトルに 入っている 水を、 コップに うつしてみたら、下の ずの ように になりました。



コップと ペットボトルとでは、どちらが おおくの 水が 入るでしょうか。


こたえ

コップはいっぱいになってるね！



みきせんしゅと ゼルビーは それぞれ ちがう すいとうを もっていました。
 どちらの すいとうが おおく 入るか はなしています。
 おなじ おおきさの コップに うつしかえたら、下の ずの ように になりました。
 どちらの すいとうが おおく 入っていたでしょうか。

みきせんしゅ



スポーツドリンクが
はっていました！



ゼルビー



オレンジジュースが
はっていました！



こたえ

【コラム】「くればかた」を くべてみよう！

11回では、水のおおさをくべているけど、

ウォーミングアップとぜんはんでくればかたがちがうのに気づいたかな？

ウォーミングアップでは、コップとペットボトルに入っている水のおおさを “ちよくせつ”くべているね。

ぜんはんは、すいとうに入っている水のおおさを “べつのものにうつして”くべているね。

こうはんが、どういうくればかたをしているか、かんがえながら といてみよう！



すいとう、やかん、ポットに はいっている みずを おなじ おおきさの コップに いれました。

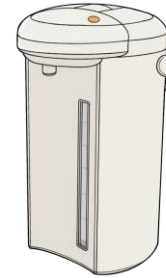
すいとう



やかん



ポット



① はいっている水が おおいじゆんに かきましょう。

1

2

3

② ポットは すいとうより コップ なんはい分 おおく水が 入っていますか。

こたえ