



個別指導塾フォルテ

×



さんすう

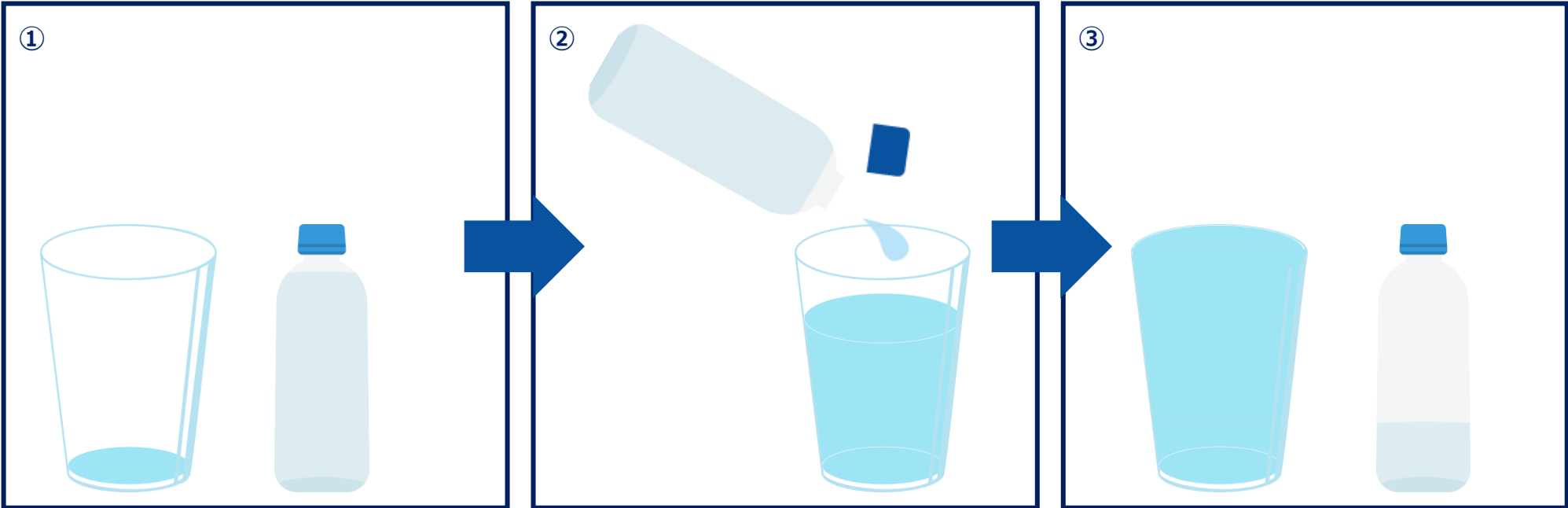
こたえあわせ

1ねんせい

だい11せつ

どちらがおおいか

ペットボトルに入っている水を、コップにうつしてみたら、下のようになります。



コップと ペットボトルとでは、どちらが おおくの 水が 入るでしょうか。

こたえ


ペットボトル

コップはいっぱいになってるね！




みきせんしゅと ゼルビーは それぞれ ちがう すいとうを もっていました。
どちらの すいとうが おおく 入るか はなしています。
おなじ おおきさの コップに うつしかえたら、下の ずの ように なりました。
どちらの すいとうが おおく 入っていたでしょうか。

みきせんしゅ



スポーツドリンクが
はっていました！



ゼルビー



オレンジジュースが
はっていました！



こたえ

ゼルビーのすいとう

すいとう、やかん、ポットに はいっている みずを おなじ おおきさの コップに いました。


すいとう



やかん



ポット



① はいっている水が おおいじゆんに かきましょう。

1

ポット

2

やかん

3

すいとう

② ポットは すいとうより コップ なんはいぶん おおく水が 入っていますか。

こたえ

$$7 - 2 = 5$$

こたえ

5はいぶん