



個別指導塾フォルテ

×



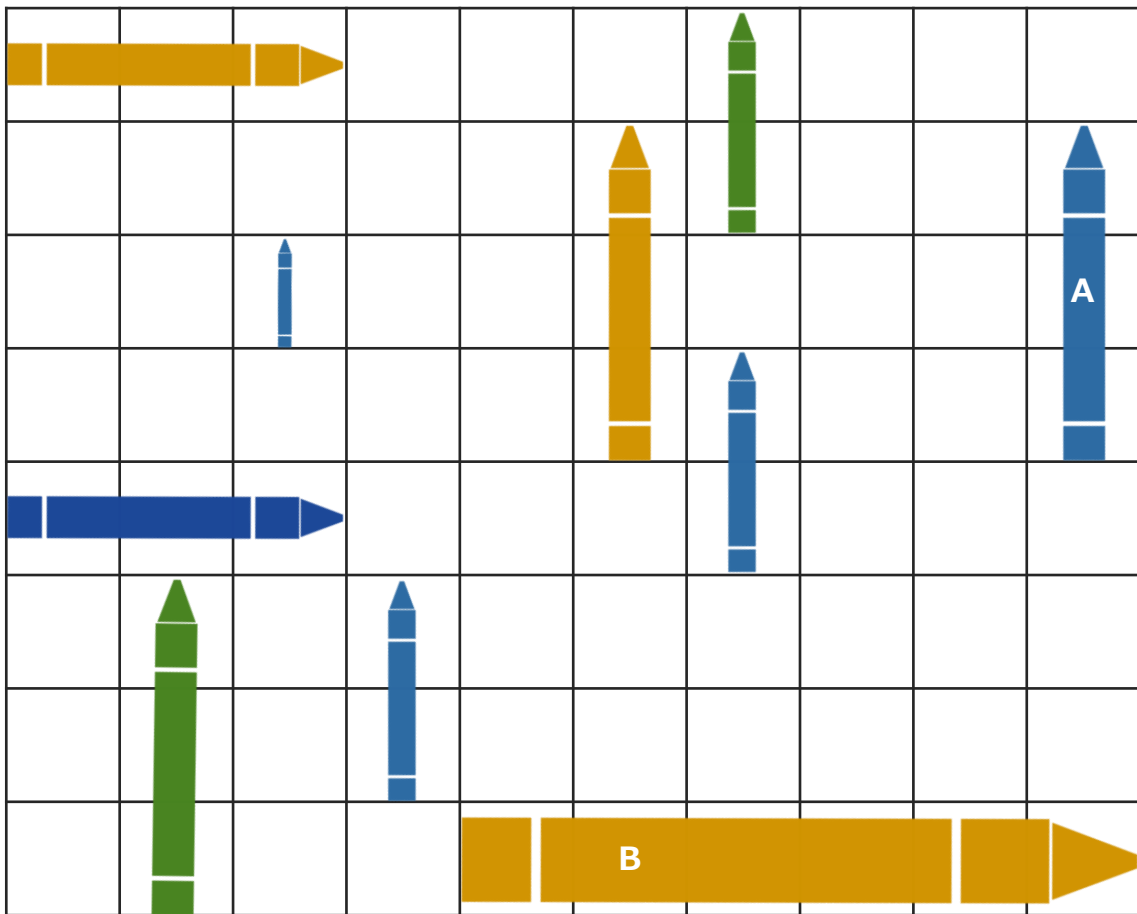
さんすう

こたえあわせ


1ねんせい

だい10せつ


6～9のふくしゅう




① きいろ、あお、みどりのペンが、
それぞれ なんぼん あるでしょうか。



きいろ



あお



みどり

② AとBのペンはどちらが、何マス分 ながいでしょうか。しきかいて、こたえをもとめましょう。

しき

$$6 - 3 = 3$$

こたえ

Bの方が3マス分ながい

サッカーのしあいでは、ひとつのチームに 11人のせんしゅがいます。
そのうち 1 人は ゴールキーパーで、 のこりはみんな フィールドプレーヤーです。

青チームでは、 こうげきをしているときでも、 ボールをとられたときにそなえて、
3 人のフィールドプレーヤーは こうげきにさんかしないことにしました。

青チームでは、 何人のせんしゅが こうげきに さんかしますか。

一つのしきを かいて こたえを もとめてみましょう。

しき

$$11 - 1 - 3 = 7$$

こたえ

7人

ゴールキーパーは 1人だけ
しあいに できるよ



7 + 5 を じゅんばんに かんがえてみよう！

A 7 は、あといくつで 10 になりますか。

(A) 答え

3

B A といくつをあわせたら、5 になりますか。

(B) 答え

2

C 「7 と A と B をあわせたもの」をあらわすしきをかき、
こたえをもとめましょう。

しき

$$7 + 3 + 2 = 12$$

(C) 答え

12

5 は A と B をあわせたものなので、
7 + 5 は「7 と A と B をあわせたもの」です。

