



個別指導塾フォルテ

×



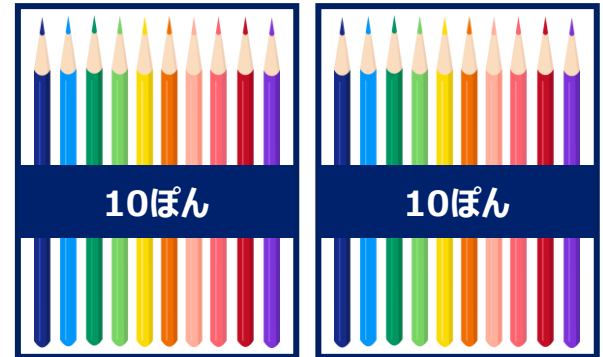

さんすう

1ねんせい

だい8せつ

10よりおおきいかず


えんぴつが なんぼん あるか こたえましょう。



 10と3で
「じゅうさん」と言うよ！

13ぼん

①




②


こたえ) ① 20ぼん、② 27ぼん

A～Dに あてはまる すうじを こたえましょう



A



B



C



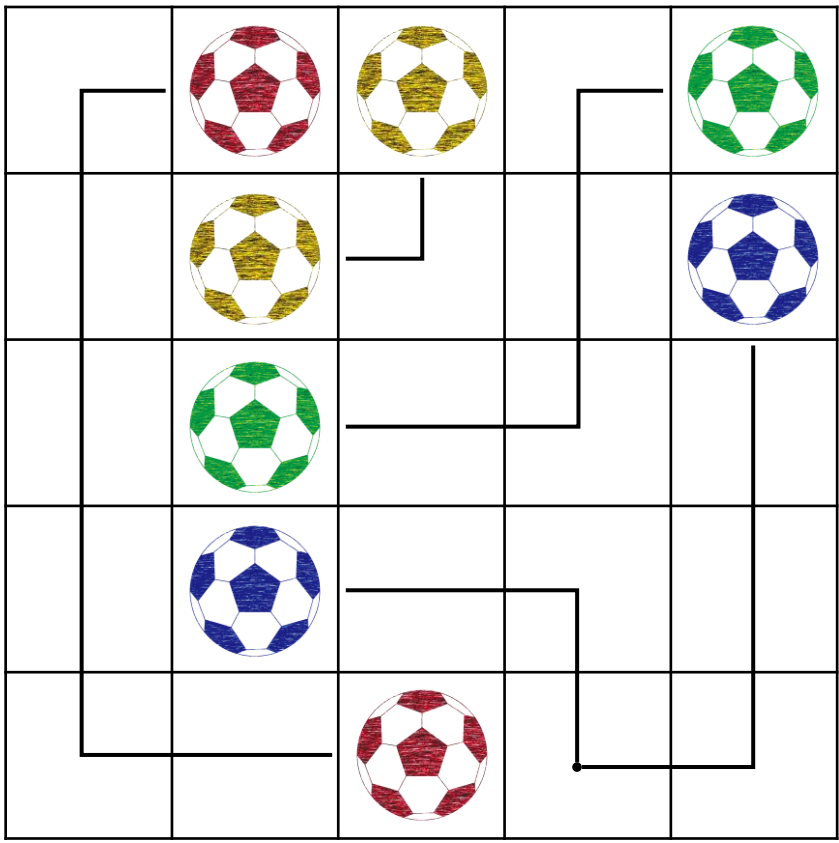
D



れい

ルールをまもってボールをせんでつないでみよう！

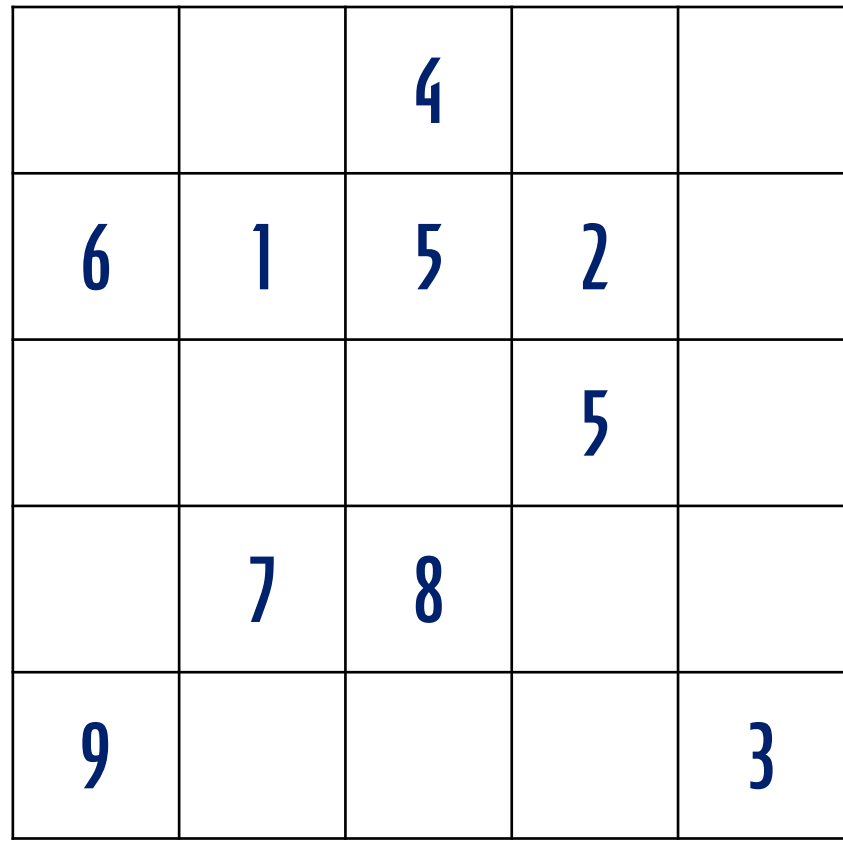
- ① おなじ いろの サッカーボールを つなぐ
- ② おなじ マスを 2かい とおらない
- ③ すべての マスを とおる



もんだい

ルールをまもって「すうじ」をせんでつないでみよう！

- ① つないだ すうじの ごうけいを 10にする
- ② おなじ マスを 2かい とおらない
- ③ すべての マスを とおる



えをみて、もんだいに こたえましょう

① いちばん 大きい かずは いくつですか

こたえ

② いちばん 小さい かずは いくつですか

こたえ

③ 15より 3大きい かずは いくつですか。

こたえ

④ 22より 3小さい かずは いくつですか

こたえ

16
ZENTO

20
DAIKI

19
KAZUMA

17
SHOHEI

22
ONAGA

18
ARIA



つぎの 計算を やってみよう！

① $10 + 5$

② $10 + 8$

③ $14 - 4$

④ $17 - 7$

⑤ $12 + 2$

⑥ $11 + 8$

⑦ $15 - 3$

⑧ $19 - 6$



けいさんは サッカーの “きそれんしゅう” といっしょ！
毎日 コツコツ がんばろう